

14 NİSAN 2020

**ÖĞRENCİ
GÖREVLERİ**

HAYAT BİLGİSİ ÇALIŞMAMIZ

Aşağıdaki bilgileri hayat bilgisi defterine en güzel yazınla ve özenle yaz bakalım. Yazdıktan sonra okumayı unutma.

KÜLTÜREL MİRASIMIZ (KÜLTÜREL ÖĞELERİMİZ)

Bir topluma ait düğünler, yemekler, masallar, türküler, dini ve milli bayramlar, ahlak kuralları, halk oyunları, giyinme şekilleri, gelenek ve görenekleri o toplumun **kültürünü** oluşturur.

Gelenek, geçmişten günümüze taşınan alışkanlıklardır.

Görenek, bir şeyi çevremizden ailemizden gördüğümüz gibi yapmaktır.

Aynı ülkenin farklı bölgelerinde farklı yemek türleri, farklı gelenek ve görenekler vb. olabilir.

Ülkedeki insanlar arasında kültürel farklılıklar olması doğaldır. Bu nedenle insanların yaşam şekillerine ve alışkanlıklarına saygı duymalıyız.

Aşağıda ülkemize ait kültürel öğelerden örnek fotoğraflar var. isimlerini defterinize yazın.

Yemeklerimiz



Yukarıdaki yemeklerden farklı 3 tane geleneksel yemek yazın.

Müzik Aletlerimiz



Yukarıdaki müzik aletlerimizden farklı 2 tane geleneksel müzik aleti yazın.

Halk Oyunlarımız



Yukarıdaki halk oyunlarımızdan farklı 2 tane geleneksel halk oyunu yazın.

Sporlarımız



Yukarıdaki sporlarımızdan farklı 2 tane geleneksel spor yazın.

El Sanatlarımız



Yukarıdaki el sanatlarımızdan farklı 2 tane geleneksel el sanatı yazın.

Gelenek ve Göreneklerimiz



Yukarıdaki gelenek ve göreneklerimizden farklı 2 tane gelenek ve görenek yazın.

KESİRLER ÇALIŞMAMIZ

Aşağıdaki problemleri matematik defterine yaz ve cevapla.
Problemleri cevaplarken mutlaka şekil çiz.




PROBLEM 1: Yarısı 9 olan sayının tamamının 9 fazlası kaçtır?

PROBLEM 2: Çeyreği 5 olan sayının 7 eksiği kaçtır?

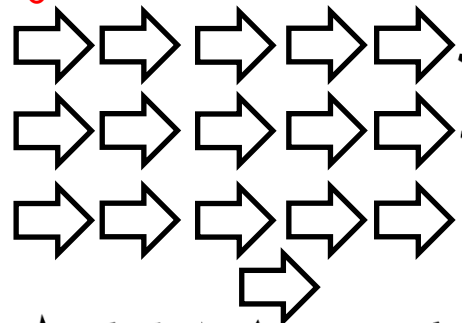


PROBLEM 3: Trende 32 erkek yolcu var. Erkek yolcuların çeyreğinin 3 katı kadarda kadın yolcu vardır. Trende toplam kaç yolcu vardır?

PROBLEM 4: Fırında 30 ekmek vardı. Ekmeklerin sabah 18 tanesi satıldı. Öğlen ise kalan ekmeklerin yarısı satıldı. Fırında kaç ekmek kaldı?

Aşağıdaki şekillerin yarısını örnekteki gibi ayırınız.



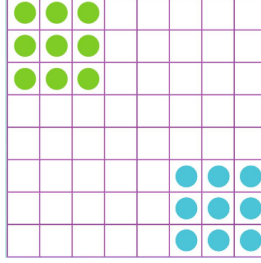
Aşağıdaki şekillerin çeyreğini ayırınız.



OYUN ÖNERİSİ

ÇİN DAMASI

İki oyuncunun da 9 taşı vardır.
Her rakibin dokuz taşı, tahtanın oyunculara göre sağ köşesine üç kareye gelecek şekilde sırayla dizilir.



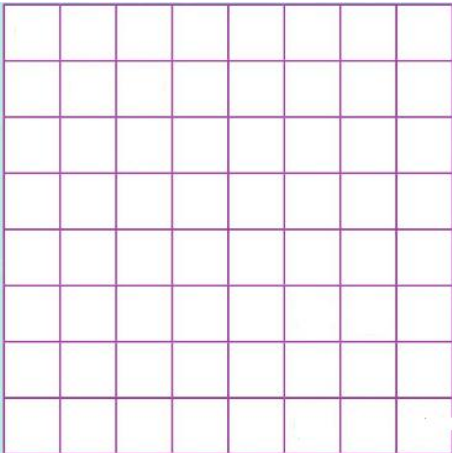
Çin damasında taşlar ileri ve yan olarak tek kare ilerleyebilir.
Eğer önünde atlayacağı taş yoksa Çapraz gitme yoktur.
Geri gitme sadece rakibin 9 taşlık alanında yapılabilir.

Bu oyundaki amaç, rakibinin köşesine dokuz taşınızı ilk dizilişteki gibi taşımaktır. Bu şekilde ilk taşıyan oyunu kazanmış olur.

Kendi taşınızın ve rakibin taşının üzerinden atlanarak gidilebilir.
Oyunda takip edilecek strateji kendinize merdiven tabir edilen araları boş atlanabilecek alanlar açmaktır.

Rakibinizin de taşların üzerinden atlamasını önlemek için taşların arkasındaki boşlukları doldurmanız gerekir.

Oyunu oynamak için aşağıdaki gibi 8 x 8 kare şeklinde bir oyun alanı hazırlamalısınız.



Oyunun oynanışına
Çin Daması Nasıl Oynanır? yazarak
internetten bakabilirsiniz.