




1.SINIF MATEMATİK 2. HAFTA TELAFİ EĞİTİMİ



Aşağıda verilen geometrik şekillerin adlarını eşleştiriniz.



DİKDÖRTGEN

ÜÇGEN

ÇEMBER

KARE



Aşağıda verilen geometrik şekillerle özelliklerini eşleştiriniz.

Eşit uzunlukta dört kenarı ve dört köşesi vardır.


Köşesi ve kenarı yoktur.

3 kenarı ve 3 köşesi olan şekildir.

Birbirine eşit 2 uzun kenarı ve birbirine eşit 2 kısa kenarı vardır. 4 köşesi vardır.



Aşağıda verilen geometrik şekillerin kenar sayısı ve köşe sayısını yazınız.




Kenar sayısı:

Köşe sayısı:



Kenar sayısı:

Köşe sayısı:



Kenar sayısı:

Köşe sayısı:



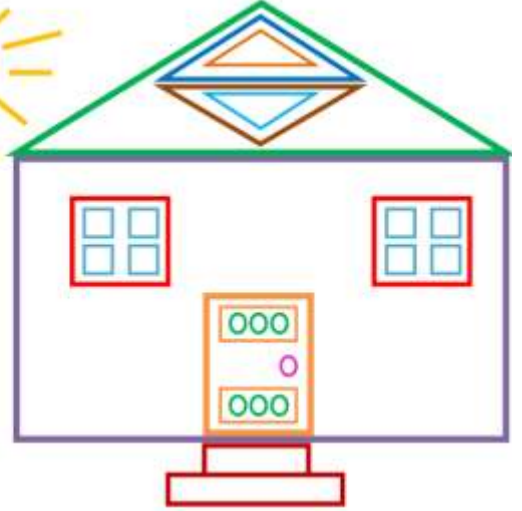
Kenar sayısı:

Köşe sayısı:

İskender07 (İlkokul etkinlikleri)



Aşağıda verilen resmi inceleyerek soruları cevaplayınız.



SORULAR

1-) Yandaki resimde kaç tane çember var?

2-) Yandaki resimde kaç tane kare var?

3-) Yandaki resimde kaç tane üçgen var?

1-) Yandaki resimde kaç tane dikdörtgen var?



Aşağıda verilen şekli inceleyiniz. Hangi geometrik şekilden kaç tane var? Sayılarını şekillerin içine yazınız.



KARE



ÇEMBER



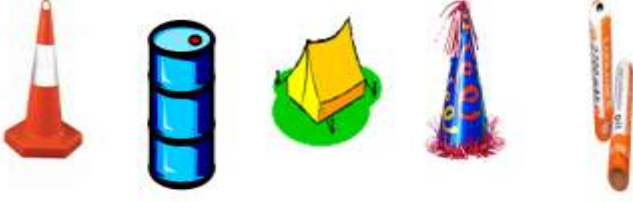
DİKDÖRTGEN



ÜÇGEN



Aşağıda verilen cisimleri şekillerine dikkat ederek eşleştiriniz.



Köşeli ve düz yüzlü

Hem düz yüzlü hem eğri yüzlü

Eğri yüzlü



Aşağıdaki örüntüleri inceleyiniz, örüntünün kuralını yazınız. Noktalı yere gelecek nesnenin adını



Örüntünün kuralı:



Örüntünün kuralı:



Örüntünün kuralı:



Örüntünün kuralı:



Örüntünün kuralı:



Örüntünün kuralı:

İskender07 (İlkokul etkinlikleri)

Aşağıdaki soruları tabloya göre cevaplayınız.

Tablo:1/A Sınıfı En Sevilen Futbol Takımları

Futbol Takımları	Öğrenci Sayısı
Trabzonspor	  
Fenerbahçe	       
Beşiktaş	   
Galatasaray	     

NOT: Her şekil 1 öğrenciyi göstermektedir.

SORULAR

1-) 1/A Sınıfında en çok sevilen takım hangisidir?

2-) Galatasaray takımı seven öğrenci sayısı kaçtır?

3-) Trabzon ve Beşiktaş takımlarını seven öğrenci sayısı, Fenerbahçe takımını seven öğrenci sayısından kaç azdır?

4-) 1/A Sınıfında toplam kaç öğrenci vardır?

• Aşağıdaki kapları bir su bardağıyla doldurmak istediğinizde hangisi sonra dolar? İşaretleyiniz.



İskender TAŞ