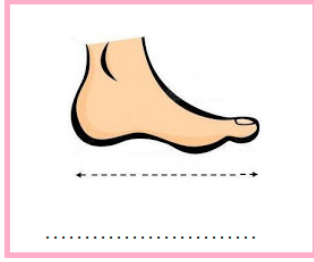
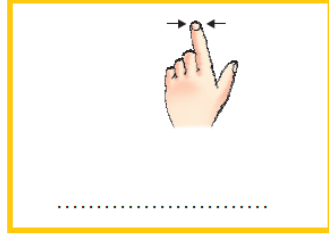
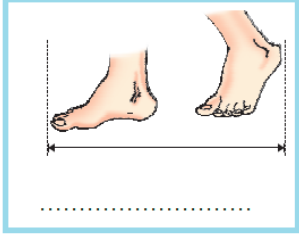

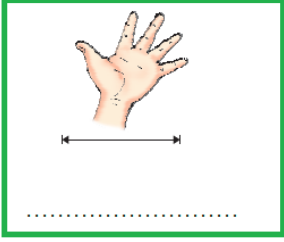


ADI SOYADI:

Görsellere göre standart olmayan uzunlukların adlarını yazalım



Daireler içine onluk bloklarla gösterilen sayıları yazalım

MINI TEST

3 ve 7 rakamlarıyla yazılan en büyük ve en küçük sayının farkı kaçtır?

A) 38

B) 37

C) 36




6 koyun ile 8 horozun ayakları toplamı kaçtır?

A) 50

B) 40

C) 30



Bölünen makas sayısı ,bölen 5 olan bir bölme işleminde bölüm kaçtır?

A) 8

B) 7

C) 6

Uçurtma	
Balon	

Yukarıda verilenlere göre balon sayısı uçurtma sayısı toplamı hangi onluğa yakındır?

A) 30

B) 40

C) 50

İşlem sonuçlarını yazalım.

$$\begin{array}{r} 3 \\ \times 6 \\ \hline \end{array}$$
$$\begin{array}{r} 7 \\ \times 5 \\ \hline \end{array}$$
$$\begin{array}{r} 4 \\ \times 4 \\ \hline \end{array}$$
$$\begin{array}{r} 8 \\ \times 2 \\ \hline \end{array}$$

$$\begin{array}{r} 3 \\ \times 7 \\ \hline \end{array}$$
$$\begin{array}{r} 5 \\ \times 5 \\ \hline \end{array}$$
$$\begin{array}{r} 10 \\ \times 4 \\ \hline \end{array}$$
$$\begin{array}{r} 2 \\ \times 9 \\ \hline \end{array}$$

Bölme işlemlerini yapalım.

$$12 \overline{) 2}$$
$$9 \overline{) 3}$$
$$10 \overline{) 2}$$

$$20 \overline{) 5}$$
$$24 \overline{) 3}$$
$$36 \overline{) 4}$$

Matematik Tekrar 37

Verilen sayılardan başlayarak üçer geriye yazalım.


75

60

24

Toplama ve çarpma işlemi şeklinde gösterelim.

$$\dots + \dots + \dots + \dots + \dots + \dots = \dots$$



$$\dots \times \dots = \dots$$

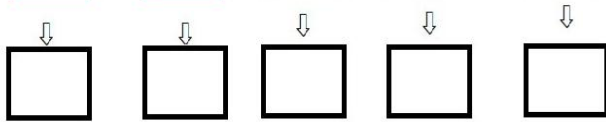

Sabah verilen zamanda kalkan Oya, yarım saat sonra kahvaltı yapmıştır. Oya'nın kahvaltı yaptığı saat kaçtır?



.

İşlemlerin sonuçlarını bulalım, sonuçların en yakın onluğunu yazalım.

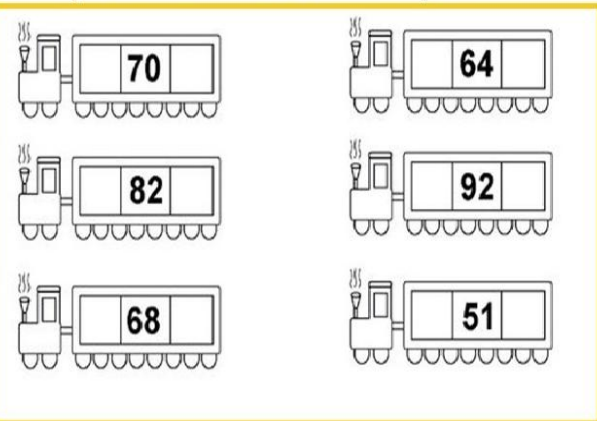
$$\begin{array}{r} 63 \\ - 26 \\ \hline \end{array}$$
$$\begin{array}{r} 19 \\ + 51 \\ \hline \end{array}$$
$$\begin{array}{r} 93 \\ - 28 \\ \hline \end{array}$$
$$\begin{array}{r} 37 \\ + 49 \\ \hline \end{array}$$
$$\begin{array}{r} 75 \\ - 57 \\ \hline \end{array}$$



Standart olmayan uzunluk ölçme araçlarını boyyalım.

karış	metre	adım
kova	parmak	kaşık
cetvel	cezve	fincan
ayak	bardak	kulaç

Sayıların öncesini ve sonrasını yazalım.



İşlemlerle doğru sonuçları eşleştirelim.

21 22 23 24 25 26 27 28 29 30

$$8 \times 3$$
$$90 - 60$$
$$16 + 11$$
$$53 - 31$$
$$5 \times 5$$
$$19 + 10$$