

07 Nisan 2020

**ÖĞRENCİ
GÖREVLERİ**

MİLLİ BAYRAMLARIMIZ



Aşağıdaki kelimeleri kullanarak, metindeki boşlukları doğru şekilde doldurun.

Hayat bilgisi defterinize yazın. Sonra öğrenene kadar okuyun olur mu 😊

EGEMENLİK – İLAN – YENİLİK – DÜŞMANLAR – ÇOCUK
SAMSUN – BANDIRMA – KONGRELER – CUMHURİYET
ZAFER – GENÇLİK – ANKARA

Birinci Dünya Savaşı sonunda yurdumuz tarafından işgal edildi. Bunun üzerine Atatürk Vapuru ile İstanbul'dan Samsun'a hareket etti. Atatürk'ün Kurtuluş Savaşı mücadelesini başlatmak için” a gittiği 19 Mayıs gününü Atatürk'ü Anma, Ve Spor Bayramı olarak kutlarız.

Atatürk Samsun'dan sonra Erzurum ve Sivas'a giderek yaptı. Halkı etrafında topladı. 23 Nisan 1920'de’da Türkiye Büyük Millet Meclisi’ni açtı. Bugünü Ulusal ve bayramı olarak kutlarız.

Kurtuluş Savaşı mücadelesinin son savaşı olan Büyük Taarruz’un zaferle sonuçlandığı 30 Ağustos gününü Bayramı olarak kutlarız.

Atatürk düşmanları yurdumuzdan attıktan sonra da bir çok yaptı. Bunların en önemlisi 29 Ekim 1923'te cumhuriyeti etti. Bugünü de Bayramı olarak kutlarız.

☺ PROBLEMLERİMİZ ☺

Problemleri matematik defterine yaz ve cevapla bakalım.

PROBLEM 1:

30 yumurtanın 1 düzinesi kırıldı.
Geriye kalanlar dörderli
paketlenirse kaç paket oluşur?

PROBLEM 2:

Bir sürahi 8 bardak ile doluyor.
2 sürahi sütten 10 bardak süt
içilirse, kaç bardak süt kalır?


PROBLEM 3:

9 doğal sayısının 4 katının 52
fazlası kaçtır?

PROBLEM 4:



34'ten küçük en büyük sayı



Alfabemizdeki harf sayısı

Buna göre  -  kaçtır?

😊 MATEMATİK ÇALIŞMAMIZ 😊

✓ Bir takımdaki futbolcuların formaları sayı örüntüsü oluşturmaktadır. Sadece kalecinin forma numarası örüntüyü bozmaktadır.

Kaleci kimdir? Örüntüyü bozmaması için kalecinin forma numarası kaç olmalıdır?



✓ Türkçe, İngilizce, Japonca dillerinin alfabelerinde bulunan harf sayılarını bulun. Daha sonra soruları cevaplayın.

Türk Alfabeti	İngiliz Alfabeti	Japon Alfabeti
9 birlik + 2 onluk	2 düzine - 1	4 deste + 6
<input type="text"/>	<input type="text"/>	<input type="text"/>

1- En çok harf hangi alfabede vardır?

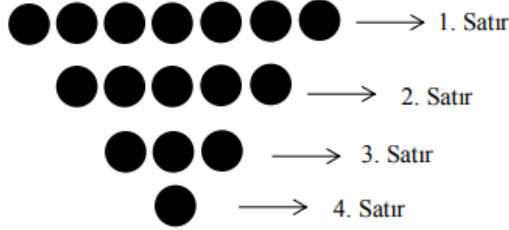
2- En az harf hangi alfabede vardır?

3- Alfabelerin harf sayılarını büyükten küçüğe doğru sıralayın.

☺ GÜNÜN OYUNU ☺

NİM OYUNU

✓ Öncelikle oynamak için elimizde bulunan 16 adet aynı türden nesneyi (fasulye, nohut, boncuk, düğme vb.) aşağıdaki gibi diziyoruz.




✓ Oyuna başlayan oyuncu istediği satırdan (yalnızca bir satırdan) istediği kadar nesne alarak oyuna başlar.

Örneğin; 1. satırda 7 tane nesne var. Bu satırdan 1 nesne alabilir. 2 tane de, 3 tane de vb. tamamını da alabilir.

✓ Sıra rakibe geçtiğinde rakipte aynı şekilde hareket eder. Her oyuncu bir hamle yapar, sıra rakibe geçer. Son nesne kim alırsa, o oyuncu oyunu kaybeder.

Yanlış Hamleler



Yandaki iki resimde de hamleler yanlıştır.

1. Resimde alınan nesneler satırın ortasından alınmıştır.

Nesneler satırın sağından ya da solundan alınmalıdır.

2. Resimde farklı satırdan nesneler alınmıştır. Nesneler aynı satırdan alınmalıdır.

Doğru Hamle

İstenilen tek bir satırın sağından ya da solundan, istenilen sayıda nesne alınmıştır.

