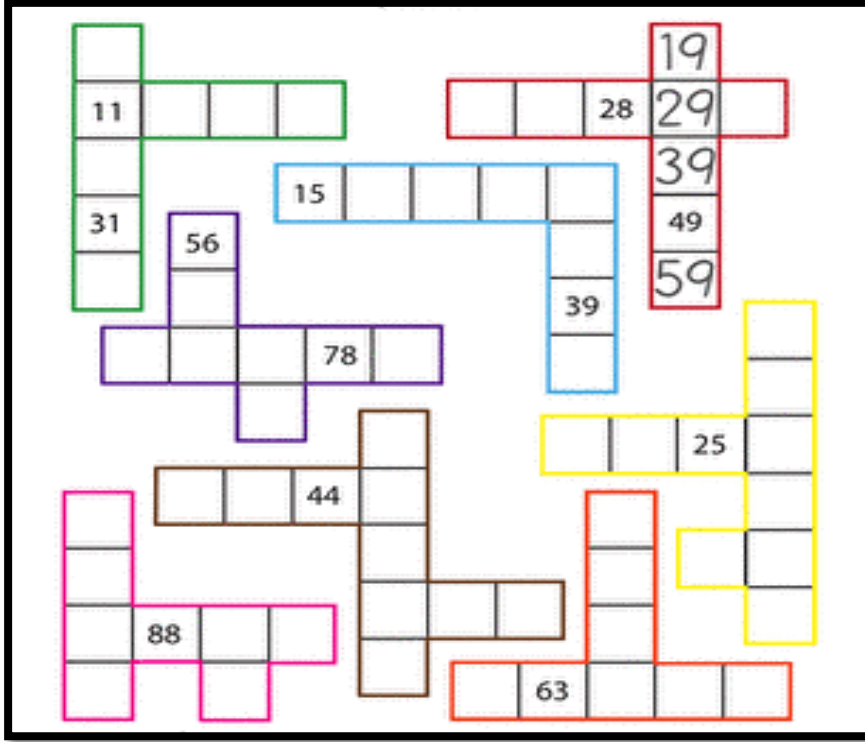


ADI SOYADI:

MINI TEST

Soldan sağa doğru birer, yukarıdan aşağıya doğru onar ilerleyecek şekilde boşlukları dolduralım



38 sayısının 28 eksiğinin 5 katı kaçtır?

- A) 40 B) 50 C) 60

15.45

Yukarıdaki saatin okunuşu kaçtır?

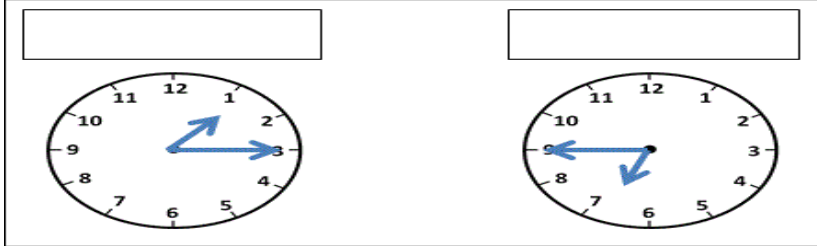
- A) Üç buçuk  
B) Üçü kırk beş geçiyor  
C) Dört kırk beş

$$\begin{array}{r} 20 - 10 = 10 \\ 10 - 10 = 0 \end{array}$$

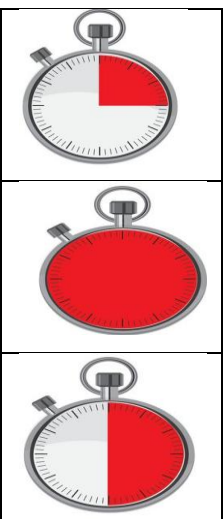
Çıkarma şeklinde verilen işlemin bölme ile gösterimi hangi seçenektir?

- A)  $20 : 10$  B)  $20 : 4$  C)  $20 : 2$

Saatlerin kaçı gösterdiklerini yazalım




Eşleştirmeyi yapalım



BÜTÜN


YARIM

ÇEYREK



Yukarıdaki nesne sayısının onluk ve birliği kaç tanedir?

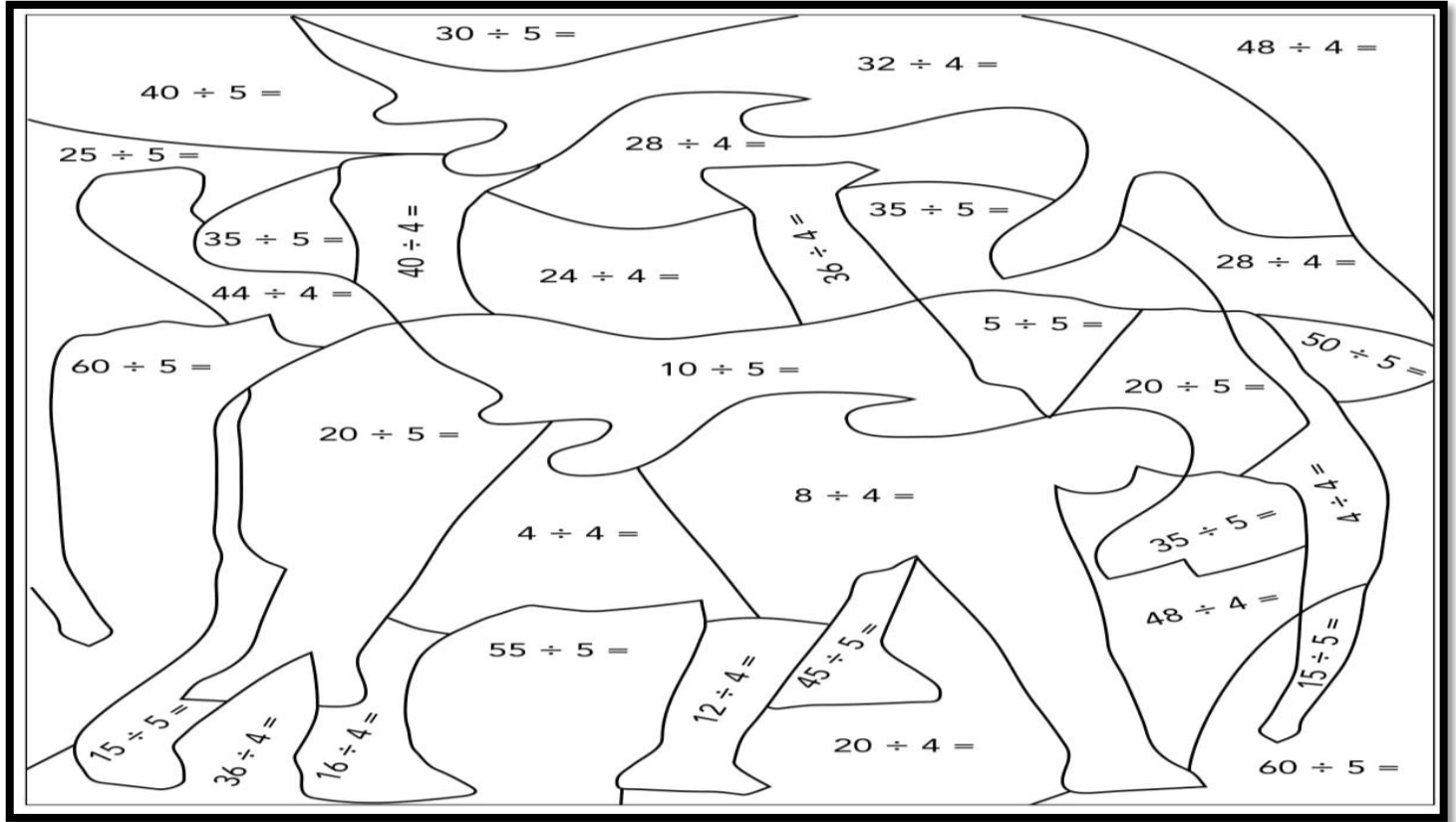
- A) 3 onluk + 7 birlik  
B) 3 onluk + 8 birlik  
C) 3 onluk + 9 birlik



Yukarıdaki nesne sayısını üçerli gruplarsam kaç grup oluşur?

- A) 8 B) 9 C) 10

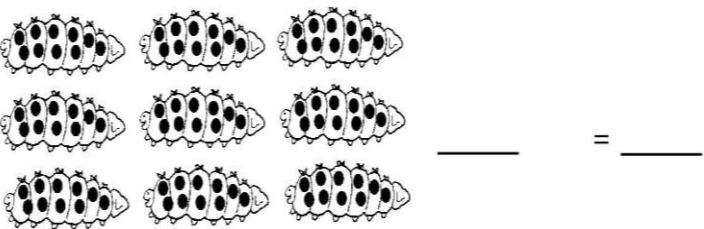
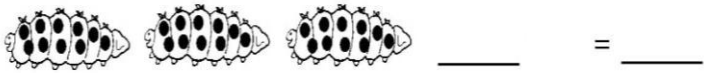
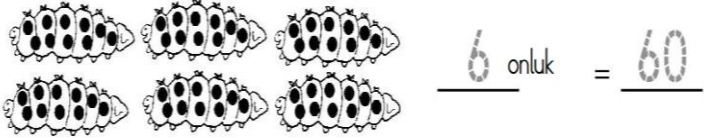
İşlem sonuçlarını verilen renklere göre boyayalım



1 ile 4 arası gri

5 ile 12 arası yeşil

Sayıları örnekteki gibi yazalım



İşlem sonuçlarını yazalım

30	75	61	54	18
<u>+39</u>	<u>+ 3</u>	<u>+30</u>	<u>+ 2</u>	<u>+20</u>
69				

1	44	67	83	2
<u>+29</u>	<u>+20</u>	<u>+10</u>	<u>+ 3</u>	<u>+41</u>

90	3	54	74	38
<u>+ 3</u>	<u>+18</u>	<u>+30</u>	<u>+ 2</u>	<u>+10</u>

2	21	36	55	67
<u>+59</u>	<u>+ 3</u>	<u>+20</u>	<u>+10</u>	<u>+ 2</u>