


ÖRÜNTÜ KURALINI BULUYORUM-2


Aşağıda verilen örüntülerin kurallarını bulup altına yazınız.



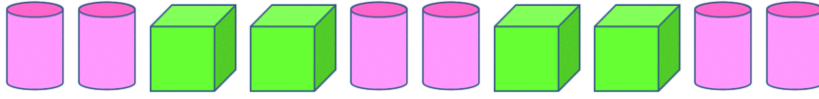
Örüntünün kuralı : 1 kare, 1 üçgen



Örüntünün kuralı :



Örüntünün kuralı :



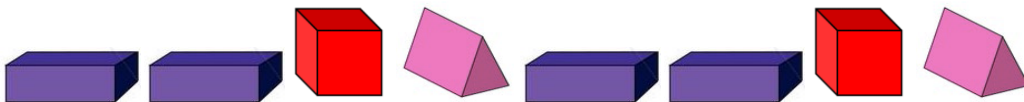
Örüntünün kuralı :



Örüntünün kuralı :



Örüntünün kuralı :



Örüntünün kuralı :