



**1. SINIF  
DENEME  
SINAVI**

Adı ve Soyadı:.....

Sınıfı/Şubesi :..... Numarası:.....

Okulu:.....

## TÜRKÇE TESTİ

(Bu test 10 sorudan oluşmaktadır)

Annesi Saliha'ya oyuncak bir ayı aldı. Saliha ayının adını Yumoş koydu. Halasına oturmaya giderken Yumoş'u da götürdü. Halasının kızı Şeyma ile birlikte oynadılar. Akşam eve dönme vakti geldiğinde çok üzüldü. Şeyma ile çok güzel oyunlar oynuyor ve eğleniyorlardı.

(İlk 2 soruyu yukarıdaki metne göre cevaplayın)

- 1- Saliha oyuncuğına ne isim koymuştur?
  - A) Yumak
  - B) Ayıcık
  - C) Yumoş
  
- 2- Saliha akşam eve dönme vakti geldiğinde hangi duyguyu yaşamıştır?
  - A) Sevinç
  - B) Üzüntü
  - C) Şaşkınlık
  
- 3- Aşağıdaki sözcüklerden hangisinin yazımı doğrudur?
  - A) Kütüphane
  - B) Pilastik
  - C) Konşu

4- Aşağıdaki cümlelerden hangisinde yazım yanlışı yapılmıştır?

- A) Kayra'nın oyuncacı kırıldı.
- B) Uçak Konya'dan havalandı.
- C) Kedisi mırmır çok uykucu.

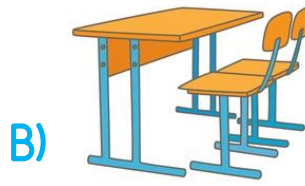
ka

sa

ma

de

5- Yukarıdaki hecelerle aşağıdaki görsellerden hangisinin adı oluşturulamaz?



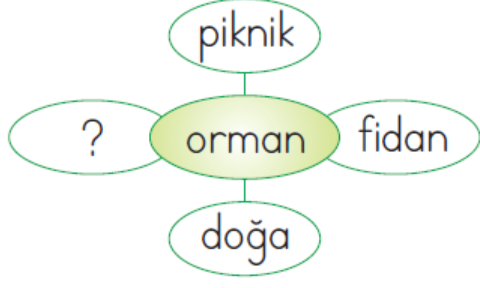
- Maçı 5 gol farkla biz kazandık.
- ▲ Arkadaşlarım futbol oynamak için çağırdı.
- ★ Topumu aldım ve parka gittim.

6- Yukarıdaki cümleleri oluş sırasına dizersek şekillerin dizilimi nasıl olur?

- A) ★ ▲ ■
- B) ■ ▲ ★
- C) ▲ ★ ■

7- Aşağıdaki cümlelerden hangisinin sonuna farklı bir noktalama işareti konulmalıdır?

- A) İlbahar gelince çiçekler açmaya başladı
- B) Karşıya nasıl geçeceğim
- C) Okullar pazartesi başlıyor



8- Yandaki soru işareti olan yere hangi kelime gelmelidir?

- A) uçak
- B) öğrenci
- C) ağaç

Bugün okulda yazı yazamadım çünkü \_\_\_\_\_ yoktu.

9- Yukarıdaki cümlede boş bırakılan yere hangi kelime yazılmalıdır?

- A) kalemim
- B) çantam
- C) silgim

Küçük çocuk hızlı adımlarla yürüyordu.




10- Yukarıdaki cümlede renkli verilen sözcüklerin zıt anlamları hangi seçenekte doğru verilmiştir?

- A) İri - acele
- B) Minik - süratli
- C) Büyük - yavaş

## MATEMATİK TESTİ




(Bu test 10 sorudan oluşmaktadır)


1- 1 onluk 7 birlikten oluşan nesne sayısı hangi seçenekte verilmiştir?

- A) 
- B) 
- C) 

Saat üç buçukta okuldan gelen Zeynep 3 saat sonra ödevlerini yapmaya başlamaktadır.

2- Yukarıdaki bilgiye göre aşağıdaki saatlerden hangisi Zeynep'in ödevlerini yapmaya başladığı saati göstermektedir?

- A) 
- B) 
- C) 



3- Yukarıdaki karpuzlar kaç adet yarım karpuz eder?

- A) 6
- B) 8
- C) 12



4- Yandaki takvime göre 19 Nisan hangi gündür?

- A) Pazartesi
- B) Pazar
- C) Cumartesi

Melina 26 sayfalık bir hikaye kitabının ilk önce 7 sayfasını sonra 9 sayfasını okumuştur.

5- Yukarıdaki bilgilere göre Melina'nın bu kitabı bitirmesi için kaç sayfa daha okuması gerekmektedir?

- A) 10
- B) 13
- C) 16



23TL

6- Yusuf yandaki oyuncacı almak için satıcıya 30 TL para vermiştir. Geriye kaç TL para üstü almalıdır?

- A) 
- B) 
- C) 

$$\square + 4 = 12$$

$$8 + \square = 10$$

7- Yukarıdaki işleme göre  $\square + \square$  işleminin sonucunu kaçtır?

A) 10

B) 11

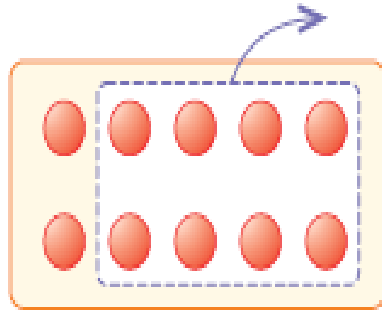
C) 12

8- Aşağıdaki geometrik şekillerden hangisi bir örüntü değildir?

A) 

B) 

C) 



9- Yukarıdaki modelle gösterilen çıkartma işlemi aşağıdakilerden hangisidir?

A) 8-2

B) 10-8

C) 10-2

Ahmet 8 yaşındadır. Ferhat ve Kenan Ahmet'ten 3 yaş küçüktür.

10- Yukarıdaki bilgilere göre Ahmet, Ferhat, Ahmet'in yaşları toplamı kaçtır?

A) 11

B) 16

C) 18

## HAYAT BİLGİSİ TESTİ

(Bu test 10 sorudan oluşmaktadır)

- 1- Aşağıdaki besinlerden hangisi hayvansal besin değildir?  
A) et B) yumurta C) reçel

- 2- Oyun oynamak için hangi alan güvenlidir?



Babamızın erkek kardeşine ..... , kız kardeşine ..... deriz.

- 3- Yukarıda boş bırakılan yerlere sırayla ne yazılmalıdır?

- A) dayı-hala  
B) amca-teyze  
C) amca-hala

Yardımlaşma

Saygı

İş bölümü

Öfke

- 4- Yukarıdakilerden kaç tanesi aile bireylerini bir arada tutan değerlerdendir?




- A) 3 B) 2 C) 1



5- Aşağıdakilerden hangisi temel ihtiyaçlarımızdandır?

- A) Telefon
- B) Bilgisayar
- C) Yemek

6- Aşağıdakilerden hangisi kişisel bakım için kullanılan bir eşya değildir?

- A) 
- B) 
- C) 

7- Aşağıdakilerden hangisi evde dikkat etmemiz gereken güvenlik kurallarından biri değildir?

- A) Çakmak ve kibrit gibi eşyaları oynamamak
- B) Merdivenlerden çıkmak
- C) Prizle oynamak

8- Aşağıdakilerden hangisi yapmak trafik güvenliğimiz için tehlikelidir?

- A) Alt ve üst geçitleri kullanmak
- B) Duran taşıtların arasından geçmek
- C) Kaldırımdan yürümek

9- Aşağıdakilerden hangisi bağımsızlık sembollerimizdir?

- A) Bayrak - İstiklal Marşı
- B) Meclis - Bayrak
- C) İstiklal Marşı - Meclis

▲ İstanbul'da doğmuştur.

■ Annesinin adı Zübeyde, babasının adı Ali Rıza Efendi'dir.

● Anıt mezarı Ankara'da Anırkabir'dir.

10- Atatürk'le ilgili yukarıdaki bilgilerden hangileri doğrudur?

- A) ▲ ●
- B) ■ ▲
- C) ● ■

Sevgili ÖĞRETMEN ve VELİLERİMİZ;  
Deneme Sınavına Teşekkür Mahiyetinde  
Sosyal Medya Sayfamızı Beğenirseniz  
Çok Mutlu Oluruz.

Aşağıdaki Linklerden Bizlere Ulaşabilirsiniz.

[www.ilkokulevim.com](http://www.ilkokulevim.com)

[www.instagram.com/ilkokulevim](http://www.instagram.com/ilkokulevim)

[www.facebook.com/ilkokulevim](http://www.facebook.com/ilkokulevim)

[www.facebook.com/groups/272489210266407/](http://www.facebook.com/groups/272489210266407/)

[t.me/ilkokulevim](https://t.me/ilkokulevim)

### CEVAP ANAHTARI

TÜRKÇE	MATEMATİK	HAYAT BİLGİSİ
1-C	1-B	1-C
2-B	2-C	2-A
3-A	3-A	3-C
4-C	4-C	4-A
5-B	5-A	5-C
6-C	6-B	6-B
7-B	7-A	7-C
8-C	8-C	8-B
9-A	9-B	9-A
10-C	10-C	10-C