

TÜRKÇE



İşte yine bir bayram sabahı. Çok heyecanlı, sevinçli ve gururluyum. Bu gün 29 Ekim Cumhuriyet Bayramı. Atatürk'ün önderliğinde Türk milleti bütün dünyaya yeni devletimizin adını duyurdu. İşte bugün ülkemiz Türkiye Cumhuriyeti'nin doksan altıncı doğum günü.

1. ve 2. soruyu yukarıdaki metne göre cevaplamalısın.


- 1) Yukarıdaki metne göre o gün hangi bayram varmış?
A) 30 Ağustos Zafer Bayramı
B) 29 Ekim Cumhuriyet Bayramı
C) 23 Nisan Ulusal Egemenlik ve Çocuk Bayramı

- 2) Yandaki metne göre Türkiye Cumhuriyeti kaç yaşına girmiştir?
A) Doksandokuz
B) Yüz
C) Doksan altı

- 3)  Satır sonuna sığmayan kelimelerden hangisi yanlış bölünmüştür?


- A) Halam bugün bize gelmeyecekmış.
B) Sonbahar geldiği için yağışlar başladı.
C) Yemek yerken konuşmuyoruz.

- 4) Köpeklerin tuttuğu kelimelerden hangisi sözlükte daha önce yer alır?




- 5) Aşağıdaki Atatürk'ün kişisel özelliklerinden hangisinde en fazla hece vardır?
A) çalışkan
B) disiplinli
C) sabırlı




- 6)  Siyah-kara sözcükleri arasındaki anlam ilişkisi hangi seçenekteki kelimeler arasında vardır?

- A) Sevinç - mutluluk
B) İyi - kötü
C) Güzel - çirkin

- 7)  Nasrettin Hoca'nın biraz yaşlandı çocuklar. Hangi cümlenin sonuna yanlış işaret koymuşum?

- A) Karakaçan samanını yedi mi?
B) Hanım, kuru fasulye mi pişirdin.
C) Eyvah, eve hırsız girmiş!

- 8)  Ah bu Şakir yazarken yanlışlıklar yapıyor yine. Cümlelerden hangisini doğru yazmış?

- A) necati yemekte ne yedin.
B) Annemin adı kadriye.
C) Kitap okumayı çok severim.

9



Günü aydınlatan sen;
Bize ışık vermesen
Karanlıkta kalırız;
Sensiz bunalırız.

Canan'ın okuduğu şiirin konusu nedir?

A)



B)




C)



10

Kelebekler eş anlamlısının bulunduğu çiçeklere konacaktır. Hangi kelebek konacak çiçek bulamaz?



A)



B)



C)



11



Yazılışı doğru olan şirin çileği olmuş demektir. Hangi çileği koparmalıyım?

A)



B)



C)



12

Aşağıdaki cücelerden hangisi konuşurken doğru davranmaktadır?

A)



Konuşurken işitilebilir bir ses tonuyla konuşurum.

B)



Konuşurken diğer insanlarla göz teması kurmam.

C)



Konuşan arkadaşlarımla sözlerini keserim.

13



Hangi cümlede zıt anlamlı kelimeler bir arada kullanılmıştır?

- A) Hava çok sıcak ama ayranım buz gibi.
B) Kötü günlerden sonra güzel olaylar yaşamaya başladık.
C) Dışarıda hava çok soğuktu, içeriye girince önce ellerimi ısıttım.

14



Hangi cümlede ünlem işareti yanlış kullanılmıştır?

- A) Bana kalem getirdin mi!
B) Yaşasın kar yağmış!
C) Emrah, buraya gel!

15


Hangi cümlede soru eki olan mı eki doğru yazılmıştır?

- A) Biraz daha süt ister misin?
B) Kalemimi kaybettin mi?
C) Sonbahar mevsiminde miyiz?



MATEMATİK

1




Yukarıda kaç tane kalemтираş vardır?

- A) 68 B) 69 C) 78

2

Aşağıdaki üç kuştan hangisi 45 sayısı söylemektedir?



5 onluk
4 birlik

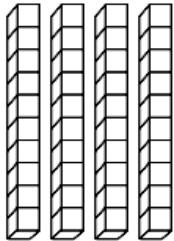
5 birlik
4 onluk

B)

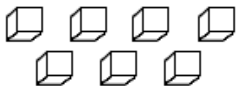


40 onluk
5 birlik

3



Modellenen
sayı kaçtır?

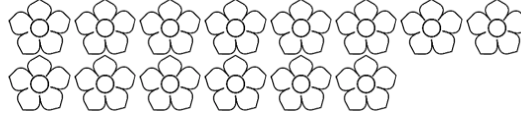


- A) 74 B) 47 C) 44

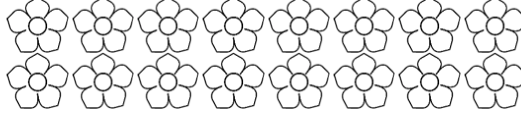
4

Aşağıdaki çiçek gruplarından hangisine 6 çiçek daha eklersem iki düzine çiçek olur?


A)



B)



C)



5

Basamak değerleri 9 ve 80 olan iki basamaklı sayı hangisidir?

- A) 98 B) 99 C) 89




6



Dörder dörder sayarken bazen şaşırıyorum. Yazdıklarımın hangisi doğrudur?

- A) 4-8-12-16-20-24-28-32-36-40
B) 4-8-12-16-18-20-24-28-32-40
C) 4-8-12-16-20-22-24-26-28-40

7




Aşağıdaki sayı örüntüsünde boş çiçeklerin içine sırayla hangi sayılar yazılmalıdır?




- A) 16-18 B) 15-18 C) 14-18

8


Aşağıdaki trende örüntüyü devam ettirsek sonraki üç vagona hangi sayılar olur?




A)



B)



C)



9



54 küçüktür \square 2'den.
Kutucuğa hangi rakam
gelirse ifade doğru olur?

- A) 4 B) 5 C) 6

10



Bir koşu yarışmasında Ömer 22. ,
Elasu 1. , Yunus 14. ve
Necati 10. olduğuna göre yarışmacılar
başarı sırasına göre nasıl sıralanır?
A) Elasu - Necati - Yunus - Ömer
B) Elasu - Ömer - Yunus - Necati
C) Elasu - Necati - Ömer - Yunus

11



Kartopumdaki sayıyı en
yakın hangi onluğa
yuvarlarım?

- A) 50 B) 60 C) 70

12



Dostum İdefiks çok zeki bir
köpek. Aşağıdaki toplama
işlemlerini yaparsa hangi
sayıya ulaşır?

$$\begin{array}{r} 37 \\ 42 \\ + \\ \hline \square\square \end{array} \quad \begin{array}{r} \square\square \\ 18 \\ + \\ \hline \square\square \end{array}$$

- A) 97 B) 93 C) 98

13



Kafesimin kapısı şifreli.
Aşağıdaki toplama
işleminin sonucu kilidin
şifresidir. Şifre kaçtır?

$$\begin{array}{r} 29 \\ 35 \\ + \\ \hline \square\square \end{array} \quad \begin{array}{r} 65 \\ 54 \\ 64 \end{array}$$

14



Sihirli iksiri bulmam için
aşağıdaki çıkarma
işlemlerini yapıp doğru
sonuca ulaşmalıyım.
Doğru iksirin üzerinde
hangi sayı vardır?

$$\begin{array}{r} 94 \\ 21 \\ - \\ \hline \square\square \end{array} \quad \begin{array}{r} \square\square \\ 47 \\ - \\ \hline \square\square \end{array}$$



15



Elimdeki sayı hangi çıkarma
işleminin sonucudur?

$$\begin{array}{r} 90 \\ - 30 \\ \hline \end{array} \quad \begin{array}{r} 80 \\ - 30 \\ \hline \end{array} \quad \begin{array}{r} 90 \\ - 20 \\ \hline \end{array}$$

HAYAT BİLGİSİ

1 Aşağıdaki öğrencilerden hangisi fiziksel özelliklerinden bahsetmiştir?

Basketbol oynamayı severim.

İleride gitar çalmak istiyorum.


Kıvırcık saçlarımı seviyorum.



Ayşe Elif Özge

A) Ayşe B) Elif C) Özge

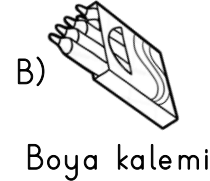
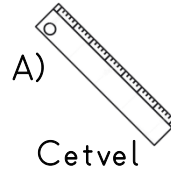
2 Aykut matematik dersinde çok başarılıyken, İrem su kitap okumayı çok sevmektedir. Buna göre bu iki öğrenci hakkında ne söyleyebiliriz?



A) İki öğrenci arasında bireysel farklılıklar vardır.
B) İki öğrencinin de hoşlandıkları şeyler aynıdır.
C) İrem su ve Aykut ileride aynı mesleği seçeceklerdir.

3 Aşağıdaki ders programına göre İpek, Perşembe günü okul çantasına hangisini koymamalıdır?

PERŞEMBE
Hayat B.
Türkçe
Türkçe
Matematik
Görsel San.
Serbest Etk.




4 Aşağıdakilerden hangisi sınıf kuralı değildir?




A) Söyleyeceğim şey önemliyse arkadaşlarımla sözünü kesebilirim.
B) Arkadaşlarımızın haklarına ve düşüncelerine saygı göstermeliyiz.
C) Konuşmak için parmak kaldırıp söz almalıyız.

5 Okula gidip gelirken hangisini yapmamalıyız?



A) Okulun yakın çevresindeki belli başlı yapıları belirlemeliyim.
B) Okula güvenli olmasa da en kısa yoldan gidip gelmeliyim.
C) Okulumun bulunduğu mahalle, cadde, sokak isimlerini bilmeliyim.

6 Aşağıdakilerden kaç tanesi okulda kullandığımız kaynaktır?



- Elektrik
- Su
- Yakacak
- Temizlik malzemesi
- Diş macunu

A) 5 B) 3 C) 4


7 Öğretmen sınıfa, grup çalışmaları sırasında nelere dikkat edilmelidir diye sormuş. Hangi öğrencinin verdiği cevap yanlıştır?


A) Rekabet ve yarışma

B) İşbirliği ve yardımlaşma

C) Paylaşım ve anlayış

8  Hangi muzu seçersem doğru bir davranışı seçmiş olurum?


A)  B)  C) 

9  Dinleme yaparken hangi davranışı yapmamalıyım?

- A) Konuşan kişinin sözlerini kesmemeliyim.
B) Katılmadığımız düşünceleri bile saygıyla dinlemeliyim.
C) Konuşanı dinliyormuş gibi yapmalıyım.

10  Uzun süredir ebeyim, ne yapmalıyım?


- A) Kimse görmeden mendilin altından bakmalıyım.
B) Sabırla ve dürüstçe ebeliğe devam etmeliyim.
C) Mendili çıkarıp ağlamaya başlamalıyım


11  Merhaba ben Hayri. Artık tutumlu olmaya karar verdim. Ne yapmalıyım?




- A) Önce isteklerimi almalıyım.
B) İhtiyaçlarımı almayıp para biriktirmeliyim.
C) Bir kumbara edinip, para biriktirmeli ve bu parayı ihtiyaçlarım için kullanmalıyım.

12 Elif, Can ve Emre'ye öğretmen birlikte yapacakları bir ödev vermiştir. Söylediklerine göre hangisinin davranışı doğrudur?




A)  Ben tek başıma yapacağım.

B)  Benim istediklerim olacak.

C)  Bu ödevi ortak kararlar olarak beraber yapacağız.


-  Kurallar sınıfın düzeni içindir.
 Kurallar öğretmen istediği içindir.
 Kurallara uymazsak sınıfın düzeni bozulur.


13 Yukarıdaki cümlelerden hangisi yanlıştır?

- A)  B)  C) 

14 Yandaki resimde gördüğünüz oyun hangisidir?

- A) Körebe
B) Saklambaç
C) İstop



15  Merhaba ben Niloya. Çok istediğim kaykayı almak için 30 liram var. Ama kaykay 100 lira. Ne yapmalıyım?

- A) Anne ve babamdan kaykayı almaları için ağlamalıyım.
B) İsteklerimi almayarak kumbaramda para biriktirmeliyim.
C) Arkadaşım Mete'den borç para istemeliyim.