



Bayrak yarıya çekilmiş,
Atatürk'üm öldü diye.
En son yaprak da dökülmüş
Atatürk'üm öldü diye.

Sürü yas tutmuş ovada,
Kuşlar susmuş yuvada,
Rüzgar esmez olmuş dağda,
Atatürk'üm öldü diye.

Necati Öngay

İlk 3 soruyu şiire göre cevaplayınız.

1- Şiirde hangisinden bahsedilmemiştir?

- A) Ağaçtaki son yaprağın dökülmesinden
- B) Dağda rüzgarın esmemesinden
- C) Dağda gezer keçiden

2- Şiirde "Sürü yas tutmuş ovada, Kuşlar susmuş yuvada," dizeleri ile şairin anlatmak istediği aşağıdakilerden hangisi olabilir?

- A) Atatürk'ün ölmesi nedeniyle gelişen durumlar.
- B) Sürüler ve kuşların başka hayvanlardan korkması nedeniyle sessiz kalması.
- C) Sürüler ve kuşların yeni arkadaş arıyor olmaları

3- Bu şiirin başlığı aşağıdakilerden hangisi olamaz?

- A) On Kasım
- B) Atatürk
- C) Cumhuriyet

4- Aşağıdaki sözcüklerden hangisi sözlükte önce gelir?

- A) kapı
- B) kasaba
- C) kasırga

5- Aşağıdakilerden hangisi hecelerine doğru ayrılmıştır?

- A) e-lekt-rik
- B) t-rak-tör
- C) k-ro-ki

6- Aşağıdaki cümlelerin hangisinde "dal" sözcüğü diğerlerinden farklı bir anlamda kullanılmıştır?

- A) Ördek suya daldı.
- B) Denize dalıp saatlerce yüzdüler.
- C) Elma ağacının dalı kırıldı.





“Annemler yarın otobüsle otopara gelecekler.”

7- Yukarıdaki cümle ile ilgili aşağıda verilen bilgilerden hangisi doğrudur?

- A) 5 kelime,16 hece,38 ses vardır
- B) 5 cümle,17 hece,38 ses vardır.
- C) 5 kelime,17 hece 38 ses vardır.

Eyvah()Hatice()Fatma ve Yeşim () i çağırmaı unuttum()

8- Yukarıdaki cümlede parantezlerin içine sırası ile hangi noktalama işaretleri kullanılır?

- A) (!) (,) () (.)
- B) (,) (,) (') (.)
- C) (!) (,) (') (.)

9- Aşağıdaki cümlelerin hangisinde bir yazım yanlışı yoktur?

- A) Sadettin 12 mart 1995'te doğmuş.
- B) Nemrut Dağı'nda kayak yaptık.
- C) Beni anlamakta zorlanıyor mu sun?

10- “**Yastığı** yeni yıkadım.” Cümlesindeki altı çizili sözcükteki ses olayı, aşağıdaki hangi cümlede vardır?

- A) Masanın ayağı kırıldı.
- B) Sıcak ıhlamuru içtin mi?
- C) Yarın maça gidecek misin?

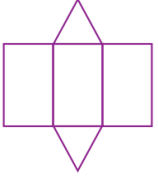
11- Aşağıdaki cümlelerden hangisinde, işin gelecekte yapılacağı belirtilmektedir?

- A) Annemle babam pazara gittiler
- B) Hafta sonu maça gideceğim.
- C) Hayvanların özelliklerini anlatan bir kitap okuyorum.

12- Aşağıda “taksi” sözcüğüne ekler getirerek cümleler oluşturulmuştur. Bu cümlelerden hangisinde taksi sözcüğünün anlamı değişmemiştir?

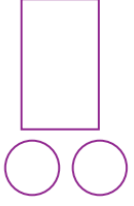
- A) Taksici parasını istedi.
- B) Babamın arkadaşı taksicilik yapıyor.
- C) Taksiye binip gidelim.





1- Yanda açınımi verilen geometrik cismin adı nedir?

- A. üçgen prizma B. silindir C. kare prizma



2- Yandaki şekiller hangi geometrik şeklin yüzeyleridir?

- A. küre B. koni C. silindir

3- Aşağıdakilerden hangisinin bütün yüzeyleri karedir?

- A. dikdörtgenler prizması B. kare prizma C. küp


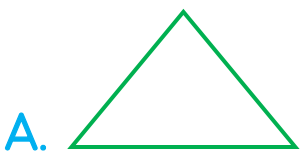
4- Aşağıdakilerden hangisinin beş yüzü vardır?

- A. küp B. kare prizma C. üçgen prizma

5- Hangi seçenekteki düzlemsel şekiller birleştirilerek bir üçgen prizma elde edilir?



6- Aşağıdakilerden hangisi üçgen prizmanın bir yüzü olamaz?





- I. Üçgenin üç köşegeni vardır.
- II. Üçgenin üç köşesi vardır.
- III. Üçgenin üç kenarı vardır.

7- Yukarıda verilenlerden hangileri üçgenin özelliğini belirtmektedir?


A. I, II, III

B. I, II


C. II, III

8- Aşağıdaki geometrik şekillerden hangisi üçgen değildir?

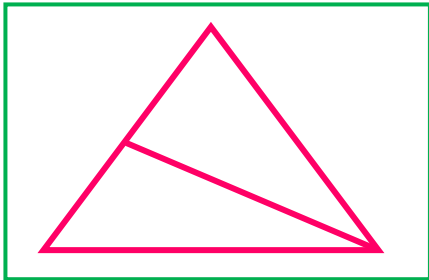

A.



B.



C.

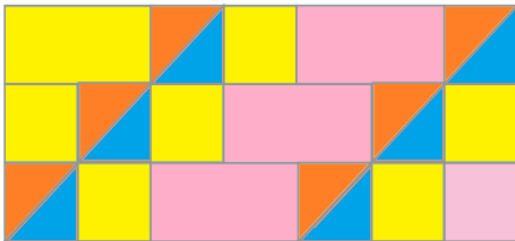


9- Yukarıdaki şekilde kaç tane üçgen vardır?

A. 1

B. 2

C. 3



10- Yukarıda verilen kaplama örüntüsündeki geometrik şekillerin sayıları hangi seçenekte doğru verilmiştir?

A.

Kare:7
Dikdörtgen :4
Üçgen:10

B.

Kare:8
Dikdörtgen :4
Üçgen:8

C.

Kare:7
Dikdörtgen :4
Üçgen:12