



SAYI ÖRÜNTÜLERİ 2



Aşağıda verilen sayı örüntülerinin kuralını yazınız. Sayı örüntüsüne uygun sayıyı yazın.

53 62 71 80 89 ?

Örüntünün Kuralı:

19 16 ? 18 23 20

Örüntünün Kuralı:

35 34 32 29 ? 20

Örüntünün Kuralı:

45 ? 53 57 ? 65

Örüntünün Kuralı:

2 4 ? 16 ? 64

Örüntünün Kuralı:

250 ? 350 400 ? 500

Örüntünün Kuralı:

640 ? 620 610 ? 590

Örüntünün Kuralı:

78 84 ? 96 ? 108

Örüntünün Kuralı:

820 830 ? 835 830 ?

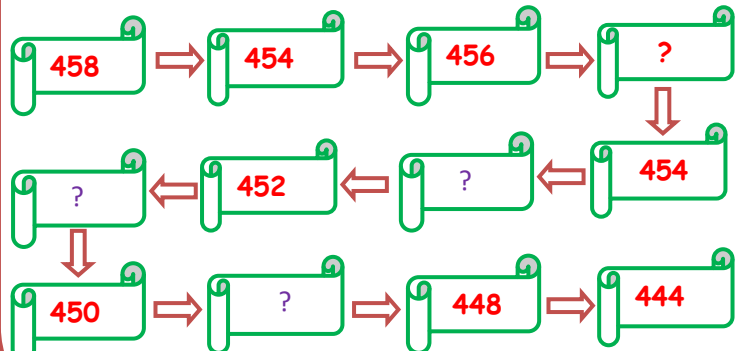
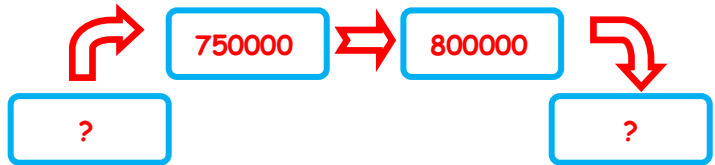
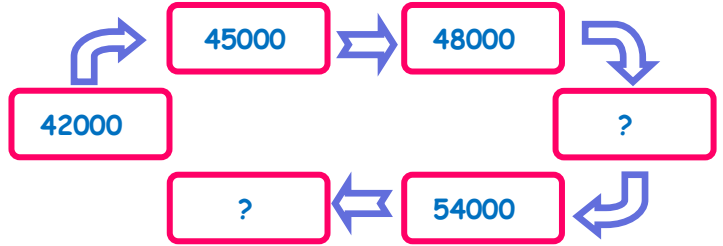
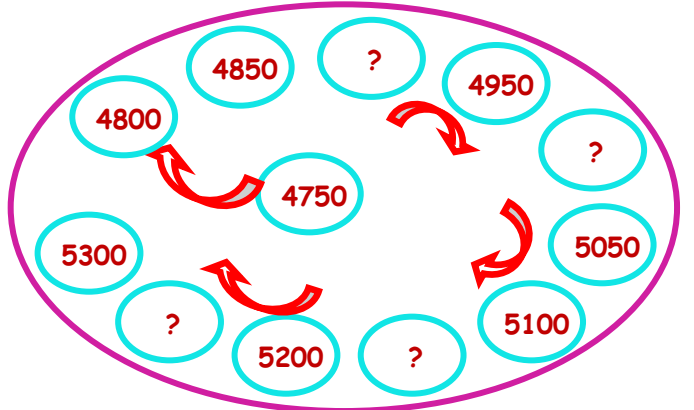
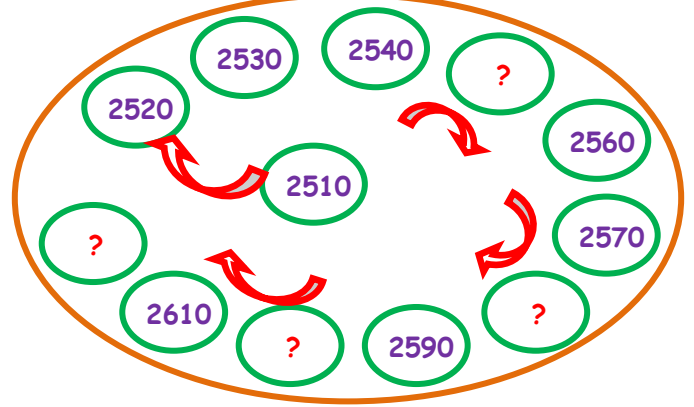
Örüntünün Kuralı:

473 469 465 ? 457 ?

Örüntünün Kuralı:

İskender07

Aşağıda verilen sayı örüntülerinin kuralına göre uygun sayıları yazınız.



Facebook grup = İskender07 (ilkokul etkinlik)