



Ahmet dn 8 sayfa, bugn ise 5 sayfa hikye okudu. Ahmet 2 gnde toplam ka sayfa kitap okudu?



Ali'nin 12 bilyesi, Ahmet'in ise 4 bilyesi vardı. İki arkadaş bilyelerini birleřtirince toplam ka bilyeleri oldu?




Hikâye kitabımın 7 sayfasını dün, 8 sayfasını bugün okudum. Acaba kitabımın kaç sayfasını okumuş oldum?




Ben 7 yaşındayım. Ablam benden 3 yaş daha büyük. Ablam kaç yaşındadır?



Kırtasiyeden 8 liraya kuru boya, 12 liraya hikâye kitabı alan Aysel'in kaç lira ödemesi gerekiyor?




Bir minibüste 8 erkek, 9 kadın yolcu vardır. Bu minibüs ile kaç yolcu seyahat etmektedir?



Gece 9 saat, öğleden sonra 3 saat uyuyan küçük kardeşim günde kaç saat uyumuş olur?




Cumartesi günü 10 sayfa, Pazar günü 9 sayfa hikâye okudum. Acaba hafta sonunda kaç sayfa hikâye okudum?




Bahçede top oynamak için iki takım kurduk. Her takım 7 kişi olduğuna göre kaç kişi top oynadı?



Bayramda 10 lira annem verdi. 8 lira da babam verdi. Bayramda ailemden kaç lira aldım?



Babam bana 8 renkli boya kalemi almıştı.
Bunun 3 tanesini kardeşime verdim. Kaç
boya kalemim kaldı?



Hafta sonu dedem 16 lira verdi. 5 lira ile
bir oyuncak aldım. Kaç liram kaldı?



Doğum günü pastamı annem 12 dilime ayırdı. 8 dilimini yedik. Pastamdan geriye kaç dilim kaldı?




Annemin tabakla verdiği 14 cevizin 13 tanesini arkadaşlarımla kırıp yedik. Tabakta kaç ceviz kaldı?



Dedemin bahçesindeki 9 ağaçtan 3 tanesi kavak, diğerleri meyve ağacıdır. Bahçede kaç meyve ağacı vardır?




Markette peynir 12 liradır. Zeytinin fiyatı peynirden 5 lira daha azdır. Acaba zeytin kaç liradır?



Dün 14 sayfa hikâye okumuştum. Bugün, dünden 5 sayfa daha az okudum. Acaba bugün kaç sayfa hikâye okudum?



İstiklal Marşımız 10 kıtadır. 8 kıtasını ezberledim. Tamamını ezberlemem için kaç kıta daha ezberlemem gerekir?



12 adet vesikalık fotoğraf çektirdim.
Bunların 9 tanesini okula verdik. Kaç tane
fotoğrafım kaldı?



Evde 13 tane oyuncuđım vardı. Bunlardan 5
tanesini kardeř okulumuza gönderdim. Kaç
oyuncuđım kaldı.



