







Aşağıdaki soruları tabloya göre cevaplayınız.

Tablo:1/A Sınıfı En Sevilen ÇizgiFilm Kahramanları

| Çizgi Film Kahramanları | Öğrenci Sayısı |
|-------------------------|---|
| Kukuli |  |
| Heidi |  |
| Harika Kanatlar |  |
| Akıllı Tavşan Momo |  |




NOT: Her şekil 1 öğrenciyi göstermektedir.

SORULAR

- 1-) Harika Kanatlar'ı seven öğrenci sayısı kaçtır?
- 2-) Akıllı Tavşan Momo ile Heidi çizgi film kahramanlarını seven kaç öğrenci vardır?
- 3-) En çok sevilen çizgi film kahramanı ile en az sevilen çizgi film kahramanı sayısı kaçtır?
- 4-) 1/A Sınıfında toplam kaç öğrenci vardır?

Aşağıdaki soruları tabloya göre cevaplayınız.

Tablo:1/A Sınıfı En Sevilen Futbol Takımları

| Futbol Takımları | Öğrenci Sayısı |
|------------------|---|
| Trabzonspor |  |
| Fenerbahçe |  |
| Beşiktaş |  |
| Galatasaray |  |

NOT: Her şekil 1 öğrenciyi göstermektedir.

SORULAR

- 1-) 1/A Sınıfında en çok sevilen takım hangisidir?
- 2-) Galatasaray takımı seven öğrenci sayısı kaçtır?
- 3-) Trabzon ve Beşiktaş takımlarını seven öğrenci sayısı, Fenerbahçe takımını seven öğrenci sayısından kaç azdır?
- 4-) 1/A Sınıfında toplam kaç öğrenci vardır?