

Adı :

Soyadı:



MATEMATİK

Doğru Sayısı :


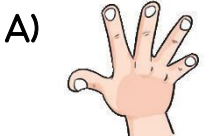
Yanlış sayısı:



1. Aşağıdakilerden hangisini gerçek boyutu-
nu metre olarak ölçemeyiz ?



2. Aşağıdakilerden hangisi standart olmayan
ölçüm araçlarından biridir ?

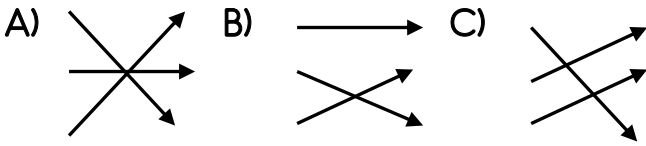


3. • • Kulaç


• • Adım

• • Karış

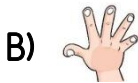
Yukarıdaki ölçüm şekilleri doğru bir şekilde
eşleştirildiğinde hangi şekil ortaya çıkar ?



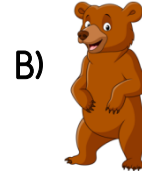
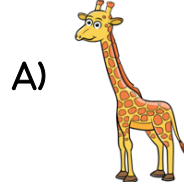
4. Evimizdeki halının boyunu en kolay hangi
yolla ölçebiliriz?



5. Yatağımızın boyunun gerçek uzunluğunu en
doğru hangisiyle ölçeriz ?



6. Aşağıdakilerden hangisinin gerçek boyutu-
nu santimetre ile ölçeriz ?



7. • Oya halının boyunu 16 ayak ölçtü.
• Babası halının boyunu 10 ayak ölçtü.
• Annesi halının boyunu 13 ayak ölçtü.

Yukarıdaki bilgilere göre hangisi doğrudur ?

- A) Ayak boyları farklı olduğu için farklı
ölçüm sonuçları çıkmıştır.
B) Sadece babası doğru ölçmüştür.
C) Hepsi de yanlış ölçmüştür.

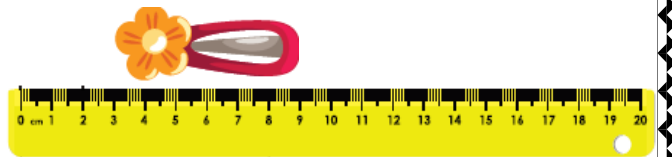
8.



Silgi ve atacın boyu toplam kaç cm'dir ?

- A) 8 B) 10 C) 12

9.



Yukarıdaki tokenin boyu kaç cm'dir ?

- A) 9 B) 8 C) 6

10. Aşağıdaki ölçüm sonuçlarından hangisi
en kısadır ?

- A) 78 cm B) 69 cm C) 1 m

11. Bir terzi 40 m kumaşın 17 m'sini kul-
lanmış. Geriye kaç m kumaş kalmıştır ?

- A) 78 cm B) 69 cm C) 1 m