

2.DÖNEM KONULARI

1.

Nasrettin Hoca

Nasrettin Hoca bizi
Yıllar yılı güldürür,
Her fıkrada ders verir
Öğretir, düşündürür.

Göle yoğurt mayalar
Bir gün kafası eser,
Eşekle turşu satar
Bindiği dalı keser.

Kurnaz bir komşusuna
Haddini bildiriyor,
Doğuran kazanını
Gün gelip öldürüyor.

İsmail MALATYA

1, 2 ve 3. soruları şiire göre
yanıtlayınız.

1. Nasrettin Hoca, fıkralarıyla
bize hangisini **yaşatmaz**?

- A. Güldürür. B. Üzer.
C. Düşündürür.

2. **!** Nasrettin Hoca kurnaz kom-
şusuna haddini bildirmek için
hangisi yapıyor?

- A. Bindiği dalı kesiyor.
B. Turşusunu saklıyor.
C. Kazanını öldürüyor.


3. **!** Nasrettin Hoca aşağıdakiler-
den hangisini **yapmamıştır**?

- A.  B.  C. 

4.  Yüzümü yıkadım.
 Okul kıyafetimi giydim.
 Sabah kalktım.
 Kahvaltı yaptım.


Yukarıdaki cümleler, hangi seçenekte olay sırasına göre sıralanmıştır?

- A.     B.    
 C.    

5.  1. Geçmek için yürümeye başladı.
 2. Gözleri iyi görmüyordu.
 3. Biri kolundan tutup geri çekti.
 4. Bu nedenle kırmızı ışığın yandığını fark etmedi.

Yukarıdaki cümleleri olayların oluş sırasına koyarsak sıralama nasıl olmalıdır?

- A. 3 - 2 - 1 - 4
 B. 2 - 4 - 1 - 3
 C. 3 - 1 - 2 - 4

6.  1. Zavallı kedi soğuktan titriyordu.
 2. Eve götürse annesi kızardı.
 3. O da kediye kömürlüğe götürüp üstünü örttü.
 4. Sokağa çıkınca karşısına bir kedi çıktı.

Yukarıdaki cümleleri olayların oluş sırasına koyarsak sıralama nasıl olmalıdır?

- A. 1 - 3 - 4 - 1
 B. 4 - 1 - 2 - 3
 C. 2 - 3 - 4 - 1

7. İnsanın içindeki merak her zaman daha iyiye ulaşma isteğini ve gelişmeyi sağlamıştır. İnsan sürekli araştıran, merak ettiği konulara yanıt arayan bir canlıdır.

7 ve 8. soruları metne göre yanıtlayınız.

7. Metnin ana düşüncesi hangi seçenekte verilmiştir?

- A. Merak insanların gelişmesini sağlar.
- B. Meraklı insanları herkes sever.
- C. Merak ettiğimiz şeyleri araştırmamalıyız.

8. 3. Metnin konusu aşağıdakilerden hangisidir?

- A. Merak duygusu
- B. Çocukların özellikleri
- C. Araştırmanın önemi

9. Açan çiçek, çağlayan su,
Gülümseyen engin duygu,
Evimizin mutluluğu
Sensin, benim güzel annem.

9 ve 10. soruları metne göre yanıtlayınız.

9. Aşağıdakilerden hangisi bu şiirin başlığı olabilir?

- A. Mutluluk
- B. Annem
- C. Kahkaha

10. 0. Aşağıdakilerden hangisi bu şiirin ana duygusudur?

- A. Mutluluk özlemi
- B. Doğa sevgisi
- C. Anne sevgisi

11. Aşağıdaki grafikte bir mağazada satılan giyecek adetleri verilmiştir.



Her şekil, 10 giyeceği göstermektedir.

1, 2, 3, 4, 5 ve 6. soruları, grafiğe göre yanıtlayınız.

1. Mağazada kaç kazak satılmıştır?
A. 40 B. 50 C. 80
12. 2. Mağazada satılan kazak ve çorap sayılarının eşitlenmesi için kaç tane daha kazak satılmalıdır?
A. 30 B. 50 C. 40

13. 3. Mağazada satılan eldiven sayısı, pantolon sayısından kaç fazladır?
A. 30 B. 60 C. 50

14. 4. Grafiğe göre aşağıdakilerden hangisi doğrudur?
A. Eşit sayıda kazak ve pantolon satılmıştır.
B. Satılan eldiven ve çorapların sayısı eşittir.
C. Her üründen farklı sayıda satış yapılmıştır.

15. 5. Mağazada satılan pantolon sayısı, kazak sayısından kaç azdır?
A. 10 B. 5 C. 50

16. 6. Grafiğe uygun sıklık tablosu hangisidir?

A.

Ürün	Adet
Kazak	30
Eldiven	70
Pantolon	40
Çorap	50

B.

Ürün	Adet
Kazak	40
Eldiven	90
Pantolon	30
Çorap	80

C.

Ürün	Adet
Kazak	40
Eldiven	30
Pantolon	80
Çorap	90

17. Aşağıdaki sıklık tablosunda, bir markete gelen meyve kasalarının miktarları verilmiştir.

Tablo: Markete Gelen Meyveler	
Meyveler	Kasa Sayısı
Nar	18
Erik	15
Çilek	9
Muz	6

7, 8, 9, 10 ve 11 soruları tabloya göre yanıtlayınız.

7. Markete toplam kaç meyve kasası gelmiştir?

A. 33 B. 42 C. 48

18. 8. Markete, en fazla hangi meyveden gelmiştir?



19.

9. Markete en az hangi meyve gelmiştir?



20. 10. Bir kasa çilek 20 kilogramdır. Çileğin kilogramı 4 TL ise, 1 kasa çilek satışından kaç lira elde edilir?

A. 80 B. 60 C. 40

21. 11. Hangi çetele tablosu, sıklık tablosundaki verilere göre düzenlenmiştir?

A.

Meyveler	Kasa Sayısı
Nar	###
Erik	### ### ###
Çilek	### II
Muz	### ### ###

B.

Meyveler	Kasa Sayısı
Nar	### ### ###
Erik	### ###
Çilek	### ###
Muz	### ### ###

C.

Meyveler	Kasa Sayısı
Nar	### ### ### III
Erik	### ### ###
Çilek	### IIII
Muz	### I

22. 1.

Deprem, sel, toprak kayması, çığ gibi doğa olaylarına..... denir.


Yukarıdaki boşluğu aşağıdakilerden hangisiyle tamamlamamız doğru olur?

- A. doğal zararlar
B. doğal olay
C. doğal afet

23. 2. Aşağıdakilerden hangisi doğal afet **değildir**?



24. 3. Deprem anında aşağıdakilerden hangisi doğru bir davranıştır?



15

25. Aşağıdakilerden hangisi bir yağış türü **değildir**?



26. Dünya'nın kendi etrafında dönmesi sonucunda aşağıdakilerden hangisi gerçekleşir?



- A. Mevsimler
B. Gece ve gündüz
C. Yıl

27. Güneş ışınlarının Dünya'ya dik geldiği yerlerde hangi mevsim yaşanır?



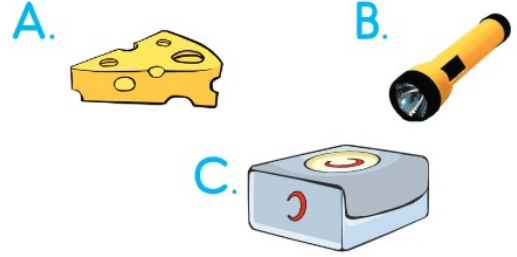
28. Dünya, Güneş'in etrafındaki dönüşünü kaç günde tamamlar?

- A. Elli iki
- B. Üç yüz elli iki
- C. Üç yüz altmış beş

29. Aşağıdaki çocuklardan hangisi çevreye zarar vermektedir?



30. Aşağıdakilerden hangisi deprem çantasında bulunmaz?



31.



Sekle göre "★" yerine hangi yön yazılmalıdır?

- A. Güney
- B. Kuzey
- C. Doğu

32. Deprem anında, evdeyse;
I. Balkona çıkmalıyız.
II. Sağlam bir eşyanın yanına sığınmalıyız.
III. Merdivenlere koşmalıyız.
IV. Sarsıntı bitene kadar bulunduğumuz yerden ayrılmamalıyız.
ifadelerinden hangileri doğrudur?
A. I ve II B. II ve III
C. II ve IV

33. Aşağıdaki doğal afetlerden hangisi **önlenemez**?
A. Sel B. Erozyon
C. Deprem