

UZUNLUKLARI ÖLÇME

1. Etkinlik: Aşağıda verilen eşyaların veya varlıkların gerçek uzunluk ölçüm sonuçlarının hangisi olabilir ? Olabilecek ölçüm sonucunu işaretleyiniz.



4 cm

14 cm

40 cm



20 cm

6 cm

1 m



15 cm

3 cm

30 cm



16 cm

4 cm

50 cm



60 cm

5 m

2 m



50 cm

1 m

6 m



2 m

70 cm


9 m



30 cm

8 cm

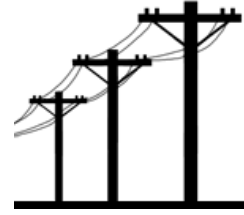
40 cm



60 cm

3 cm

1 m



2 m

50 m


12 m



1 m

5 m

15 m



40 cm

10 cm

1 m