


1




Yukarıda kaç tane kalemıraş vardır?

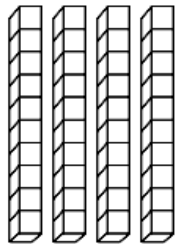
- A) 68 B) 69 C) 78

2

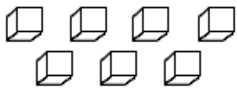
Aşağıdaki üç kuştan hangisi 45 sayısı söylemektedir?



3



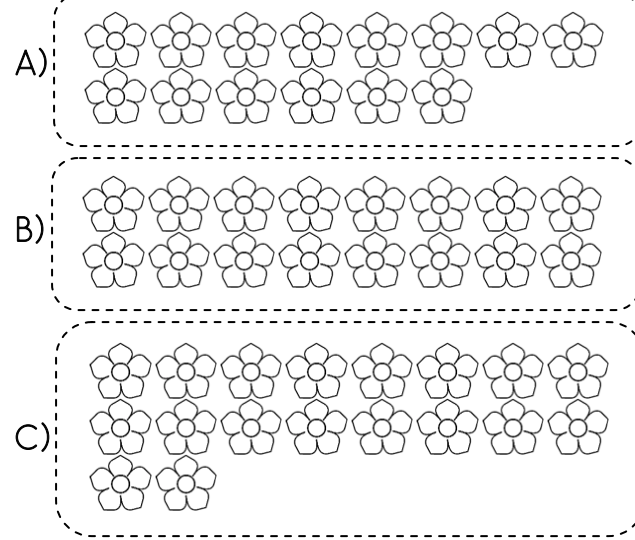
Modellenen sayı kaçtır?



- A) 74 B) 47 C) 44

4

Aşağıdaki çiçek gruplarından hangisine 6 çiçek daha eklersem iki düzine çiçek olur?



5

Basamak değerleri 9 ve 80 olan iki basamaklı sayı hangisidir?

- A) 98 B) 99 C) 89


6




Dörder dörder sayarken bazen şaşırıyorum. Yazdıklarımın hangisi doğrudur?

- A) 4-8-12-16-20-24-28-32-36-40
B) 4-8-12-16-18-20-24-28-32-40
C) 4-8-12-16-20-22-24-26-28-40

7



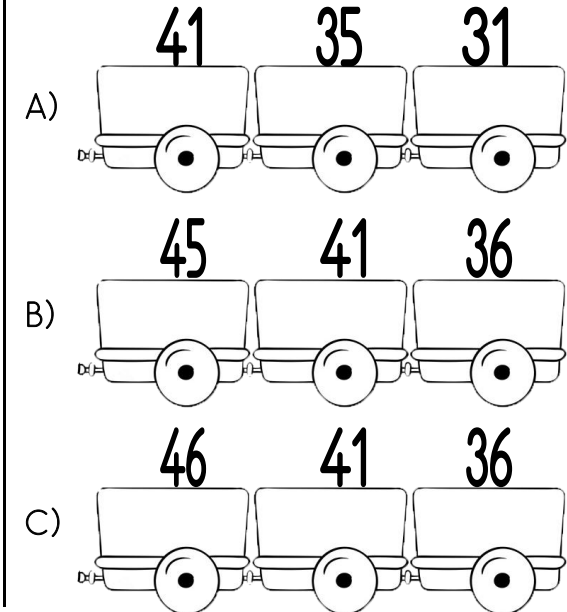

Aşağıdaki sayı örüntüsünde boş çiçeklerin içine sırayla hangi sayılar yazılmalıdır?



- A) 16-18 B) 15-18 C) 14-18

8

Aşağıdaki trende örüntüyü devam ettirsek sonraki üç vagona hangi sayılar olur?



9



54 küçüktür 2'den.
Kutucuğa hangi rakam
gelirse ifade doğru olur?

- A) 4 B) 5 C) 6

10



Bir koşu yarışmasında Ömer 22. ,
Elasu 1. , Yunus 14. ve
Necati 10. olduğuna göre yarışmacılar
başarı sırasına göre nasıl sıralanır?
A) Elasu - Necati - Yunus - Ömer
B) Elasu - Ömer - Yunus - Necati
C) Elasu - Necati - Ömer - Yunus

11



Kartopumdaki sayıyı en
yakın hangi onluğa
yuvarlarım?

- A) 50 B) 60 C) 70

12



Dostum İdefiks çok zeki bir
köpek. Aşağıdaki toplama
işlemlerini yaparsa hangi
sayıya ulaşır?

$$\begin{array}{r} 37 \\ 42 \\ + \\ \hline \square\square \end{array} \quad \begin{array}{r} \square\square \\ 18 \\ + \\ \hline \square\square \end{array}$$

- A) 97 B) 93 C) 98

13



Kafesimin kapısı şifreli.
Aşağıdaki toplama
işleminin sonucu kilidin
şifresidir. Şifre kaçtır?

$$\begin{array}{r} 29 \\ 35 \\ + \\ \hline \square\square \end{array} \quad \begin{array}{l} \text{A) } \begin{array}{|c|} \hline 65 \\ \hline \end{array} \\ \text{B) } \begin{array}{|c|} \hline 54 \\ \hline \end{array} \\ \text{C) } \begin{array}{|c|} \hline 64 \\ \hline \end{array} \end{array}$$

14



Sihirli iksiri bulmam için
aşağıdaki çıkarma
işlemlerini yapıp doğru
sonuca ulaşmalıyım.
Doğru iksirin üzerinde
hangi sayı vardır?

$$\begin{array}{r} 94 \\ 21 \\ - \\ \hline \square\square \end{array} \quad \begin{array}{r} \square\square \\ 47 \\ - \\ \hline \square\square \end{array}$$

- A) 36 B) 26 C) 25

15



Elimdeki sayı hangi çıkarma
işleminin sonucudur?

$$\begin{array}{l} \text{A) } \begin{array}{|c|} \hline 90 \\ - 30 \\ \hline \square \\ \hline \end{array} \\ \text{B) } \begin{array}{|c|} \hline 80 \\ - 30 \\ \hline \square \\ \hline \end{array} \\ \text{C) } \begin{array}{|c|} \hline 90 \\ - 20 \\ \hline \square \\ \hline \end{array} \end{array}$$