



ADI:

SOYADI:

SINIFI:

NUMARASI:

OKULU:

[www.ilkokulevim.com](http://www.ilkokulevim.com)

1. SINIF

KAZANIM DEĞERLENDİRME

SINAVI

## TÜRKÇE TESTİ

(Bu test 10 sorudan oluşmaktadır)

Mustafa bugün çok heyecanlıydı. Çünkü 23 Nisan Ulusal Egemenlik ve Çocuk Bayramı kutlanacaktı. Bayram hazırlığı için ailesiyle birlikte evlerinin balkonuna kocaman bir bayrak asmışlar ve süslemeler yapmışlardı.

(İlk 3 soruyu yukarıdaki metne göre cevaplayın)

- 1- Kim çok heyecanlıydı?
  - A) Murat
  - B) Mustafa
  - C) Mehmet
- 2- Hangi bayram için hazırlık yapılmıştır?
  - A) Cumhuriyet Bayramı
  - B) Zafer Bayramı
  - C) Ulusal Egemenlik ve Çocuk Bayramı
- 3- Bayrağı evin hangi bölümüne asmışlar ?
  - A) balkon
  - B) mutfak
  - C) oturma odası



4- Aşağıdaki kelimelerden hangisi tek bir varlığı anlatır?

- A) kalemler
- B) ağaç
- C) evler

ok-u-la

sa-bah

ge-ç

kal-dı

5- Yukarıdaki kelimelerden kaç tanesi hecelerine doğru ayrılmıştır?

- A) 2
- B) 3
- C) 4

■ sandalye

▲ bilgisayar

★ kanepes

6- Yukarıdaki kelimelerden hangisinin harf sayısı en azdır?

- A) ★
- B) ■
- C) ▲

7- Aşağıdaki cümlelerden hangisinin sonuna farklı bir noktalama işareti gelmelidir?

- A) Bana hediye mi aldın
- B) Öykü kitabını bitirdin mi
- C) Bayramı coşkuyla kutladık



8- Aşağıda görseli verilen varlıklardan hangisi sözlük sırasında en başta gelir?



9- Aşağıdaki cümlelerden hangisinde "doktor" kelimesinin eş anlamlısı kullanılmıştır?

- A) Kedimi veterinerine götürdük.
- B) Büyünce hekim olmak istiyorum.
- C) Benim hakim bir amcam var.

10-   

Yukarıdaki kelimelerden hangisinin yazımı doğrudur?

- A) çenber
- B) anaktar
- C) herkes



## MATEMATİK TESTİ

(Bu test 10 sorudan oluşmaktadır)

$$12+8 = 27-★$$

1- Yukarıdaki işlemde ★ yerine kaç gelmelidir ?

A) 6

B) 7

C) 8



Sincap tavşana göre daha.....

2- Yukarıdaki cümleyi görsele göre tamamlayacak olursak aşağıdaki seçeneklerden hangisi doğru olur?

A) Alçaktadır.

B) Tümsektedir.

C) Çukurdadır.

Önceki sayı	Sayı	Sonraki sayı
◆	13	●

3- Tabloda ◆ ve ● yerine gelecek sayıların toplamı kaçtır?

A) 24

B) 25

C) 26



4- Geriye doğru 5'erli sayma yapan Kayra 4.saymada 50 dediğine göre 7. saymada hangi sayıyı söylemelidir?

A)40

B)35

C)30




Defterinize bir dikdörtgen çizin.

5- Öğretmenin söylediğine göre öğrenciler hangi şekli defterlerine çizmeli?

A)



B)



C)




6-Yukarıdaki balonların yarısı kaç adet balon eder?

A) 16

B) 10

C) 8



Ekmek ve silginin Fiyatları yukarıda gösterilmiştir.

7- Buna göre 8 ekmek 6 silgi alan Berra kaç TL ücret ödemelidir?

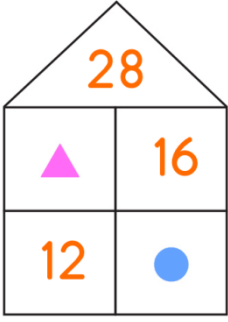
- A)
- B)
- C)



8- Yanda verilen ailede Sevinç 6 yaşında iken kardeşi Alp , Sevinç'ten 2 yaş küçüktür. Annelerinin yaşı ise çocukların yaşları toplamından 16 fazladır. Buna göre anne kaç yaşındadır?

- A) 22
- B) 24
- C) 26





Yandaki verilen evde katların yan yana toplamaları çatıdaki sayıya eşit olmaktadır.

9- Yukarıdaki verilen bilgiye göre ▲ ve ● sayıları toplamı kaç eder?

A) 26

B) 28

C) 30



Ahmet ve Eylül ikiz kardeşlerdir. Şuan 8 yaşındalar.

10- Buna göre 4 yıl sonra Ahmet ve Eylül'ün yaşları toplamı kaç eder?

A) 12

B) 20

C) 24









## HAYAT BİLGİSİ TESTİ

(Bu test 10 sorudan oluşmaktadır)

1- Aşağıdaki yayalardan hangisinin davranışı yanlıştır?



2- Aşağıdakilerden hangisi güvenliği sağlamakla görevlidir?



Sınıfımızdaki arkadaşım Teslime zeka oyunları oynamayı çok seviyor. Bu nedenler ..... kulübüne katılmayı çok istiyor.

3- Yukarıda boş bırakılan yere hangi kelime ne yazılmalıdır?

- A) Spor
- B) Mangala
- C) Doğa

1-Konya

2-Ankara

3-İstanbul

4- Yukarıdaki şehirlerden hangisi başkentimizdir?

- A) 3
- B) 2
- C) 1



5-Yandaki görsele göre aşağıdakilerden hangisi yanlıştır?

- A) Evde herkes istediği gibi davranmalıdır.
- B) Aile içinde görev dağılımı olmalıdır.
- C) Evde dayanışma olmalıdır.

Ali  İstanbul'da doğmuştur.

Mert  Mahalle mektebinde okumuştur.

Salih  İstiklal Marşı'nı yazmıştır.

6- Yukarıdaki öğrencilerden hangisi Atatürk'le ilgili doğru bilgi vermiştir?


- A) Ali
- B) Mert
- C) Salih

7- Aşağıdakilerden hangisi yanlış bir davranıştır?

- A) Ellerimizi yemekten önce ve sonra yıkamalıyız.
- B) Ağızımızda yemek varken konuşmamalıyız.
- C) Küçük olduğumuz için herkesten önce yemeğe oturabiliriz.



8- Aşağıdaki besinlerden hangisi bitkiden elde edilmiştir?



9- Aşağıdakilerden hangisi bir istektir?



▲ Kopmuş kabloları tamir edebiliriz.

■ Balkon demirlerinde sarkmamalıyız.

● Ellerimizi bırakarak bisiklet sürebiliriz.

10- Yukarıdaki bilgilerden hangisi doğrudur?

A) ▲

B) ■

C) ●



Sevgili ÖĞRETMEN ve VELİLERİMİZ;  
Deneme Sınavına Teşekkür Mahiyetinde  
Sosyal Medya Sayfamızı Beğenirseniz  
Çok Mutlu Oluruz.

Aşağıdaki Linklerden Bizlere Ulaşabilirsiniz.

[www.ilkokulevim.com](http://www.ilkokulevim.com)

[www.instagram.com/ilkokulevim](http://www.instagram.com/ilkokulevim)

[www.facebook.com/ilkokulevim](http://www.facebook.com/ilkokulevim)

[www.facebook.com/groups/272489210  
266407/](http://www.facebook.com/groups/272489210266407/)

[t.me/ilkokulevim](https://t.me/ilkokulevim)

### CEVAP ANAHTARI

TÜRKÇE	MATEMATİK	HAYAT BİLGİSİ
1-B	1-B	1-C
2-C	2-A	2-C
3-A	3-C	3-B
4-B	4-B	4-B
5-A	5-C	5-A
6-A	6-C	6-B
7-C	7-B	7-C
8-A	8-C	8-A
9-B	9-B	9-A
10-C	10-C	10-B