




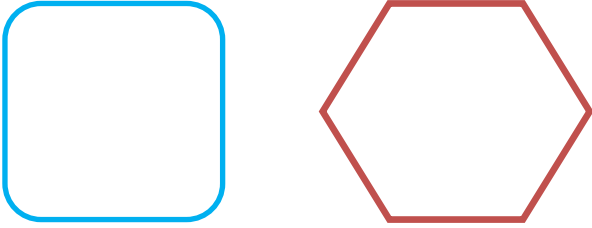
BÜTÜN - YARIM 2



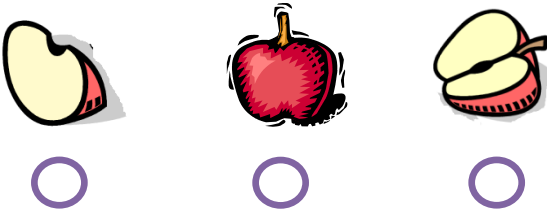
1-) Aşağıdaki şekillerin **yarısını** boyayalım.



2-) Aşağıda verilen nesnelere **yarısını çizip** boyayalım.



3-) Aşağıdakilerden hangisi **yarımı gösterir** işaretleyiniz?



4-) Aşağıdakilerden hangisi **bütünü** gösterir işaretleyiniz?



6-) Yarım olan varlıkların altlarındaki kutucuğu **yeşile**, bütün olan varlıkların altlarındaki kutucuğu **kırmızıya** boyayalım.

