

1. Aşağıdaki işlemlerden sonucu en küçük olan hangisidir?

$$64 - 25$$

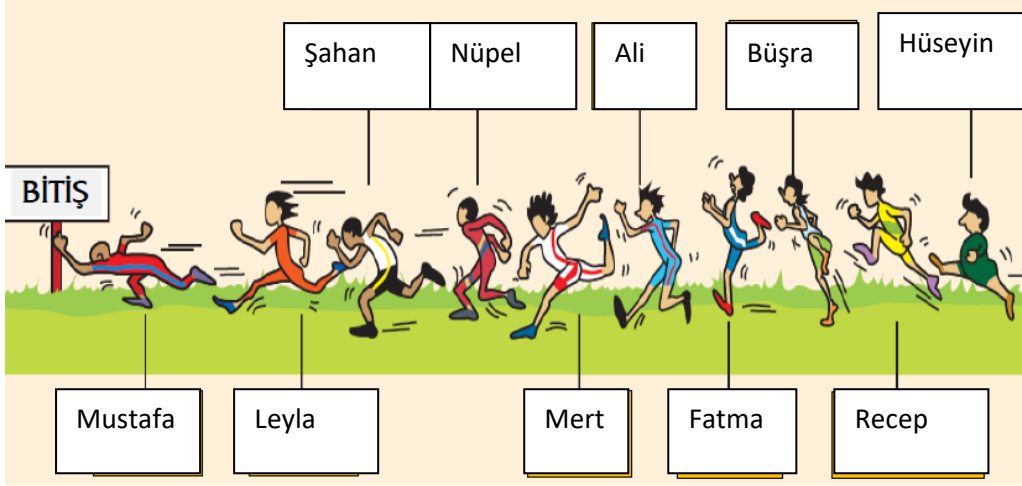
A)

$$81 - 44$$

B)

$$99 - 61$$

C)



2. ve 3. Soruyu yukarıdaki resme göre cevaplayınız.

2. Koşu yarışmasında sondan 4.olan kimdir?

- A) Nüpel B) Fatma C) Büşra

3. Yarışmayla ilgili verilen bilgilerden hangisi yanlıştır?

- A) Yarışmaya on kişi katılmıştır.
B) Fatma 'yı geçen yarışmada 7. Olur.
C) Şahan ; Nüpel'in arkasındadır.

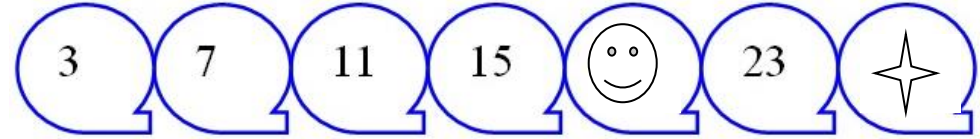
4.



Hayvanların verdikleri bilgilere göre toplam kaç tane hayvan vardır?

- A) 41 B) 33 C) 17


5.




Yukarıda verilen sayı örüntüsüyle ilgili verilen bilgilerden hangisi yanlıştır?

- A) 😊 = 19 ☆ = 27 'dir.
B) Örüntünün kuralı: 4 'er artmış.
C) Örüntünün kuralı: 4'er azalmış.


6. 3 düzinenin modelle gösterimi aşağıdakilerden hangisidir?



A)



B)



C)

7. Aşağıda verilen sayılardan hangisinin en yakın onluğu yanlış yazılmıştır?

- A) 56 → 60
B) 65 → 60
C) 78 → 80


8.

45	35
43	38


 Yandaki tabloda 40'a yuvarlanabilenleri boyarsam nasıl bir şekil ortaya çıkar?



A)



B)



C)

9.

77
- 48

 Yandaki işlemin sonucuyla ilgili verilen bilgilerden hangisi yanlıştır?

- A) 2 birlik 9 onluktan oluşur.
B) Kendinden önce ve sonra gelen sayılar 28 ve 30'tur.
C) Basamak değerleri 20 ve 9'dur.

10.

	Onlar basamağı	Birler basamağı
Okunuşu	Doksan yedi	
Sayı	★	
Basamak değerleri	▲	7

Yukarıdaki verilen basamak tablosunda ★ ve ▲ yerine sırasıyla ne gelmelidir?

- A)

★	▲
97	9

B)

97	90
----	----

C)

79	90
----	----

11. Aşağıdaki civlerin 2 deste olabilmesi için kaç tane daha civciv eklenmelidir?



- A) 4 B) 3 C) 2

12. Aşağıdaki işlemlerden hangisinin sonucu diğerlerinden farklıdır?

- A) 28 + 46 B) 51 + 24 C) 69 + 5