

Adı Soyadı :

TÜRKÇE

KİTAPIM

İlk ağaçtım,
Sonra sayfa oldum.
Güzel çocukların elinde,
Her gün ben okundum.

Ben bilgi kaynağıyım,
Hiç bitmez bilgilerim.
Her yere ışık saçar,
Cahillikten korurum.

Bilge KESKİN

1,2 ve 3.soruları şiire göre cevaplayınız.


1. Şiir kaç dize ve kaç kıtadan oluşmaktadır?

- 2 dize - 8 kıta 8 dize - 4 kıta
8 dize - 2 kıta

2. Şiirin ana duygusu aşağıdakilerden hangisidir?

- Kitap sevgisi Okul sevgisi
Ağaç sevgisi

3. Şiirin konusuna uygun görsel hangisidir?



4.



Enes yapboz parçasını, üzerinde yazan kelimenin eş anlamının bulunduğu yapboz parçasıyla birleştirerek eş anlam yapbozu yapacaktır.

Enes yapbozunu hangi parçayla birleştirmelidir?



5.



Balon hangi cümlenin sonuna inerse cümlenin noktalama işareti doğru olur?

- A) Cahildim dünyanın rengine kandım()
B) Dünya senin vatanın mı yurdun mu()
C) Bizim pencereler yeke karşıdır()

KAZANIM DEĞERLENDİRME 4.HAFTA(12-16 EKİM)

HAYAT BİLGİSİ

KARACAOĞLAN İLKOKULU

	Öğretmenler Odası	1 /A	2 /A
Lavabolar	Müdür Odası	3 /A	4 /A

1 ve 2.soruları krokiye göre cevaplayınız.

1. Lavabolara en uzak sınıf hangisidir?

- 3/A 2/A 1/A

2. 3/A sınıfında okuyan Murat teneffüste bahçeye çıkarken hangi bölümü görmez?

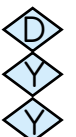
- Müdür Odası 1 /A 4/A

3. Okulla ilgili verilen bilgilerden hangisi yanlıştır?

- A) Okul bizi hayata hazırlar.
B) Okulda kültürel etkinlikler de düzenlenir.
C) Okuldaki müzik kursuna sadece başarılı öğrenciler katılabilir.

- ◆ Yardımlaşma ve dayanışma, dostluk duygularımızı geliştirir.
◆ Her insan sorununu kendisi çözmelidir.
◆ Arkadaşımızın iyi ve kötü gününde yanında olmalıyız.

4. Yukarıdaki ifadelerde doğru olanlara D, yanlış olanlara Y yazılırsa etkinlik sonucu hangisi oluşur.?



5.




Görseldeki panoyu, okulda oluşturulan hangi kulüp hazırlamış olabilir?


- A) Çevre Kulübü
B) Kızılay Kulübü
C) Oyun ve Spor Kulübü

MATEMATİK

1.



Sayho'nun elinde gösterdiği sayıların arasına hangi işaret gelmelidir?



2. Yukarıdaki sayılar büyükten küçüğe doğru sıralanırsa 3. sırada hangi sayı yer alır?

- A) 589 B) 823 C) 359



3. Yukarıdaki örüntüde boş bırakılan yerlere sırasıyla hangi sayılar gelmelidir?

- A) 36-42 B) 35-42 C) 35-41

9-18-27-36-45-56-63-72-81-90

4. Yukarıdaki örüntüde kuralı bozan sayı hangisidir?

- A) 56 B) 63 C) 72



1. Adım 2. Adım 3. Adım 4. Adım 5. Adım 6. Adım

Yukarıdaki örüntüyü kurala göre devam ettirdiğimizde 6. adımda yazılacak sayının onlar basamağındaki rakamın basamak değeri kaçtır?

- A) 30 B) 230 C) 300

FEN BİLİMLERİ

1.

Aşağıdakilerden hangisi duyu organı değildir?

- A) Göz B) Kalp C) Deri



2.

Hakan Bey'in bu cümleyi kurmasına yardımcı olan duyu organı hangisidir?

- A) Burun B) Kulak C) Göz



Tat alma



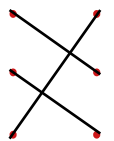
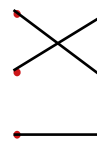
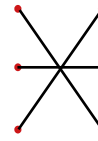
Görme



Duyuma

3.

Duyu organları ile görevleri eşleştirilirse hangi şekil ortaya çıkar?



4.

Görseldeki meslek grubunda yer alanlar hangi duyu organımızın sağlığı için çalışmaktadır?

- A) Göz B) Kulak C) Deri

5.

Aşağıdaki davranışlardan hangisi göz sağlığınıza zarar verir?

- A) Güneş gözlüğü ve şapka kullanmak.
B) Temiz ve kendimize ait yüz havlusu kullanmak.
C) Uzun süre televizyon izlemek.