

KISA KOLAY SORULARLA PEKİŞTİRME

1. *Aşağıdaki ilk altı soruyu metne göre cevaplayınız.*

Adım Gamze, ikinci sınıf öğrencisiyim. Biz kalabalık bir aileyiz. Tarık ve Onur adlarında iki ağabeyim, Gülşen adında bir ablam var. Samsun'a on dakika uzaklıkta Topçam Köyü'nde oturuyoruz. Benim Gümüş adlı bir kedim var. Her akşam onunla oynarım.

1. Metne göre kim ikinci sınıfa gidiyor?

A) Tarık

B) Onur

C) Gamze

2. Metne göre evcil hayvana verilen özel ad hangisidir?

A) Topçam

B) Gülşen

C) Gümüş

3. Çocuk kedisiyle ne zaman oynuyor?






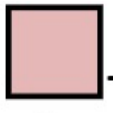
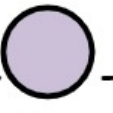









A) okuldan gelince

B) her sabah

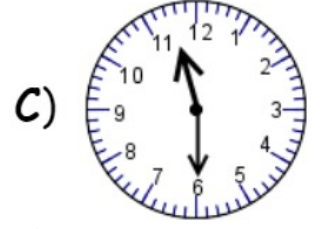
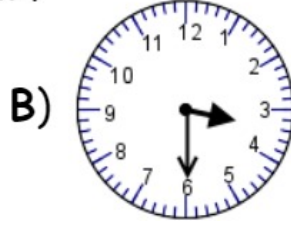
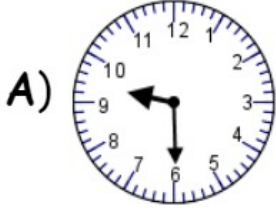
C) her akşam

4. **4.** Gülşen'in ailesi nasılmış?
- A) küçük aile B) kalabalık aile C) zengin aile
5. **5.** Gülşen'in ailesi nerede oturuyormuş?
- A) Samsun'da
B) Topçam Köyü'nde
C) Gümüşhane'de
6. **6.** Yukarıdaki metinde kaç tane özel ad vardır?
- A) yedi B) altı C) beş
7. **7.** " *Kardeşim yatakta uyuyacak ?* " cümlesindeki noktalı yere, aşağıdakilerden hangisi yazılmalıdır?
- A) hangi B) yumuşak C) oradaki

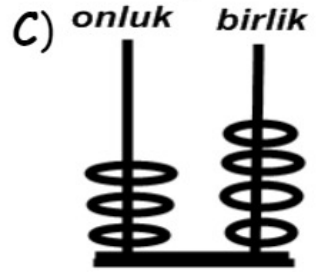
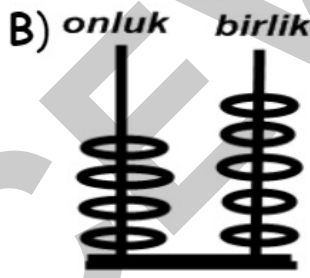
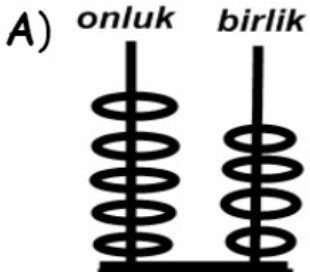
8. "gelir - komşuna - başına - gülme" sözcüklerinden anlamlı bir atasözü oluşturduğumuzda baştan ikinci sözcük hangisi olur?
A) gelir B) gülme C) komşuna
9. Aşağıdaki doğal sayılardan hangileri büyükten küçüğe doğru sıralanmıştır?
A) 60 - 75 - 38 B) 67 - 45 - 32 C) 13 - 24 - 46
10. Beşer ritmik saymalardan hangisi doğru yapılmıştır?
A) 10 - 15 - 20 - 25 - 26 - 27 - 28
B) 20 - 25 - 30 - 34 - 40 - 44 - 50
C) 55 - 50 - 45 - 40 - 35 - 30 - 25
11. 3'ten başlayıp *üçer üçer* 30' a kadar sayarken hangi sayı söylenmez?
A) 20 B) 18 C) 9

12. **12.**  ← Yandaki paradan 4 tane biriktiren bir öğrencinin parası aşağıdakilerden hangisi olur?
- A)  B)  C) 
13. **13.** Hangi sayıyı hem ikişer ikişer hem de dörder dörder sayarken söyleriz?
- A) 10 B) 16 C) 18
14. **14.** "16 -  - 24 - 28 - 32 -  - 40 -  - 48 - 52" sayı örüntüsündeki şekillerin yerine hangi sayılar gelmelidir?
- A)  = 18
 = 33
 = 47
- B)  = 17
 = 36
 = 44
- C)  = 20
 = 36
 = 44

15. **15.** Binnur'un kolundaki dijital saat 23.30'u gösteriyor. Buna göre duvardaki saat nasıl olmalıdır?



16. **16.** "54" sayısının onluk ve birliklerini gösteren abaküs hangisidir?



17. **17.** Aşağıdaki şekillerden simetrik olanı işaretleyiniz?



18. **18.** Aşağıdaki eşleştirmelerden hangisi yanlıştır?

A) inek - ahır

B) koyun - kulübe

C) tavuk - kümes

19. **19.** Aşağıdaki bilgilerden hangisi doğrudur?

- A) Güneşin doğduğu yöne "güney" denir.
B) Güneşin battığı yöne "doğu" denir.
C) Güneşin battığı yöne "batı" denir.

20. **20.** Hangisi bir meslek adı değildir?

- A) iletişim B) marangoz C) berber

21. **21.**



Aşağıdaki taşıtı kim kullanır?

- A) kaptan
B) hostes
C) pilot

22. **22.** Dengeli ve düzenli beslenmek için hangisini bol miktarda yemeliyiz?
A) çikolata B) hamburger C) sebze ve meyve
23. **23.** "Ayşe, dersi dinleyemiyordu. Çünkü Mert ile Deniz aralarında sürekli konuşuyorlardı." Hangisi bu sorunun çözümü olamaz?
A) Ayşe, sınıfı terk edip çıkar.
B) Ayşe, arkadaşlarıyla sorununu konuşabilir
C) Ayşe, öğretmeninden yerini değiştirmesini isteyebilir.
24. **24.** "Arkadaşlık ilişkilerinde çok önemlidir" cümlesini hangisiyle tamamlarsak yanlış olur?
A) kıskançlık B) dürüstlük C) nezaket

25. 5.



Resimde gösterilen yuva hangi canlıya ait olabilir?

A) inek

B) köpek

C) kuzu

ALI ÇEVİK