



ÖZEL OKUL SORULARINDAN HAZIRLANMIŞTIR

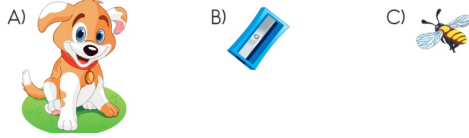
1. Aşağıdaki nesnelere hangileri eşittir?



2.



Aşağıdakilerden hangisi fareden daha ağır ve inekten daha hafiftir?



3. Ahmet 23'ten başlayarak ileriye doğru birer birer sayıyor. Sekizinci sırada söylediği sayı kaçtır?

- A) 27 B) 28 C) 30


4.



Resimde verilenlere göre aşağıdakilerden hangisi doğrudur?

- A) Masa sayısı çocuk sayısından daha çoktur.
B) Çocuk sayısı sandalye sayısına eşittir.
C) Sandalye sayısı masa sayısından daha azdır.


5. Hangi nesnenin sayısı 10'dan büyüktür?



6. Aşağıdaki işlemlerden hangisinin sonucu farklıdır?

- A) $3 + 13$ B) $6 + 11$ C) $9 + 7$

7.



Tabaktaki şekerlerin sayısı aşağıdakilerden hangisi ile gösterilebilir?

- A) 3 onluk 1 birlik B) 1 onluk 3 birlik C) 1 onluk 5 birlik

8. Bir minibüse 6 yolcu bindiğinde yolcu sayısı 14 oldu.

Bu 6 yolcu binmeden önce minibüste kaç yolcu vardı?

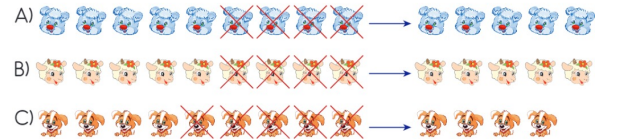
- A) 20 B) 12 C) 8

9. 12 kitap bulunan sınıf kitaplığına Ezgi 7 kitap daha getirdi. Sınıf kitaplığında kaç kitap oldu?

- A) 19 B) 17 C) 5

10. $9 - 4 = 5$

Verilen çıkarma işlemi aşağıdakilerden hangisi ile modellenemez?



11.



Emine yukarıdaki sepetten 2 portakal ve 3 elmayı alacaktır.

Meyveleri aldıktan sonra sepette kaç meyve kalır?


- A) 11 B) 10 C) 9

12. Pervin'in 10, Belma'nın 6 kalemı vardır.

Pervin'in kalemleri Belma'nın kalemlerinden kaç fazladır?

- A) 4 B) 10 C) 16

13.



Resimdeki tabakta bütün ve yarım portakallar vardır.

Bunların tamamı kaç tane bütün portakal eder?

- A) 8 B) 10 C) 12

14. Aşağıdakilerden hangisi yanlıştır?

- A) Karenin dört köşesi vardır.
B) Çemberin bir köşesi vardır.
C) Üçgenin üç köşesi vardır.

15.



Buket'in bulunduğu konuma göre Buket'e en uzak olan kişi kimdir?

- A) Sevda B) Bora C) Asya

16.



Yukarıdaki örüntüde ? yerine hangi şekil gelmelidir?

- A) B) C)

17. Arzu 20 lira ile aşağıdakilerden hangisini alamaz?

- A) 22 lira
B) 18 lira
C) 15 lira

18.



Bugün günlerden
3 Mayıs 2019

Alya'nın aşağıdaki etkinliklerinden hangisi 3 Mayıs 2019 tarihinden öncedir?

- A) Yarın kursa gideceğim.
B) Bugün okula gidiyorum.
C) Dün sinemaya gittim.

19.

Ahmet evden çıktığında saat sekiz buçuğu göstermektedir. Eve 3 saat sonra döndüğünde saat kaç gösterir?



20.



Resimdeki hayvanların sayıları tabloya yazılmıştır.

Çiftlikteki Hayvanların Tablosu	
Hayvanlar	Sayısı
	8
	3
	4

Tabloya hangi hayvanın sayısı yanlış yazılmıştır?

- A) B) C)