


Adı : .....

Soyadı : .....



1 Aşağıdaki saatlerin altına tam saat ya da yarım saat ifadelerinden uygun olanı yazın.



2 Aşağıdaki saatlerde akrep ve yelkovanın hangi renkte olduklarını yazın.



Akrep :

Yelkovan :



Akrep :

Yelkovan :



Akrep :

Yelkovan :



Akrep :

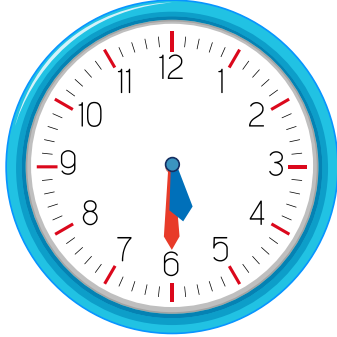
Yelkovan :

Adı : .....


Soyadı : .....



1 Aşağıdaki saatlerin altındaki doğru kutucuğu işaretleyin.



Saat beş



Saat on iki

