
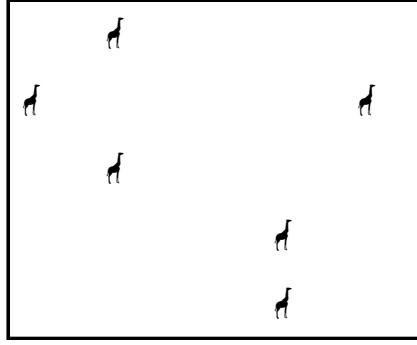



Kutulardaki hayvanların on tanesini yuvarlak içine alın. Kutulardaki hayvan sayılarının onluk, birliklerini ve sayılarını altlarındaki tablolarda gösterin.


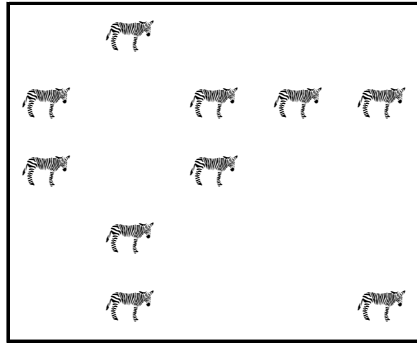
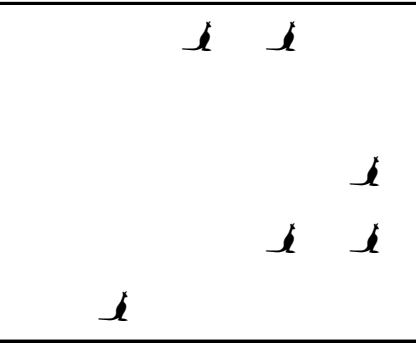


Onluk	Birlik
.....
.....	

Onluk	Birlik
.....
.....	

Onluk	Birlik
.....
.....	

Kutulardaki hayvanların on tanesini yuvarlak içine alın. Kutulardaki hayvan sayılarının onluk, birliklerini ve sayılarını altlarındaki tablolarda gösterin.



Onluk	Birlik
.....
.....	

Onluk	Birlik
.....
.....	

Onluk	Birlik
.....
.....	