

1.

- I. Öğretmen▲veli ilişkisi ile ilgili bir konferansa katıldık.
 II. Adana▲İstanbul uçak seferleri iptal edilmiş.
 III. Şu kırtasiyeden İngilizce▲Türkçe sözlük alacağım.
 IV. Ablam▲annem ve ben alışverişe çıkacağız.

Tahtadaki cümlelerin hangisi ya da hangilerinde "▲" yerine kısa çizgi konmalıdır?

- A. Yalnız III B. I ve II
 C. I, II ve III D. I, II, III ve IV

2.

■ Yüzyıllar boyunca insanlar uzak yerlerle haberleşmeyi sağlayacak işaretleler göndermenin yollarını aradılar. ◆ Mesaj iletmek için başvurulan ilk yöntemler, açık havada yakılan ateşler ve parlayan aynalardı. ● Fransız Claude Chappe 1793'te icat ettiği mesaj iletmek için makinesine, "uzaktan yazan" anlamındaki "telgraf" adını verdi. ★ Telgraf bugüne kadar icat edilmiş en ilginç iletişim aracıydı.

Telgraf icat edilmeden önce insanlar nasıl haberleşiyorlardı?



Metinde hangi sembolle gösterilen cümlede Kübra'nın sorusunun cevabı vardır?

- A. ★ B. ◆ C. ● D. ■

3.

Artık canına tak etmişti. Ne olursa olsun onunla konuşacaktı. Elindeki gazeteyle göz gezdirir gibi yaptı. İçeri girer girmez içini dökmeye başladı.

Yukarıdaki paragrafta kaç tane deyim kullanılmıştır?

- A. 1 B. 2 C. 3 D. 4

4.

Büyükçe bir odası vardı. Duvara dayalı bir kütüphanede çeşitli kitaplar yer alıyordu. Çalışma masası pencerenin önündeydi. Yatağı kütüphanenin karşısındaydı ve yanında çekmeceli bir dolap vardı.

Bu metne en uygun başlık aşağıdakilerden hangisidir?

- A. Kütüphane
 B. Yatak Odası
 C. Çalışma Masası
 D. Çekmeceli Dolap

5.



Yola çıkınca her sabah
 Bulutlara selam ver.
 Taşlara, kuşlara,
 Atlara, otlara,
 İnsanlara selam ver.
 Sonra çıkarıp cebinden aynanı.
 Bir selam da kendine ver.
 Hatırın kalmasın el gün yanında
 Bu dünyada sen de varsın!
 Üleştir dostluğunu varlığa
 Bir kısmı seni de sarsın.
 Üstün DÖKMEN





Şiirin ana duygusu aşağıdakilerden hangisidir?

- A. Yaşama sevinci
 B. Doğa sevgisi
 C. Sabahın güzellikleri
 D. Dünya barışı

6. *Ağaçlar bezensin, dallar süslensin.
Bahçeler donansın, güller süslensin.
Ata'nın açtığı yollar süslensin.
Yurdumun en büyük bayramı bugün.
Uluğ Turanlıoğlu*

Yukarıdaki şiirde sözü edilen bayram kutlaması hangi olayla ilgilidir?

- A.** Türkiye Büyük Millet Meclisinin açılması
B. Mustafa Kemal'in Samsun'a çıkması
C. Cumhuriyetin ilan edilmesi
D. Kurtuluş Savaşı'nın kazanılması

7.  Arkadaşlarıma karşı her zaman hoşgörülü davranırım.
Hakan
 Ne olursa olsun bana doğruyu söylemenizi isterim.
Lale
 İnce davranışlarıyla hepimizin gönlünü kazandı.
Osman
 Öyle tatlı bakıyordu ki ona kızmam mümkün değildi.
Pınar

Yukarıdaki öğrencilerden hangisinin ya da hangilerinin cümlesinde mecaz anlamlı bir sözcük vardır?

- A.** Yalnız Osman **B.** Osman ve Pınar
C. Hakan ve Lale **D.** Lale ve Osman

8. *Faturayı ödemeyince suyu kestiler.*
"Kesmek" sözcüğü aşağıdakilerin hangisinde bu cümledeki anlamıyla kullanılmıştır?
A. Ekmekten iki dilim kesip bana verdi.
B. Ağacın dallarını ustaca kesip istifledi.
C. Saçını kestirmek için kuaföre gitti.
D. Kimsesiz çocuklara yaptığı yardımı kesti.

9. (1) Hikâye de roman gibi bir yazı türüdür. (2) İkisinde de yaşanmış veya yaşanabilecek olaylar anlatılır. (3) Hikâyede tek bir olay varken romanda birden fazla olay vardır. (4) İki yazı türünde de yer ve zaman bellidir.

Yukarıdaki numaralanmış cümlelerin hangisinde hikâye ile roman arasındaki farklılıklar belirtilmiştir?

- A.** 1 **B.** 2 **C.** 3 **D.** 4

10. insan, tek başına kalmış meyvesiz bir ağaç gibi kuruyup gider.

Bu cümledeki boş bırakılan yere aşağıdakilerden hangisi yazılabilir?

- A.** Mutlu **B.** Bencil
C. İyimser **D.** Başarılı

11. Aşağıdaki cümlelerden hangisinin sonuna farklı bir noktalama işareti konmalıdır?
A. Karnı acıktı mı kimse onu durduramaz
B. Senin geleceğinden haberi var mı
C. Güzel mi güzel bir kız çıktı kapıdan
D. Bu soruyu da çözdün mü konuyu iyice anlarsın


12. 1. Domatesler piştikten sonra tavaya yumurtaları kırın.
2. Üzerine küçük doğranmış domatesleri ilave edin.
3. Tavanın kapağını kapatıp domatesleri iyice pişirin.
4. Rengi değişinceye kadar biberleri sıvı yağda kavurun.
5. Üzerine tuz ve baharat ekleyip yumurtaları pişirin.

Yukarıda menemenin yapılış aşamaları karışık şekilde verilmiştir.

Buna göre bu cümleler hangi seçenekteki şekilde sıralanmalıdır?

- A. 4 - 2 - 3 - 1 - 5
B. 4 - 2 - 5 - 1 - 3
C. 3 - 4 - 5 - 2 - 1
D. 3 - 1 - 2 - 4 - 5

13.

 Soğuğa dayanmanın en emin çaresi soğuğu sevmektir, derler. Gerçekten insan soğuğu aradığı zaman, ne kadar şiddetli olursa olsun, rahatsız olmaz. Hayatta zorluklara dayanmanın en emin çaresi de hayatı sevmektir. İnsan bir kere hayatı sevince onun bütün sıkıntılarına katlanır, hiçbiri ağır gelmez.

Şevket RADO

Yukarıdaki paragrafın ana fikri nedir?





- A. Soğuğa dayanmak için soğuktan korunmak gerekir.
B. Hayat sıkıntılarla doludur bu yüzden hayatı sevmeliyiz.
C. Hayatın sıkıntılarını kabul edenler soğuğa da alışabilirler.
D. Hayatın sıkıntılarına katlanmanın en kolay yolu hayatı sevmektir.
14. Aşağıdaki cümlelerin hangisinde "Ne zaman?" ve "Nasıl?" sorularının yanıtı vardır?
A. Buraya ne zaman geldiğinizi unutmuş.
B. Annem saat üçte iş yerime geldi.
C. Akşamüstü aceleyle evden çıktı.
D. Salondan gelen gürültü onu kızdırdı.

15. ✓ Günlerdir baş ağrısı çekiyor.
✓ Her şeyin başı sağlık.
✓ Dağın başında mahsur kaldık.
✓ Paragraf başı nasıl yapılır?

Yukarıdaki cümlelerde "baş" sözcüğü kaç farklı anlamda kullanılmıştır?

- A. 1 B. 2 C. 3 D. 4


16.

Adım sayısı	Şekil örüntüsü	Sayı örüntüsü
1		$1 + 1 = 2$
2		$2 + 2 = 4$
3		$4 + 4 = 8$
4		$8 + 8 = 16$
5	?	

Yukarıda sayılarla ilişkilendirilen örüntünün 5. adımındaki şekil kaç bölümden oluşmalıdır?


- A. 24 B. 28 C. 32 D. 36

17.



Yukarıdaki vagonlardan hangi ikisi karşılıklı olarak yerleri değiştirildiğinde lokomotiften itibaren sayılar küçükten büyüğe doğru sıralanmış olur?

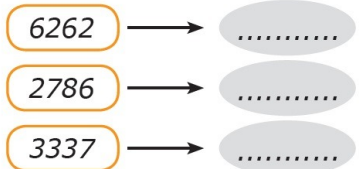
- A. 4 - 3 B. 2 - 1 C. 2 - 3 D. 3 - 1

18. 
- Yukarıda modellenen iki sayının toplamı kaçtır?
- A. 5554 B. 5650
C. 5652 D. 5654

19. **Tablo: Şehirlerimizin Nüfusu**

Şehir	Nüfusu
Malatya	781 305
Trabzon	779 379
Ordu	750 588
Mardin	796 237
Erzurum	762 021

Tablodaki illerimiz nüfusu az olandan çok olana doğru sıralandığında 2. sırada hangi il yer alır?

- A. Erzurum B. Ordu
C. Trabzon D. Malatya
20. 
- Verilen sayıları en yakın yüzlüğe yuvarladığımızda sırasıyla aşağıdaki sayılardan hangilerini elde ederiz?
- A. 6300 - 2700 - 3300
B. 6300 - 2800 - 3400
C. 6200 - 2700 - 3400
D. 6300 - 2800 - 3300

21. $58 - 67 - 73 - 82 - 88$

Aşağıdaki örüntülerden hangisi verilen örüntü ile aynı kurala sahiptir?

- A. 121 - 130 - 136 - 145 - 151
B. 177 - 180 - 189 - 197 - 206
C. 214 - 219 - 225 - 230 - 236
D. 314 - 321 - 330 - 337 - 346

22. "5217 < < 5225" sıralamasında boş bırakılan yere kaç tane sayı yazılabilir?
- A. 4 B. 5 C. 6 D. 7

23. $9 - 21 - 18 - 30 - 27 - 39 - \blacktriangle - \bullet - \blacksquare$

Yukarıda oluşturulan örüntüde "■" sembolü ile belirtilen yere hangi sayı yazılmalıdır?

- A. 36 B. 42 C. 45 D. 48

24. $6 - 11 - 12 - 17 - 18 - \blacksquare - \blacktriangle - 29 - 30$

Yukarıdaki sayı örüntüsünde "■" ve "▲" ile gösterilen sayıların toplamı kaçtır?

- A. 46 B. 47 C. 48 D. 49

- 25.

On binler	Binler	Yüzler	Onlar	Birler
50 000	7000	0	60	5

Yukarıda beş basamaklı bir doğal sayının basamaklarındaki rakamların basamak değerleri verilmiştir.

Buna göre bu doğal sayının okunuşu aşağıdakilerden hangisidir?

- A. Beş yüz yedi bin altmış beş
B. Elli bin yedi yüz altmış beş
C. Elli yedi bin altı yüz beş
D. Elli yedi bin altmış beş

26. **Tablo:** Satılan otomobil sayıları

Yıllar	2016	2017	2018
Otomobil Sayıları	2678	3267	2915

Yukarıdaki tabloda bir firmanın yıllara göre sattığı otomobil sayıları gösterilmiştir.

Üç yılda satılan otomobil sayılarının toplamı kaçtır?

- A. 8860 B. 8880 C. 8915 D. 9120

27.

+	1125	1200	2300
315	1440		□
670		1870	
2304	○		4604

Tabloya göre "○ + □" işleminin sonucu kaçtır?

- A. 5954 B. 6041 C. 6044 D. 6119

28.



Yukarıda Dünya'nın hareket türleri hangi sembollerle gösterilmiştir?

- A. ▲, ● B. ▲, ◆
C. ●, ◆ D. ▲, ■

29.

- I. Güneyden kuzeye
II. Kuzeyden güneye
III. Batıdan doğuya
IV. Doğudan batıya

Dünya'nın kendi etrafında yaptığı dönme hareketinin yönü hangi numara ile gösterilmiştir?

- A. I B. II C. III D. IV

30. Dünya ile ilgili verilen bilgilerden hangisi doğrudur?

- A. Gün içinde Güneş farklı yerlerde duruyormuş gibi görünür.
B. Gece ve gündüz süreleri yıl boyunca aynıdır.
C. Mevsimler, Dünya'nın kendi eksenini etrafındaki dönüşünün sonucudur.
D. Şubat ayı dört yılda bir 28 gündür.

31. Güneş'in gün içinde farklı yerlerde görünmesinin nedeni aşağıdakilerden hangisidir?

- A. Dünya'nın Güneş etrafındaki hareketi
B. Dünya'nın kendi etrafındaki hareketi
C. Dünya'nın küre şeklinde olması
D. Ay'ın Dünya etrafındaki hareketi

32. Aşağıdaki cümlelerden doğru olanların başına "D", yanlış olanların başına "Y" yazınız.

Besinleri hayvanlardan ve bitkilerden elde ederiz.
Canlılar büyüyüp gelişmek için beslenirler.
Günlük faaliyetler için ihtiyaç duyulan enerji besinlerden sağlanır.
Besinler genellikle bir besin maddesi içerir.

Bu etkinlik doğru tamamlandığında hangi sonuca ulaşılır?

- A.

Y
D
D
D

 B.

D
Y
D
D

 C.

D
D
Y
D

 D.



D
D
D
Y

33.

- Vücudumuzda yapıcı ve onarıcı görevleri vardır.
- Kırılan kemiklerin onarılmasında görev alırlar.

Yukarıdaki açıklamalar hangi besin içeriği ile ilgilidir?

- A. Yağlar B. Proteinler
C. Karbonhidratlar D. Vitaminler

34. **Tanım:** Kendimizi karşıımızdaki kişinin yerine koyarak onun duygu ve düşüncelerini anlamaya empati denir.
- Örnek:**
- 
- Yukarıdaki şemada "?" yerine hangi seçenekteki örnek yazılabilir?
- A.** Arkadaşlarından ayrıldığın için üzülmeni anlıyorum.
B. Bir daha seninle sinemaya gitmek istemiyorum.
C. En sevdiğimiz spor dalı futboldur.
D. Yarın müzeye ailemle birlikte gideceğim.
35. *Fiziksel farklılıklarımızdan dolayı birbirimize nasıl saygı duyuyorsak duygu ve düşüncelerimizden dolayı da birbirimize saygı duymalıyız.*
- Buna göre aşağıda verilen örneklerden hangisinde karşılıklı saygıdan söz edebiliriz?
- A.** Sakın bir daha benimle konuşma!
B. Aynı takımları tutmasak da Ediz en yakın arkadaşımdır.
C. Yazılıdan yüksek not alsan şaşardım.
D. Boyum senin boyundan daha uzun.
36. – *Duygularımız ve düşüncelerimiz davranışlarımızı etkiler.*
 – *Duygu ve düşüncelerdeki farklılıklara karşı saygılı olmalıyız.*
 – *İnsanların duygu ve düşüncelerinde farklılıklar olabilir.*
- Yukarıdaki cümlelerden doğru olanların başına "D", yanlış olanların başına "Y" yazdığımızda hangi sonuca ulaşırız?
- A.** DDD **B.** YDD
C. DDY **D.** YYD
37. *Simge:*
 – *Dedeciğim, ilkokulda okurken en sevdiğin ders hangisiydi?*
- Simge'nin dedesine bu soruyu sormasının amacı nedir?
- A.** Dersleri için yardım istemek
B. Onun çocukluğu hakkında bilgi edinmek
C. Dedesinin mesleğini öğrenmek
D. Dedesinin arkadaşlarını tanımak
38. *I. Konu hakkında ön bilgi toplanır.
 II. Görüşmeler kaydedilir.
 III. Sorular hazırlanır.
 IV. Kayıt dinlenerek bilgiler düzenlenir.*
- Yukarıda sözlü tarih çalışması yapılırken izlenecek yollar verilmiştir.*
- Bu cümlelerin doğru sıralanışı hangi seçenekte verilmiştir?
- A.** I - III - II - IV **B.** I - III - IV - II
C. II - I - III - IV **D.** I - II - III - IV
39. Melis, aile tarihini oluşturmak için aşağıdaki yöntemlerin hangisinden yararlanamaz?
- A.** Aile büyükleri ile görüşebilir.
B. Aile fotoğraf albümünü inceleyebilir.
C. Öğretmeni ile röportaj yapabilir.
D. Geçmişte ailesi tarafından kullanılan eşya ve kıyafetleri inceleyebilir.
40.  *I'm from Japan.
 I'm*
- Cümlede boş bırakılan yere uygun kelime aşağıdakilerden hangisidir?
- A.** Chinese **B.** Turkish
C. Spanish **D.** Japanese

41.

①	Spain	Spanish
②	Italy	Italish
③	Turkey	Turkish
④	France	French


Tablonun kaç numaralı satırındaki ülke ile ulus eşleştirmesi yanlıştır?

- A. ① B. ② C. ③ D. ④

42.

John : Is she Chinese?
Susan : Yes, she is.

Konuşmada adı geçen ulusun bayrağı hangi seçenekte verilmiştir?



43.

CONTINENTS

- Asia
- Europe
-
-
-

Aşağıdakilerden hangisi listede boş bırakılan yerlerden birine yazılamaz?

- A. America B. Australia
C. Africa D. Ankara

44.

Is she? Yes, she is.



Aşağıdaki kelimelerden hangisi cümlede boş bırakılan yere uygundur?

- A. Russia B. Italian
C. Japan D. Spain

45.

Semih : Where is Spain?
Selin : in Europe.

Konuşmada boş bırakılan yere uygun ifade aşağıdakilerden hangisidir?

- A. I'm B. Is
C. It's D. It