

Anlamli ve kurallı cümle oluşturalım.

380 ile 440 sayıları arasında kalan en büyük ve en küçük doğal sayıların toplamı kaçtır?

evde - sonundaki -oturuyorum -sokağın

Birbirinden farklı üç basamaklı doğal sayıların toplamı 2135 'tir. Bu toplananların en küçüğü kaçtır?

kurtarır- çalışmak- insanı -tembellikten

seni- geleceğim -görmeye-akşam -yarın

4862 sayısının 2469 fazlası kaçtır?

Tablodaki cümlelerin türlerini işaretleyelim.

Yapısı bakımından

Tümce	kurallı	devrik
Sinemaya gidiyoruz.		
Kağan konuşmaz ders yaparken.		
Ben çok güzel yemek yaparım.		
Bana bıraktı elindeki kitabı.		
Alperen de gidiyor.		

Bahçemizde 148 elma ağacı vardır. Armut ağaçları ise elma ağaçlarından 76 fazladır. Bahçemizde toplam kaç ağaç vardır?

Anlamı bakımından

tümce	olumlu	olumsuz
Sinemaya gidiyoruz.		
Kağan konuşmaz ders yaparken.		
Ben çok güzel yemek yaparım.		
Bana bırakmadı elindeki kitabı.		
Alperen de gidecekti.		

Yasin 30 yaşındadır. Musa ise 7 yıl önce 19 yaşındadır. Bu iki arkadaşın 6 yıl sonraki yaşları toplamı kaçtır?

Milli kültürümüzü yansıtan içecekler aşağıdakilerden hangisidir?

- A) kahve-gazoz B) kola- fanta
C) ayran- pepsi D) ayran -kahve

Aşağıdakilerden hangisi geçmişten günümüze oynanan çocuk oyunlarından?

- A) cirit B) araba yarışı C) misket D) bilardo

Aşağıdakilerden hangisi milli kültürümüzün öğeleri arasında yer almaz?

- A) bayramlarımız B) Ülkemizin doğal güzellikleri
C) Yiyecek ve içeceklerimiz D) Halk oyunlarımız

Aşağıdakilerden hangisi kültürümüzü yansıtan geleneksel sanat dallarımızdan biri değildir?

- A) Çini B) Origami C) Hat D) Minyatür

Aşağıdakilerden hangisi geleneksel el sanatlarımızdan değildir?

- A) Heykeltçilik B) mermercilik
C) gümüş işlemciliği D) halı kilim dokumacılığı

Aşağıdakilerden hangisi kültürümüzün bir parçası değildir?

- A) Sünnet düğünleri B) noel kutlamaları
C) kına geceleri D) Asker uğurlamaları

Aile tarihi oluştururken yararlanılabilecek kaynaklardan değildir?

- A) Fotoğraflar B) diplomalar
C) kıyafetler D) telefon numaraları

Aşağıdakilerden oyunlardan hangisi geleneksel oyunlarımız arasında sayılmaz?

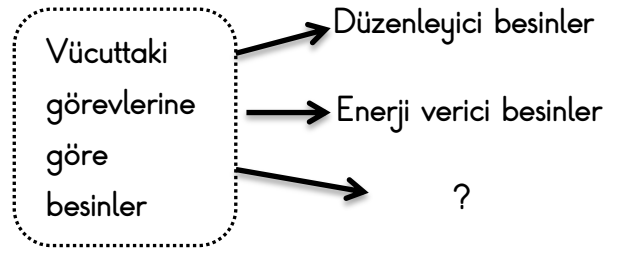
- A) Beş taş B) misket C) hentbol D) topaç çevirme

Nüfus cüzdanı kaybolan Kağan hangisine giderek yeni nüfus cüzdanı alabilir?

- A) Emniyet Müdürlüğü B) Nüfus Müdürlüğü
C) Belediye D) Halim Çimen İlkokulu

Bireyi başka bireylerden ayıran kendine has özelliklerine ne denir?

- A) Bireysel farklılık B) öz güven
C) Duygusallık D) empati

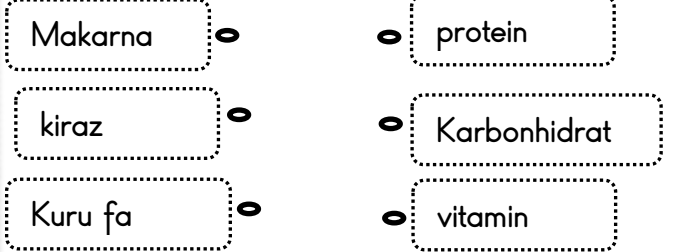


Soru işareti yerine aşağıdakilerden hangisi yazılmalıdır?

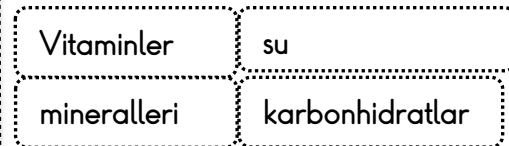
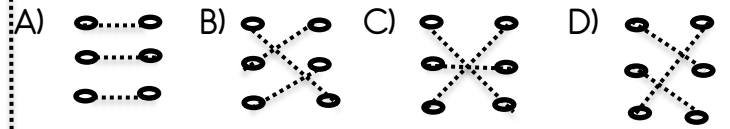
- A) proteinler B) yapıcı- onarıcı besinler
C) vitaminler D) karbonhidratlar

Aşağıdaki besin gruplarından hangisi protein bakımından zengindir?

- A) Karpuz- domates- ispanak
B) Mısır -zeytin -susam
C) Tavuk -bakıl- yoğurt
D) Pirinç -patates -ekmek



Besin içerikleri ile besinlerin doğru eşleştirilmesi hangi seçenekte verilmiştir?



Yukarıdaki besinleri vücuttaki görevleri bakımından hangisi grup dışı kalır?

- A) Vitaminler B) mineraller C) karbonhidratlar D) su

..... tüm besinlerde bulunur.

Cümledeki boşluğu hangi ifade ile tamamlayabiliriz ?

- A) Proteinler
B) Yağlar
C) Karbonhidratlar
D) Su ve mineraller