

1

Bir günde 25 sayfa kitap okuyan Aslı, bir hafta da kaç sayfa okumuş olur?

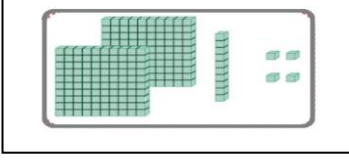
$$\begin{array}{r} \square \\ \square \\ \hline \square \end{array}$$

2

3 onluk ve 7 birlikten oluşan sayının 6 katı kaçtır?

$$\begin{array}{r} \square \\ \square \\ \hline \square \end{array}$$

3



Yukarıdaki sayının 3 katı kaçtır?

$$\begin{array}{r} \square \\ \square \\ \hline \square \end{array}$$

4

Tuna 48 sayfalık 10 'lu hikaye kitabı seti almıştır. Tuna 'nın aldığı kitapların tamamının sayfa sayısı kaçtır?

$$\begin{array}{r} \square \\ \square \\ \hline \square \end{array}$$

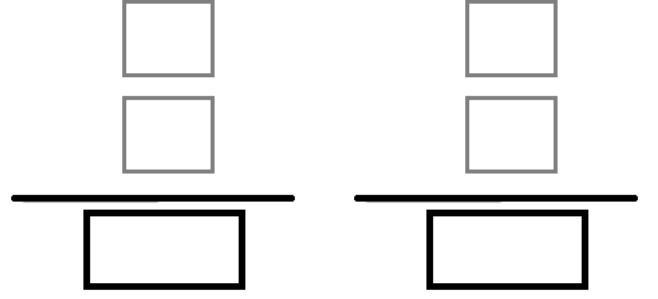
5

Melis 8 yaşındadır. Annesinin yaşı Melis'in yaşının 4 katıdır. İksinin yaşları toplamı kaçtır?

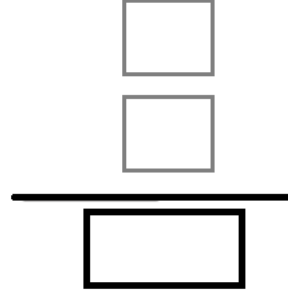
$$\begin{array}{r} \square \\ \square \\ \hline \square \end{array} \quad \begin{array}{r} \square \\ \square \\ \hline \square \end{array}$$

**6**

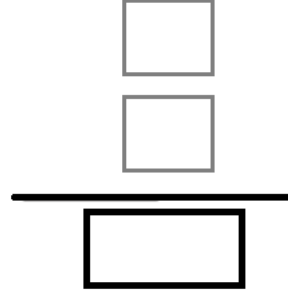
Sınıflarımızda 14 sıra vardır. Her sırada 2 öğrenci oturmaktadır. Okulumuzda 10 sınıf olduğuna göre ,okulumuzda kaç öğrenci vardır?

**7**

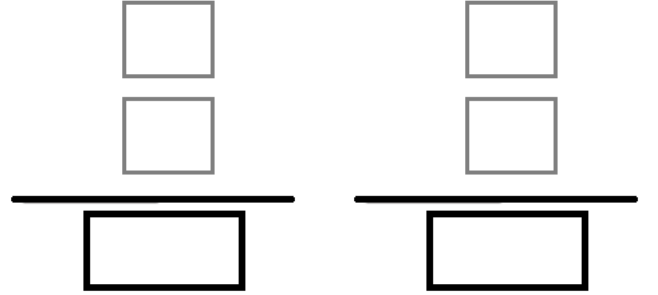
Günde 4 yumurta tüketen bir aile, 8 hafta kaç yumurta tüketir?

**8**

Çarpınlarından birisi 109, diğeri 6 olan çarpma işleminde çarpım kaçtır?

**9**

Üç basamaklı en küçük tek sayının 9 katı, üç basamaklı en büyük sayıdan kaç eksiktir?

**10**

Murat 9 yaşındadır. Annesinin yaşı Murat 'ın yaşının 4 katıdır. İkisinin 5 yıl sonraki yaşları toplamı kaçtır?

