

1 Sınıfımızda 18 öğrenci var. Bu öğrencilerin yarısı erkektir. Erkek öğrenci sayısı kaçtır?



5 Bir manav yarısı 9 olan kavunların tamamını sattığını söylemiştir. Buna göre manav, kaç kavun satmıştır?



2 2 düzine boya kalemlerinin çeyreği kaç boya kalemi eder?



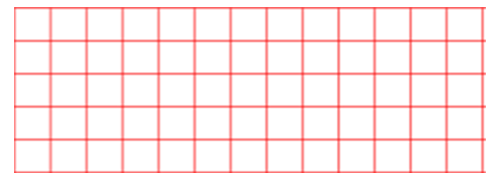
6 28 tane şeftalinin çeyreğini yersem geriye kaç tane şeftali kalır?




3 32 elmanın çeyreğini yersek geriye kaç elma kalır?




7 8 çeyrek ekmek ile 4 yarım ekmek kaç tam ekmek eder?



4 Halil amcam bana "4 tam karpuz, kaç yarım karpuz eder?" diye sordu. Sizce cevap kaçtır?



8 2 tam simit ile, 8 çeyrek simit, kaç yarım simit eder?



9 Berat kardeşine, “Yarısı 15 olan sayının tamamı kaçtır?” diye sordu.

Berat'ın kardeşi siz olsaydınız, bu soruya ne cevap verirdiniz?



13 Öğretmeniniz size “3 deste kalemin çeyreği, kaç kalem eder?” diye sorarsa, cevabınız ne olur?



10 Hasan 26 çileğin yarısının, 5 fazlasını yediğini söylemiştir. Buna göre Hasan kaç çilek yemiştir?



14 Mehmet' in babası 36 yaşındadır. Mehmet'in yaşı, babasının yaşının çeyreğinin, 4 fazlasıdır. Buna göre Mehmet kaç yaşındadır?



11 Gülnisa, 20 sayfalık kitabın önce çeyreğini, sonra da yarısını okudu. Gülnisa toplam kaç sayfa kitap okudu?



15 Maymun Çaki, 12 muzun çeyreğini yediğine göre, geriye kaç muz kalmıştır?



12 6 birlik 3 onluktan oluşan sayının çeyreğinin, 7 fazlası kaç yapar?



16 Aylin 16 lirasının önce yarısını, sonra da çeyreğini harcadığını söyledi. Aylin toplam kaç lira harcamıştır?