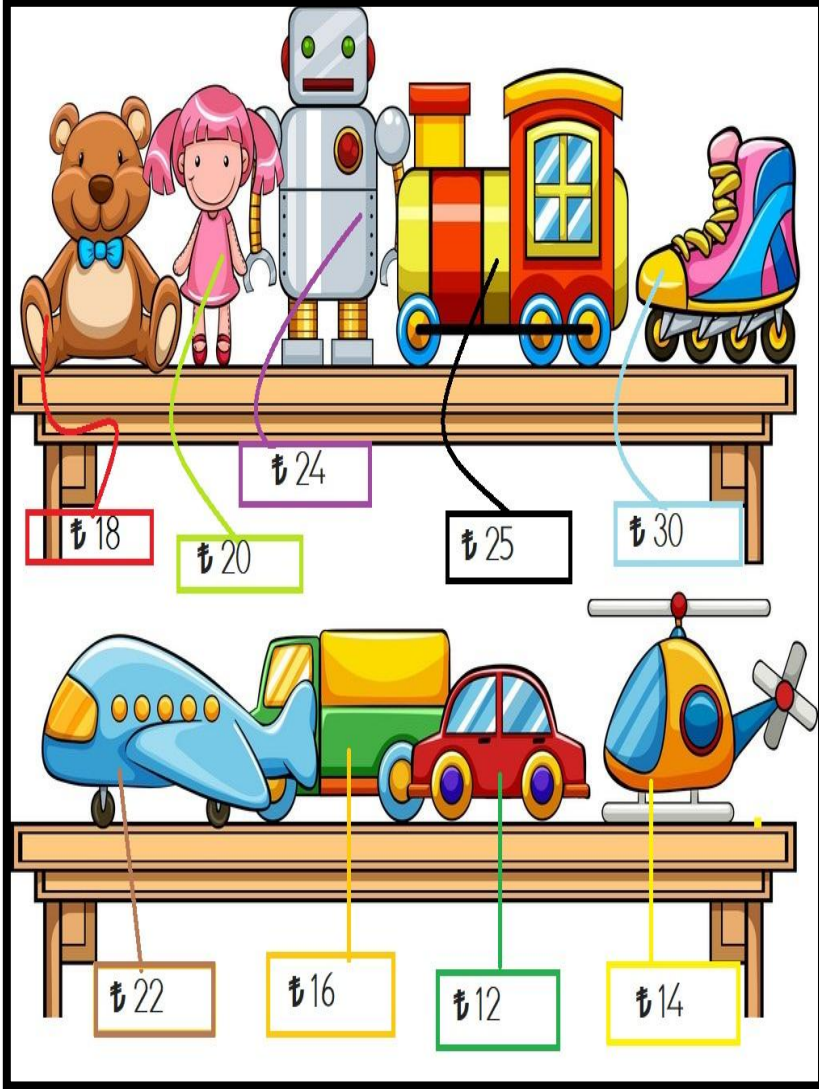


Soruları görsel fiyatlarına göre cevaplayalım



En pahalı olan hangisidir?

.....

En ucuz oyuncak hangisidir?

.....

Alt raftaki oyuncaklar toplamı kaç liradır?

.....

Bebek ,robottan kaç lira eksiktir?

.....

Tren ve ayıcığın toplamı kaç liradır?

.....

MINİ TEST



Yukarıdaki para miktarı 50 liradan ne kadar eksiktir?

- A) 17 TL B) 13 TL C) 11 TL

x	5	3
10		☆
9	☼	

Tabloya göre ☼ + ☆ toplamı kaçtır?

- A) 55 B) 65 C) 75

Hangi sayının 9 katının en yakın onluğu 40'tır?

- A) 5 B) 4 C) 3



Yukarıdaki örüntüde "?" yerlerine hangi şekiller gelmelidir?

- A) ☼ → B) ☼ → C) ☼ →

Kumbaramdaki 34 liranın önce 15 lirasını daha sonra 9 lirasını harcadım. Kumbaramda kaç liram kaldı?

- A) 9 TL B) 10 TL C) 11 TL

24 liranın yarısı ile çeyreğinin toplamı kaç liradır?

- A) 14 TL B) 16 TL C) 18 TL

Yanda verilen çıkarma işleminin bölme ile gösterimi hangisidir?

$$12 - 4 = 8$$

$$8 - 4 = 4$$

$$4 - 4 = 0$$

- A) 12:3 B) 12:4 C) 15:5

İşlemlerle sonuçları aynı renge boyayalım.

3 x 5	9	4	10 x 0	14
27	1 x 1	7 x 4	2 x 1	2 x 3
25	12	50	5 x 5	40
4 x 4	10 x 5	15	3 x 4	9 x 3
8 x 1	2	6	28	24
1	8 x 5	0	7 x 2	16
2 x 2	6 x 4	3 x 3	8	▲

Sayıların en onluğunu yazalım ve büyükten küçüğe sıralayalım.

Matematik Tekrar 30

89, 45, 68, 22

Toplamları verilen sayılara göre tabloları dolduralım.

65		83	
13	52	10	73
26		30	
32		45	
41		51	
58		67	
60		80	

Örüntüleri tamamlayalım.



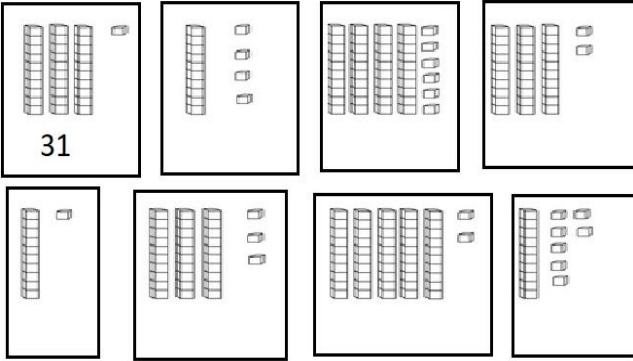
< n > < n >



Saatin kaç gösterdiğini yazalım.



Onluk bloklarla gösterilen sayıları yazalım.

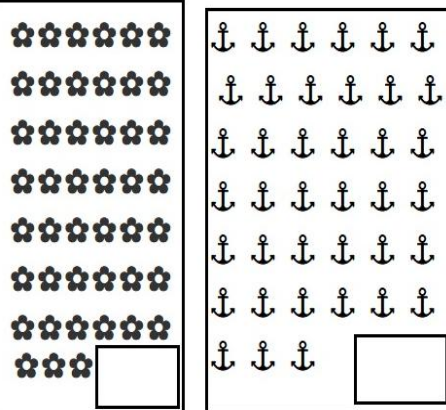


İkişer geriye sayarak yazalım.

Matematik Tekrar 30

30, _____, _____, _____, _____, _____
84, _____, _____, _____, _____, _____
46, _____, _____, _____, _____, _____
78, _____, _____, _____, _____, _____
22, _____, _____, _____, _____, _____


Nesne sayılarını yazalım.



Tabloyu günlere göre dolduralım.

Dün	Bugün	Yarın
Salı		
		Cuma
	Pazar	
		Cumartesi

Saatin kaç gösterdiğini yazalım.



Öğleden Önce

Öğleden Sonra