







## TABLO OKUMA 2



- Aşağıda verilen tablolara göre soruları cevaplayalım.

Tablo: En sevilen hayvanlar

HAYVANLAR	SAYISI
	11
	12
	14
	10

1- Tavuk sevenlerin sayısı kaçtır ?

2- Hindi sevenlerin sayısı kaçtır ?

3- Ördek sevenlerin sayısı kaçtır ?

4- Horoz sevenlerin sayısı kaçtır ?

5- En az sevilen hayvan nedir ?

6- En çok sevilen hayvan nedir ?



Tablo: En sevilen içecekler

İÇEÇEKLER	SAYISI
Meyve suyu	13
Çay	9
Süt	10
Kahve	8

1-Çay sevenlerin sayısı kaçtır ?

2-Meyve suyu sevenlerin sayısı kaçtır ?

3-Kahve sevenlerin sayısı kaçtır ?

4-Süt sevenlerin sayısı kaçtır ?

5-Meyve suyu sevenlerin sayısı çay sevenlerin sayısından kaç fazladır ?

6-Kahve sevenlerin sayısı süt sevenlerin sayısından kaç azdır ?