

MEB KAZANIM DEĞERLENDİRME SINAVI

1. Aşağıdakilerden hangisi, Büyük Taarruz öncesi yapılan hazırlıklar arasında yer almaz?

- A) Doğu cephesinin güçlendirilmesi
- B) Ordunun gizlilik içinde sevk edilmesi
- C) Orduya silah ve uçak desteğinin sağlanması
- D) İstanbul ve dünya ile haberleşmenin kesilmesi

2.



Verilen haritada, Mondros Ateşkes Antlaşması'ndan sonra Osmanlı topraklarını işgal eden devletlerin işgal ettiği bölgeler, romen rakamları ile gösterilmiştir.

Buna göre, işgalci devletlerin işgal ettiği bölgeler, aşağıdakilerin hangisinde doğru olarak verilmiştir?

| | I | II | III | IV |
|----|------------|------------|-----------|------------|
| A) | Fransa | İtalya | İngiltere | Yunanistan |
| B) | İtalya | Yunanistan | İngiltere | Fransa |
| C) | Yunanistan | İtalya | Fransa | İngiltere |
| D) | İngiltere | Yunanistan | Fransa | İtalya |

3.



I



II



III



IV

Yukarıda verilen görsellerden hangisi Türk kültürünün manevî öğelerine örnek gösterilebilir?

- A) I
- B) II
- C) III
- D) IV

4. Her yıl Haziran ayında yapılan geleneksel "Kırkpınar Yağlı Güreşleri" hangi ilde yapılır?

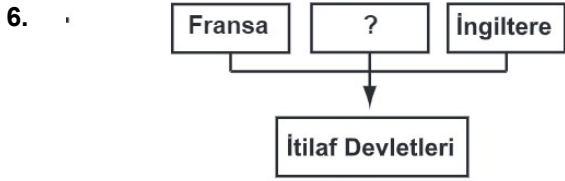
- A) Tekirdağ
- B) Kırklareli
- C) Edirne
- D) İstanbul

5.

- I- İstanbul
- II- İzmir
- III- Doğu Trakya
- IV- Antep

Yukarıda verilenlerden hangileri Mudanya Ateşkes Antlaşması ile savaş yapılmadan kurtarılmıştır?

- A) I - III
- B) II - III
- C) I - II
- D) II - IV



Şemada “?” ile boş bırakılan yere aşağıdaki devletlerin hangisi yazılabilir?

- A) Almanya
- B) Rusya
- C) Osmanlı Devleti
- D) Avusturya - Macaristan

7. I- Cirit
II- Masa tenisi
III- Satranç
IV- Güreş

Yukarıdakilerden hangileri Türk Kültürü’ne ait örnekler arasında gösterilebilir?

- A) Yalnız I
- B) Yalnız IV
- C) I - IV
- D) II - III

8. Millî Mücadele’nin devam ettiği yıllarda, Türk ordusu doğu illerimizi işgalden kurtarmak için aşağıdakilerden hangisiyle savaşmıştır?

- A) Rumlar
- B) Fransızlar
- C) Ruslar
- D) Ermeniler

9. Mondros Ateşkes Antlaşması’ndan sonra başlayan işgallere karşı Türk halkının ilk tepkisi’nin oluşturulmasıdır.

Verilen boşluk aşağıdakilerden hangisi ile doldurulmalıdır?

- A) Kuvayimilliyeye
- B) Kuva-i İnzibatiye
- C) Misakımilli
- D) Osmanlı Mebusan Meclisi



Millî Mücadele yıllarında Türk milletinin yaptığı savaşların, yapıldığı tarihe göre doğru sıralanabilmesi için kaç numaralı savaşların yerleri değiştirilmelidir?

- A) I - II
- B) II - III
- C) I - IV
- D) III - IV

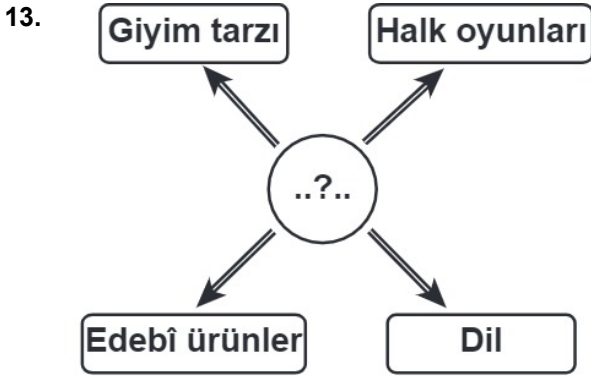
11. 23 Nisan 1920’de TBMM’nin açılmasına ortam hazırlayan gelişme aşağıdakilerden hangisidir?

- A) İzmir’in işgal edilmesi
- B) Fransa’nın Antep’e saldırması
- C) İngilizlerin iç isyanları kışkırtması
- D) Osmanlı Mebusan Meclisi’nin dağıtılması

12. Öğrenciler suya nakış işlemeyi keşfetti.

diyen bir kişi, aşağıdaki etkinliklerin hangisinden söz ediyor olabilir?

- A) At biniciliği
- B) Ebru sanatı
- C) Satranç oyunu
- D) Tiyatro gösterimi



Şemada “?” ile boş bırakılan yere aşağıdakilerden hangisinin yazılması en uygun olur?

- A) Gelenek
- B) Görenek
- C) Millî kültür
- D) Örf kuralları

14. Tekâlif-î Milliye Emirleri hangi savaş öncesinde ordunun ihtiyaçlarını karşılamak amacıyla yayımlanmıştır?

- A) II. İnönü
- B) Sakarya
- C) Büyük Taarruz
- D) Kütahya-Eskişehir

15. 1915’te Çanakkale Boğazı’nı geçip, İstanbul’u ele geçirmek isteyen devletler aşağıdakilerin hangisinde doğru olarak verilmiştir?

- A) İngiltere-Rusya
- B) Fransa-İtalya
- C) Rusya-İtalya
- D) Fransa-İngiltere

16. “Milletin bağımsızlığını, yine milletin azim ve kararı kurtaracaktır.” ilkesi aşağıdakilerin hangisinde kabul edilmiştir?

- A) Havza Genelgesi
- B) Amasya Genelgesi
- C) Erzurum Kongresi
- D) Sivas Kongresi

17. Mustafa Kemal, illerdeki sivil ve askerî yöneticilere gizlice gönderdiği Havza Genelgesi’nde, işgalleri protesto eden mitingler düzenlenmesini istemiştir. Mustafa Kemal bu genelge ile;
I. İşgallere karşı millî bilinç oluşturma
II. Halkın işgallere karşı tepki göstermesi
III. Saltanata olan bağlılığın artırılması durumlarından hangilerini hedeflemiş olabilir?

- A) Yalnız II
- B) Yalnız III
- C) I ve III
- D) I ve II

18. İstanbul Boğazı'nda düşman donanmasını gören Mustafa Kemal yaverine dönerek: "Geldikleri gibi giderler." dedi.

Bu söz Mustafa Kemal'in aşağıdaki kişilik özelliklerinden hangisiyle ilişkilendirilemez?

- A) Kararlılık B) Çalışkanlık
C) Vatanseverlik D) İleri görüşlülük

19. **Mondros Ateşkes Anlaşması'na göre, aşağıdaki illerden hangisi Fransızlar tarafından işgal edilmiştir?**

- A) Maraş B) İzmir
C) Antalya D) Samsun

20. 1. Afyon
2. İstanbul
3. Kütahya
4. Doğu Trakya

Yukarıda verilenlerden hangileri Mudanya Ateşkes Anlaşması ile savaş yapmadan geri aldığımız yerlerdendir?

- A) 1 ve 2 B) 2 ve 3
C) 3 ve 4 D) 2 ve 4

21. "Yeni Türk Devleti'nin temelleri atılmış oldu."

Verilen bu gelişme aşağıdakilerden hangisinin sonucudur?

- A) Saltanatın kaldırılması
B) TBMM'nin açılması
C) Cumhuriyetin ilan edilmesi
D) Lozan Antlaşması'nın imzalanması

22. Erler çıktı meydana!
Birbirinden merdane!
Biri ak biri kara!
Mevla'm her birine kuvvet vere!

Bu sözler hangi spora başlamadan önce söylenir?

- A) Güreş B) Cirit
C) Okçuluk D) Basketbol

23. **Kurtuluş Savaşı'nın devam ettiği dönemde bile Ankara'daki meclise katılacak milletvekillerinin seçimle belirlenmesi aşağıdakilerden hangisine önem verildiğini gösterir?**

- A) Barışçılığa
B) Milliyetçiliğe
C) Bağımsızlığa
D) Millî egemenliğe

24. Mustafa Kemal Paşa, “Ordular ilk hedefiniz Akdeniz’dir. İleri!” emrini, aşağıdaki savaşlardan hangisi sonrasında vermiştir?

- A) I. İnönü Savaşı
- B) Sakarya Savaşı
- C) Eskişehir - Kütahya Savaşları
- D) Başkumandan Meydan Savaşı

25. Bir toplumda görülen kültürel öğeler aynı şekilde başka bir toplumda görülmeyebilir. Mesela halk oyunları her bölgede farklı şekillerde karşımıza çıkar.

Bu bilgide kültürün hangi özelliği vurgulanmıştır?

- A) Dinamik yapısı
- B) Toplumlara özgü oluşu
- C) Nesilden nesile aktarılması
- D) Zaman içinde değişebilirliği

26. İtilaf Devletleri ile Osmanlı Devleti arasında imzalanan Mondros Ateşkes Anlaşması’na göre; Türk ordusunun dağıtılmasına ve silahlarına el konulmasına karar verildi.

İtilaf Devletleri, aldıkları bu kararlar aşağıdakilerden hangisini amaçlamışlardır?

- A) I. Dünya Savaşı’nı sona erdirmeyi
- B) Yurdumuzun işgalini kolaylaştırmayı
- C) Erzurum Kongresi’nin toplanmasına engel olmayı
- D) Anadolu’da düzenli bir ordunun kurulmasını sağlamayı

27. Mustafa Kemal, illerdeki askerî ve sivil idarecilere gizlice gönderdiği Havza Genelgesi ile onlardan, halkı işgaller konusunda bilgilendirmelerini, işgalleri protesto için mitingler düzenlemelerini istedi.

Mustafa Kemal, bu isteğiyle aşağıdakilerden hangisini amaçlamıştır?

- A) Millî bilinci uyandırmayı
- B) Ekonomik bağımsızlığı sağlamayı
- C) Yeni inkılaplara ortam hazırlamayı
- D) Ulusal egemenliği gerçekleştirmeyi

28. “Hattı müdafaa yoktur, sathı müdafaa vardır. O satıh, bütün vatandır. Vatanın her karış toprağı, vatandaşın kanıyla ıslanmadıkça terk edilemez.”

Mustafa Kemal bu emrini Türk askerine, aşağıdaki savaşlardan hangisi sırasında vermiştir?

- A) I. İnönü
- B) II. İnönü
- C) Sakarya
- D) Eskişehir-Kütahya

29. 1- Doğu Cephesi’ndeki savaşın kazanılması
2- I. İnönü Zaferi’nin kazanılması
3- Mondros Ateşkes Anlaşması’nın imzalanması

Yukarıdaki gelişmelerden hangileri TBMM’nin açılmasından önce gerçekleşmiştir?

- A) Yalnız 1
- B) Yalnız 3
- C) 1 ve 2
- D) 2 ve 3

30. Yunan güçlerinin İzmir ve çevresini işgal etmesi üzerine Türk milletinin ilk tepkisi, aşağıdakilerden hangisi olmuştur?

- A) Ankara'da TBMM'yi açmak
- B) Kuvayimilliyeye birliklerini kurmak
- C) Düzenli ordu birliklerini oluşturmak
- D) Erzurum ve Sivas Kongreleri'ni toplamak

31. I. Mustafa Kemal'in Samsun'a çıkması
 II. Yurdumuzun işgal edilmesi
 III. Amasya Genelgesi'nin yayınlanması
 IV. Cumhuriyet'in ilanı
 V. TBMM'nin açılışı

Yukarıdaki olayların kronoloji sıralaması aşağıdakilerden hangisidir?

- A) I – III – II – IV – V
- B) II – I – III – V – IV
- C) II – III – I – IV – V
- D) III – II – I – V – IV

32. Aşağıdakilerden hangisi Atatürk'ün Samsun'a çıkması ile Büyük Millet Meclisi'nin açılması zaman aralığında gerçekleşen olaylardan biri değildir?

- A) Tekâlif-i Milliye Emirleri
- B) Erzurum Kongresi'nin toplanması
- C) Amasya Genelgesi'nin yayınlanması
- D) Mustafa Kemal ve arkadaşlarının Ankara'ya gelmesi

33. . – Osmanlı orduları dağıtılacak.
 – Tüm haberleşme ve ulaşım araçları işgal güçlerine verilecek.
 – İtilaf Devletleri güvenliklerini tehdit eden her yeri işgal edebilecek.

Yukarıdaki kararlar, aşağıdaki antlaşmaların hangisinden alınmıştır?

- A) Sevr Antlaşması
- B) Mudanya Ateşkes Antlaşması
- C) Mondros Ateşkes Antlaşması
- D) Lozan Barış Antlaşması

34. Aşağıdakilerden hangisi millî kültürümüze örnek gösterilemez?

- A) Adana'nın bir köyünde yapılan kına gecesi
- B) Antalya'nın Belek beldesinde yapılan golf turnuvası
- C) Konya'da yapılan Mevlana'yı anma törenleri
- D) Ankara'nın başkent oluşu sebebiyle yapılan halk oyunları gösterisi

35. İkiz kardeşlerin nüfus cüzdanlarındaki bilgilerden hangisi kesinlikle farklı olur?

- A) Kan grubu
- B) Aile sıra no
- C) TC Kimlik no
- D) Nüfusa kayıtlı olduğu yer

36. Çok heyecanlıyım. Bir hafta sonra anneannem gelecek. Anneannem bizde olacağı için önce bütün akrabalarımız bizi ziyaret edecekler. Büyüklelerin ellerini öpüp onlardan bayram harçlığı alacağım.

Yukarıda sözü edilen bayram aşağıdakilerden hangisi olabilir?

- A) Ramazan Bayramı
B) Zafer Bayramı
C) Cumhuriyet Bayramı
D) Bahar Bayramı

37. Serin bahar meltemi
Gibi beyaz bir gemi
Samsun'a demir attı,
Göklerimiz ağardı.
Bu gemide inanan,
Yurda şan, millete şan;
Büyük, eşsiz kahraman
Mustafa Kemal vardı.

M. Necati ÖNGAY

Yukarıdaki şiir aşağıdaki tarihlerden hangisi ile ilişkilidir?

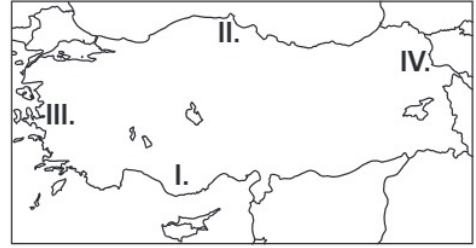
- A) 29 Ekim 1923
B) 30 Ağustos 1922
C) 23 Nisan 1920
D) 19 Mayıs 1919

38. Futbol oyununa benzeyen "Tepük", saklambaç oyununun benzeri olan "Karaguni" bir zeka ve strateji oyunu olan "Mangala" daha çok kız çocuklarının bez bebeklerle oynadığı "Kuzurcuk" günümüze kadar oynana gelmiş oyunlardır. Oyunların adları farklı olsa bile sistematığı aynıdır.

Bu durum bize neyi gösterir?

- A) Kültürel öğelerin devam ettiğini
B) Oyunların adlarının değişmediğini
C) Bu oyunların başka ülkelerde de oynandığını
D) Bu oyunların günümüzde çok oynandığını

39.



İtilaf Devletleri, Mondros Ateşkes Antlaşması'na dayanarak yurdumuzun dört bir yanını işgal etmeye başladılar.

İtilaf Devletleri, numaralandırılmış alanlardan hangisini Ermenilere vermeyi planlamışlardır?

- A) I. B) II. C) III. D) IV.

40. I- Erzurum Kongresi
II- Mustafa Kemal'in Çanakkale savunması
III-Yunanlıların İzmir'i işgali
Yukarıdaki olayların kronolojik sıralaması hangi seçenekte doğru olarak verilmiştir?

A) I - II - III B) III - II - I
C) I - III - II D) II - III - I

41. **Aşağıdakilerden hangisi Türk Ulusunun dayanışmasına en güzel örnektir?**

A) Yeni yollar yapılması
B) Millî Mücadele'nin kazanılması
C) Kızılay'ın kurulması
D) Fakirlere sadaka verilmesi

42. "Millî Mücadele Dönemi'nde birçok önemli savaş olmuştur. Bunlardan en önemlileri; I. İnönü, II. İnönü, Sakarya ve Büyük Taarruz 'dur."

Yukarıda bahsedilen savaşlar hangi cephede yapılmıştır?

A) Doğu B) Batı
C) Güney D) Kuzey