

ADI SOYADI:

NO:

SINIF:

1)

Basketbola ilgi  
duyuyorum.

Saçlarım  
kıvırcıktır.

Boyum  
kısadır.



Hangi öğrenci fiziksel özelliklerinden **bahsetmemiştir**?

A. Berkay

B. Can

C. Ali

Aşağıdaki ifadelerden hangisi doğrudur?

- A. Sınıfımızla ilgili konularda kararları arkadaşlarımızla birlikte almalıyız.
- B. Karar alırken sadece öğretmenimizin fikrini sormalıyız.
- C. Farklı fikirleri olan arkadaşlarımıza karşı saygı göstermemeliyiz.

3)



Merve okulunun yerini nasıl tarif etmelidir?

- A. Parkın üst tarafındaki eczanenin yanındadır.
- B. Marketin sol tarafında parkın karşısındadır.
- C. Hastanenin alt tarafındadır.

Okul kaynaklarını ve eşyalarını özenli kullanmak için neler yapmalıyız?

Öğretmenin tahtaya yazdığı soruya nasıl cevap verebiliriz?

- A. Bahçeye ağaç dikebiliriz.
- B. Koridorlarda gereksiz yanan ışıkları kapatmalıyız.
- C. Yere düşen arkadaşımızı kaldırmalıyız.

5)

Hangisini yapmak sorun **yaratmaz**? İşaretleyiniz

- Bilmediğimiz kapalı alanlarda oynamak
- Bilmediğimiz şeylerin tadına bakmak
- İlaçlarımızı büyüklerimize sorarak içmek
- Oyun oynarken üstümüzü kirletmek.

6)

Bitkiler zamanla büyür ve gelişirler.

Bazı ağaçlar meyve vermez.

Bütün ağaçlar kışın yapraklarını döker.

Verilen ifadelerden doğru olanlara "D", yanlış olanlara "Y" yazarsak tablonun görünümünü nasıl olur?

A

D

D

Y

B

D

Y

Y

C

Y

D

D

7)

Trafik işaretleri ile anlamlarını eşleştirelim.



Yaya Geçidi



Dur

Bisiklet Giremez



Geç



Okul Geçidi



8)

Görsellerdeki acil durumlarda aranacak kurumu ve telefon numarasını örnekteki gibi yazalım.



Jandarma 1 - 5 - 6



9)

Hangilerini uzun süre kullanmak göz sağlığımızı bozar? İşaretleyiniz.



10)

Hangi bilgiler **yanlıştır**? İşaretleyiniz.

- Okul bizim için oyun yeridir.
- Kaldırımda yürürken büyüğümüzün elinden tutmalıyız.
- Karşıdan karşıya yayalara kırmızı ışık yanınca geçmeliyiz.
- Trafik polisinin işaretlerine uymalıyız.

11)

Kurban Bayramı'nda hangisini yaparız?

Sınıfımızı süsleriz.

Yakınlarımızı ziyaret ederiz.

Okullarda gösteriler düzenleriz.

Aşağıdaki çocuklardan hangisinin ifadesi doğrudur?

A.



Erhan

Plan yapılırken oyun oynamaya yer verilmez.

B.



Gülhan

Planlı olmak düzenli olmamızı sağlar.

C.



Zehra

Planlarımda önceliği televizyon izlemeye veririm.



13)

Hangi görselden “Kurtuluş Savaşı, Türk milletinin yardımlaşma ve dayanışması sayesinde kazanıldı.” sonucunu çıkarabiliriz?

A



B



C



14)

Köye giderken yolda bir kaza oldu ve biz hemen ..... aradık. Bir süre sonra görevliler gelip yaralılara .... bulundular.

Yukarıdaki noktalı yerlere sırasıyla hangi ifadelerin getirilmesi doğru olur?



A. 112'yi - ilk yardımda

B. 155'i - AFAD

C. 110'u - Sosyal Destek Hattını

15)

Güneş'in doğduğu yöne ,  
battığı yöne  denir.

Yukarıdaki cümlede  ve  ile belirtilen yerlere hangileri gelmelidir?

  
\_\_\_\_\_

  
\_\_\_\_\_

- A. doğu      kuzey  
B. batı      doğu  
C. doğu      batı

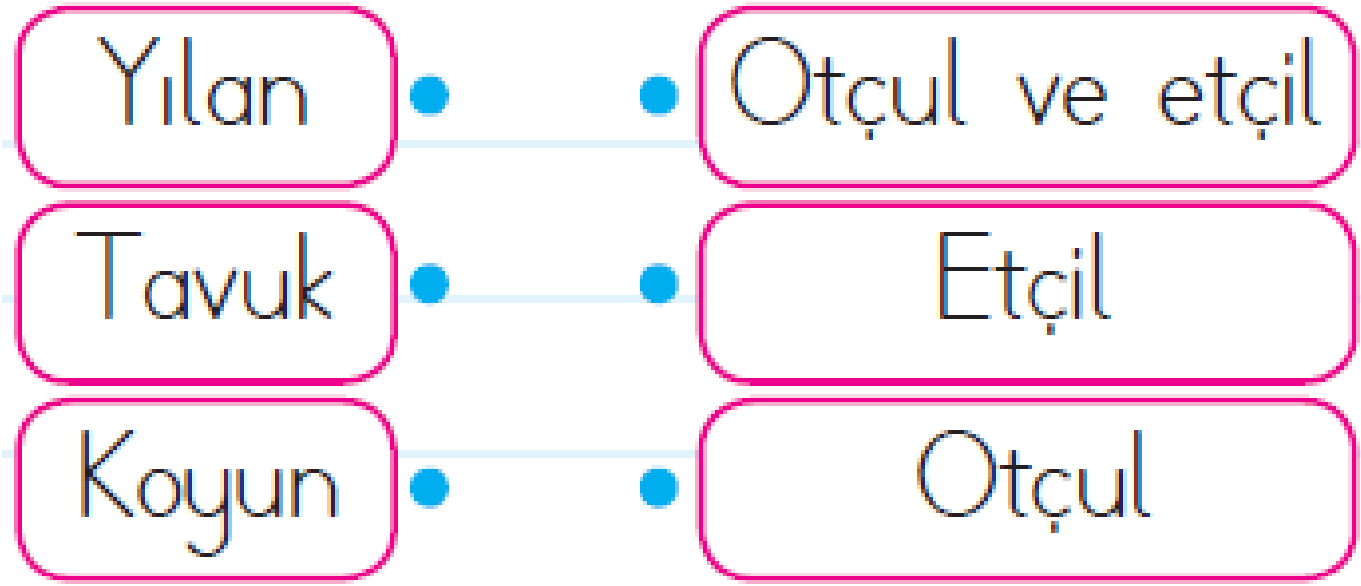
16)

Aşağıdaki bayramlardan hangisini 29 Ekim'de kutlarız?

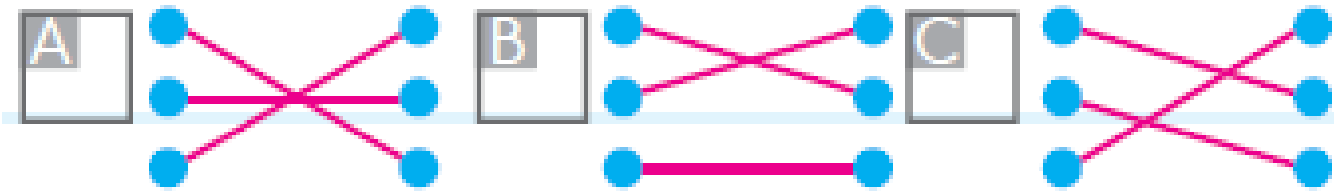
A. Ulusal Egemenlik ve Çocuk Bayramı

B. Atatürk'ü Anma Gençlik ve Spor Bayramı

C. Cumhuriyet Bayramı



Hayvanları beslenme şekillerine göre eşleştirdiğimizde aşağıdaki şekillerden hangisi elde edilir?



18)

Aşağıdakilerden hangisinde bitki ve hayvanları korumayla ilgili doğru bir davranış **yoktur?**

A Ekin'in sokakta gördüğü bir kedinin başını okşamaması

B Pınar'ın parktaki çiçekleri koparması

C Batu'nun kuşlara yem vermesi

Bazı hayvanlar toprak altında barınabilir.

Buna göre aşağıdakilerden hangisi toprak altında **barınmaz**?

A Yılan

B Köstebek

C Köpek



Fatma

Nilüfer

Aslı

Yukarıdaki çocuklardan hangisi  
kış mevsimine uygun kıyafetler  
giymiştir?

A. Fatma

B. Nilüfer

C. Aslı