

TOPLAMA PROBLEMLERİ 1



PROBLEMLER

1- Bir kitabın birinci cildi 240 sayfa , ikinci cildi 254 sayfa, üçüncü cildi birinci cildinden 20 sayfa fazladır. Üç ciltten oluşan kitap serisi toplam kaç sayfadır?

- A) 494 B) 514 C)754

2. 2-



- İki gün açık olan resim sergisini birinci gün 265 kişi, ikinci gün ise birinci günden 46 kişi eksik gezmişlerdir. Resim sergisini toplam kaç kişi gezmiştir?

- A) 311 B) 484 C)530



3- Yılmaz'ın ailesi kasım ayında 92 YTL elektrik parası, 55 YTL su parası, elektrik ve su parasının toplamı kadar da yakacak parası ödüyor. Yılmaz'ın ailesi elektrik, su ve yakacak için kasım ayında kaç YTL ödemiştir?

- A) 147 B) 474 C) 484

4. 4-



- 34 fazlası 145 olan sayının 27 fazlası kaçtır?

- A) 137 B) 152 C)206

5.

İçinde 376 litre su olan havuza 266 litre daha su eklendi. Havuzun dolması için 50 liter daha suya ihtiyaç olduğuna göre havuz kaç litre su ile dolmaktadır?



5-

- A) 692 B) 426 C) 642

6.



6- 250 g leblebi , 125 g fıstık , 85 g badem, 325 g fındık karışımı bir kavanoza konuluyor. Kavanozda kaç g kuruyemiş karışımı olmuştur?


- A) 785 B)685 C)795

7. 7-




Bir futbol maçında uzatmalar eklendiğinde 1.yarı 48 dakika , 2.yarı 51 dakika oynanmıştır. 15 dakikalık devre arası ile birlikte maç kaç dakika sürmüştür?

- A) 90 B) 99 C)114

8. 8-  30 fazlası 120 olan sayının
40 eksiği kaçtır?


A) 50 B) 90 C)190

9.  9-
Okul kütüphanesinde 284 masal
kitabı, 319 öykü kitabı, 92 şiir kitabı
ve 216 kaynak kitap bulunmaktadır.
Okul kütüphanesinde toplam kaç kitap


A) 911 B) 801 C) 811

10. 10- Bir beldede 135 tek katlı ev , 105 tane
iki katlı ev tek katlı evlerle iki katlı evlerin
toplamı kadar da apartman vardır. Beldede
kaç ev vardır?


A) 240 B) 460 C) 480


11.  11-
Seranay 13, Cansu 17, Kerem 21
yaşındadır. 6 yıl sonra üçünün
yaşları toplamı kaç olur?

A)51 B) 57 C)69

12.  12-Bir otomobil yarışçısı 1.etapta 384 km,
2. etapta 1. etaptan 148 km eksik yol
almıştır. Yarışçı 1. ve 2. etapta toplam kaç
km yol almıştır?

A) 236 B) 620 C)520

13.  13-Sınıf kitaplığımızın 1.rafında 83 kitap,
2.rafında bundan 15 fazla kitap vardır.
Sınıf kitaplığında ne kadar kitap vardır?
A) 181 B)98 C)166

14.  14-Üç arkadaşın yazdığı doğal sayıların
toplamı 842'dir. Bunlardan biri 129 diğeri
237 sayılarını yazdığına göre üçüncü
arkadaşın yazdığı sayı kaçtır?
A)366 B)476 C)576

15. 15- Toplama işleminde toplananlardan biri
347 , toplam 859 ise diğeri toplanan
kaçtır ?
A) 512 B) 412 C)612

16.



16-

Özge 9, annesi 32 yaşındadır. 5 yıl önce Özge ile annesinin yaşları toplamı kaçtı?

- A) 51 B) 41 C)31

17.



17

Ömer'in 84 bilyesi vardır. Can'ın bilyeleri Ömer'in bilyelerinden 27 eksiktir. Ömer ile Can'ın toplam kaç bilyesi vardır?

- A) 57 B) 131 C)141