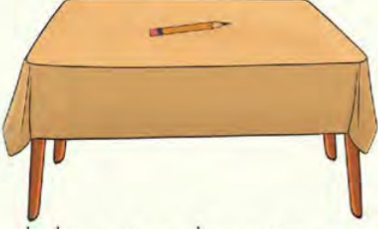


1.

1.



Yukarıdaki görsele göre kalem masanın neresindedir? İşaretleyiniz.

- Üstünde
 İçinde
 Altında

3.

3.

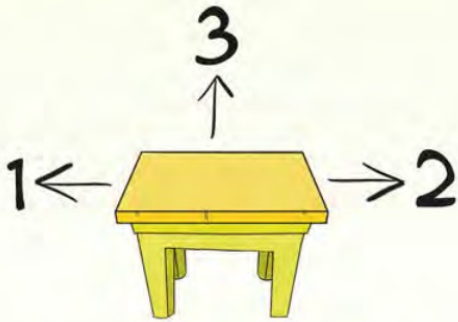


Yukarıdaki görsele eve en uzak nesne hangisidir? İşaretleyiniz.



2.

2.




Yukarıdaki görselede hangi sayı size göre masanın solunu gösteriyor? İşaretleyiniz.

- 1 2 3

4. 4, 5, 6 ve 7. soruları görsele göre cevaplayınız.



4. Hangi kuş gri kuştan alçaktadır? İşaretleyiniz.



5. "Sarı kuş, kuştan alçaktadır." Bu ifadede boş bırakılan yere aşağıdakilerden hangisi yazılmalıdır? İşaretleyiniz.



6. Hangi kuş sarı kuştan alçakta uçmaktadır? İşaretleyiniz.



7. Hangi kuş en yüksektedir? İşaretleyiniz.



8.

8.



Yukarıdaki görsele göre aşağıdaki bilgilerden hangisi doğrudur? İşaretleyiniz.

- Sandalye, çocuğun solundadır.
- Dolabın size göre solunda çocuk ve sandalye vardır.
- Çocuğun sağında dolap vardır.

9.

9.



Yandaki görsele hangi nesnelere sıranın üstündedir? İşaretleyiniz.

-   
-  

10.

10.



Yukarıdaki görselleri eşleştirdiğimizde hangi görselin eşi **yoktur**? İşaretleyiniz.



11. 11.



Yukarıdaki ayakkabıların eşini hangi öğrenci giymiştir? İşaretleyiniz.



12.

12.




Yukarıdaki kedinin eşi aşağıdakilerden hangisidir? İşaretleyiniz.



13.

13.



Yukarıdaki çamaşır sepetlerindeki çorapları eşleriyle eşleştirdiğimizde kaç eşleşmiş çorabımız olur? İşaretleyiniz.

- 1
 2
 3