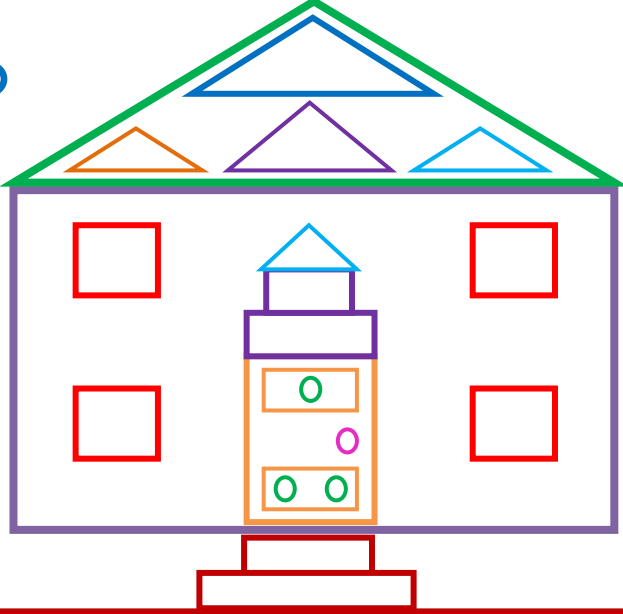
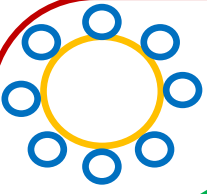


## GEOMETRİK ŞEKİLLER 4

1-)



Aşağıdaki resmi inceleyerek yandaki soruları cevaplayınız.



### SORULAR

1-) Yandaki resimde kaç tane çember var?

2-) Yandaki resimde kaç tane kare var?


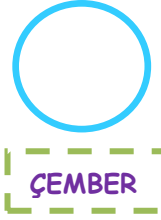

3-) Yandaki resimde kaç tane üçgen var?

1-) Yandaki resimde kaç tane dikdörtgen var?

2-)



Aşağıda verilen şekli inceleyiniz. Hangi geometrik şekilden kaç tane var? Sayılarını şekillerin içine yazınız.



İskender07

3-)



Aşağıda verilen kelimeleri uygun boşluklara yazınız.

köşesi

çemberin

kısa kenarı

Karenin

..... eşit uzunlukta dört kenarı ve dört köşesi vardır.

Dikdörtgenin birbirine eşit 2 uzun kenarı ve birbirine eşit 2 ..... vardır.

..... köşesi ve kenarı yoktur.

Üçgen 3 kenarı ve 3 ..... olan geometrik şekildir.

İskender07 (İlkokul Etkinlikleri)