

ADI SOYADI:

Sayıların karşısına Romen rakamlarını yazalım.



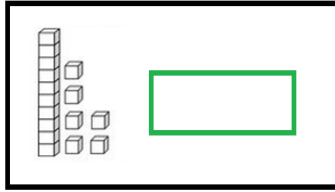

13	
2	
16	
20	
8	

7	
11	
5	
17	
9	

1	
15	
19	
10	
3	

6	
18	
4	
12	
14	

Blokların karşısına Romen rakamlarıyla yazılışlarını yazalım.



MINİ TEST



Yukarıdaki Romen rakamlarının yazılışında hangi renkte hata yapılmıştır ?

- A) mavi B) sarı C) kırmızı

Romen rakamlarında "sıfır"ın şekil karşılığı yoktur.

"X" işaretinin soluna yazılan "I" onu azaltır.

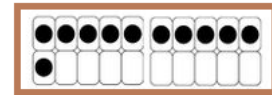
"I" işareti en fazla üç tane yan yana yazılır.

Yukarıdaki ifadelere doğruysa "D" harfi, yanlışsa "Y" harfi yazıldığında ,hangi seçenekteki sıralamaya ulaşırsınız?

- A) DYD B) YDD C) DDD

Aşağıdaki ifadelerden hangisi yanlıştır?

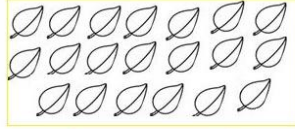



- A) **XX** sayısının 6 eksiği **XIV** eder.
B) **VIII** sayısının 3 fazlası **IX** eder.
C) 10 sayısının **VII** eksiği 3 eder.



Yukarıdaki nokta sayısının Romen rakamlarla karşılığı hangi seçenekte doğru verilmiştir ?

- A) XI B) XIV C) IX

Nesne sayılarını Romen rakamlarıyla yazalım.



Romen rakamlarına karşılık gelen sayıları yazalım.

IV	
XI	
XV	
XIV	
XX	

3.SINIF MATEMATİK 7

I	
IV	
IX	
III	
VII	

Gösterilen Romen rakamına karşılık gelen sayıya ✓ atalım.

II
1 3 2

XV
15 17 10

IX
9 11 10

XII
15 13 12

VII
3 7 10

XX
10 17 20

VIII
4 8 5

VI
7 4 6

XIX
19 20 16

V
5 6 7

İfelerin cevaplarını Romen rakamlarını kullanarak yazalım.

Tek rakamların sayısı	V
Yaz mevsimindeki ay sayısı	
Gökkuşağındaki renk sayısı	
3 x 3 işleminin sonucu	
Hafta sonu günleri sayısı	
Bir düzinenin sayısı	
Ahapotun kolları sayısı	

Bir deste sayısı	
Bir takımın sahadaki futbolcu sayısı	
Kaplumbağanın ayak sayısı	
26 sayısının yarısı	
Filin hortum sayısı	
Serçenin kanat sayısı	
El ve ayak parmaklarımızın toplamı	

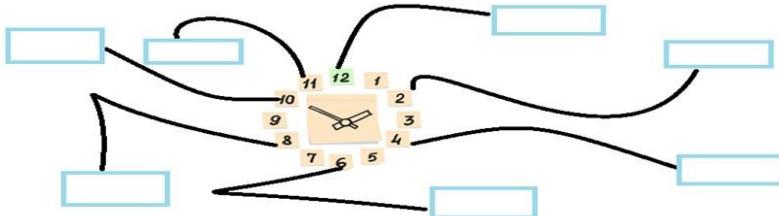
Harflerin alfabe sırasını, sayıları ve Romen rakamlarını kullanarak yazalım.

H	10	X
Ç		
E		
I		
B		

D		
C		
K		
F		
Ö		

O		
A		
J		
N		
L		

Gösterilen sayıları Romen rakamlarıyla yazalım.



Eksik sayıları yazalım.

