

1. Hangi cümlede yazım yanlışı vardır?

- A) Eyvah! Ne yaptın sen?  
B) Tüh, Yağmur başladı..  
C) Aman, boşversene!

2. "Atatürk, dünyaca ünlü bir liderdir." cümlesinde altı çizili sözcüğün eş anlamlısı hangisidir?

- A) önder  
B) kahraman  
C) komutan

3.  İnsanlar neye bakıyor!  
 Şurada olay mı var?  
 Ambulans buraya geldi.

Yukarıdaki cümlelerde kullanılan noktalama işaretleri doğruysa başındaki kutuya "✓", yanlışsa "X" koyduğumuzda görüntü nasıl olur?

- A) 

✓
X
X




 B) 

X
✓
✓

 C) 

X
X
✓

4. 

sağlık	tabiat	doğal
		
Mete	Cansu	Samet

Hangi çocuğun yazdığı kelime sözlükte en sonda yer alır?

- A) Mete  
B) Cansu  
C) Samet

5. Hangi tahtaya anlamlı ve kurallı bir cümle yazılmıştır?

A)

Markete girerken kedi

B)

Bulmaca çöz

C)

Yarın olsa da

6. Diş hekimi dediğimizde aklımıza hangi kelime gelir?

A) eğitim

B) güvenlik

C) sağlık

7. "hekim" kelimesinin eş anlamlısı hangi cümlede kullanılmıştır?

A) Aile hekimimiz aynı zamanda kapı komşumuz.

B) Sağlıklı olmak için düzenli yaşamalıyız.

C) Doktor amca beni muayene etti.

8. "çürük" kelimesinin zıt anlamlısı olan kelime hangisidir?

A)



B)



C)



9. Hangi cümlede yanlış noktalama işareti kullanılmıştır?  
 A) Ah, dişim!  
 B) Başın mı ağrıyor?  
 C) Kendine iyi bakmalısın!

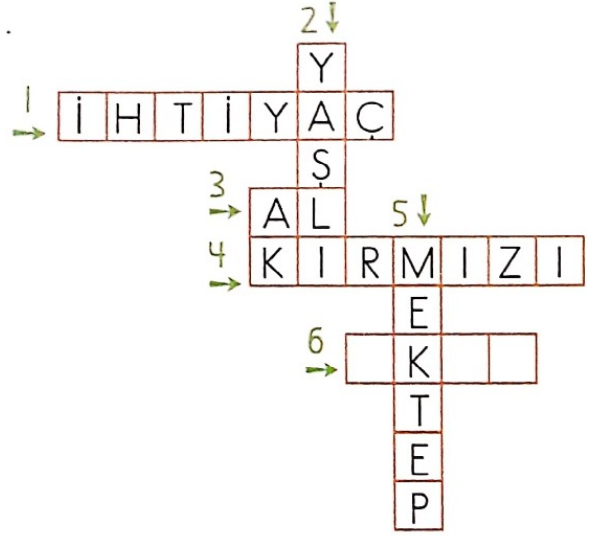
10.



Görseli en iyi anlatan cümle hangisidir?

- A) Sağlıklı yaşamak bizi gençleştiriyor.  
 B) Kadın ormanda koşuyor.  
 C) Kadın sağlıklı yaşıyor.

11.



Bulmacada 6 numaralı bölüme 5 numaralı bölümde yazan kelimenin eş anlamlısı yazılacaktır.

Buna göre 6 numaralı bölüme hangi kelime yazılmalıdır?

- A) EKİP  
 B) OKUL  
 C) EKİN

12. "ilgi - alaka" kelimeleri arasındaki anlam ilişkisi hangi kelimeler arasında vardır?

- A) sonuç - sebep  
 B) sonuç - netice  
 C) olay - olgu

13. Hangi trafik levhası olumsuz anlamdadır?

A)



B)



C)



14. Hangi cümlede özel isim yanlış yazılmıştır?

A) Kardeşim Emre, okuldan döndü.

B) Polis Kemal görevde mi?

C) Kedim pamuk yumakla oynuyor.

15.



Ülkemizin başkenti haritada kaç numara ile gösterilmiştir?

A) 1

B) 2

C) 3

16. Bayrağımızda hangi renk kullanılmamıştır?

A)



B)



C)



17.

İstiklâl Marşı'nın ilk cümlesi hangisidir?



- A) Korkma, sönmez bu şafaklarda yüzen al sancak;  
 B) Çatma, kurban olayım, çehreni ey nazlı hilâl!  
 C) Hakkıdır Hakk'a tapan milletimin istiklâl

18. Atatürk'ün öğrenciliği ile ilgili hangisi söylenemez?

- A) Çalışkan  
 B) Yaramaz  
 C) Başarılı

19. Atatürk neden dayısının çiftliğine gitti?

- A) Babası çiftlikte çalışmaya başlayacağı için.  
 B) Orada okula gideceği için.  
 C) Babası vefat ettiği için.

20. Kurtuluş Savaşı ne zaman başlamıştır?

- A) 19 Mayıs  
 B) 23 Nisan  
 C) 29 Ekim

21.



Görseldeki hayvanın bakımını yapan bir kişi hangisini elde edemez?

A)



B)



C)



22. Yoksullara et dağıtılan bayram hangisidir?

A) Ramazan Bayramı

B) Şeker Bayramı

C) Kurban Bayramı

23.

Hangi müzik aleti ülkemizin kültüründe yoktur?

A)



B)



C)



24.

Aşağıdakilerden hangisi başka ülkeye göç etmenin nedeni olamaz?

A) Kıtık

B) Savaş

C) Zenginlik

25. Tarımla uğraşan bir çiftçi hangisini yetiştirebilir?

A)



B)



C)



26. 30 Ağustos'u bayram olarak kutlamamızın nedeni nedir?


A) Atatürk'ün gençlere armağan etmiş olması.

B) Kurtuluş Savaşı'nı kazanmış olmamız.


C) Cumhuriyet'in ilanı.

27. Aşağıdaki şekillerden hangisinin yarısı boyanmıştır?


A.



B.



C.




28. Aşağıdaki şekillerden hangisinin çeyreği boyanmıştır?

A.



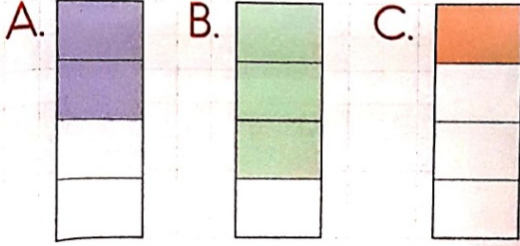
B.



C.



29. Aşağıdaki şekillerden hangisinin üç çeyreği boyanmıştır?



Yukarıdaki elmaların çeyre kadarını yedik.

Kaç elmamız kaldı?

- A. 3 B. 6 C. 9

31. Aşağıdaki saatlerden hangisi öğleden sonraki bir zaman göstermektedir?



32. 2 saat sonra saat 10.30 olacaktır.

Buna göre saat şu an kaçtır?





33. Dün salı günü olduğuna göre yarın hangi gün olacaktır?

- A. Çarşamba
- B. Perşembe
- C. Cuma

34. Mart, nisan ve mayıs hangi mevsimin aylarıdır?

- A. İlkbahar
- B. Yaz
- C. Sonbahar

35. Öykü kitabı 3 ₺, masal kitabı 4 ₺'dir.

Kitaplarından ikişer tane alırsam kaç lira ederim?

- A. 18
- B. 16
- C. 14

36.



Yukarıdaki paraların 15 ₺'sini harcadım.

Geriye kaç liram kaldı?

- A. 31
- B. 29
- C. 27

37. Emel, tanesi 2 ₺ olan tokalardan 7, tanesi 3 ₺ olan boncuk kolyelerden 2 tane aldı.  
Emel kaç lira ödemiştir?

A. 20 B. 24 C. 28

38. Annem, yarım metresi 4 ₺ olan kumaştan 5 metre aldı.  
Annem aldığı kumaş için kaç lira ödemiştir?

A. 35 B. 40 C. 45

39. Evimizin bahçesinde 15 kırmızı, 8 sarı, 7 mor, 10 pembe renkte çiçek vardır.

Yukarıdaki verilere uygun olan tablo hangisidir?

A.


Çiçek Renkleri Tablosu	
Çiçek Türleri	Çiçek Sayısı
Kırmızı	15
Sarı	8
Mor	7
Pembe	10

B.

Çiçek Renkleri Tablosu	
Çiçek Türleri	Çiçek Sayısı
Kırmızı	15
Sarı	7
Mor	8
Pembe	10

C.

Çiçek Renkleri Tablosu	
Çiçek Türleri	Çiçek Sayısı
Kırmızı	15
Sarı	10
Mor	7
Pembe	8

40.   
15 santimetre 20 santimetre  
Yukarıda mavi ve kırmızı şeritlerden ikişer tanesi uç uca ekleniyor.  
Oluşan uzunluk kaç santimetre olur?  
A. 50 B. 60 C. 70

41. Eda'nın 2 adımının uzunluğu 1 metre gelmektedir.  
Eda, sınıfının enini 10 adımda ölçtü. Buna göre sınıfın eni kaç metredir?  
A. 4 B. 5 C. 6

42. 2 metre 45 santimetre gelen kumaşın 1 metre 15 santimetresi kullanıldı.  
Kalan kumaşın uzunluğu ne kadardır?  
A. 1 metre 30 santimetre  
B. 1 metre 25 santimetre  
C. 1 metre 20 santimetre

43. Bir kilogram et 40 ₺, bir kilogram tavuk 18 ₺'dir.  
Et ve tavuktan yarımşar kilogram alırsak kaç lira öderiz?  
A. 30 B. 29 C. 28

44. Ali'nin bir karışı 16, bir parmağı 1 santimetredir. Ali, çantasını 2 karış 5 parmak olarak ölçtü. Ali'nin çantasının uzunluğu kaç santimetredir?

A. 35    B. 36    C. 37

45.



8 kilogram



4 kilogram

Yukarıdaki un miktarlarının eşit olması için 1. poşetten 2. poşete kaç kilogram un konmalıdır?

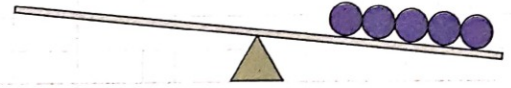
A. 4    B. 3    C. 2

46. Bir kilogram domates 2 ₺'dir. 20 kilogram domatesin satışından kaç lre elde edilir?

A. 40    B. 22    C. 18



47.

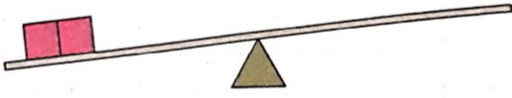
■ 5 kilogram    ● 4 kilogram




Terazinin dengede durması için sol kefeye kaç tane ■ konmalıdır?

A. 4    B. 5    C. 6


48.  4 kilogram  2 kilogram



Terazinin dengede durması için sağ kefeye kaç tane  konmalıdır?

- A. 4      B. 5      C. 6

49.



1, 2 ve 3. soruları grafiğe göre yanıtlayınız.

- 1 Mağazada en çok sayıda hangi oyuncak vardır?




50. 2 Mağazada en az sayıda hangi oyuncak vardır?



51. 3 Mağazada toplam kaç oyuncak vardır?

- A. 33      B. 32      C. 31

52.



4, 5 ve 6. soruları grafiğe göre yanıtlayınız.

4 En çok satılan pasta çeşidi hangisidir?

A. Yaş B. Çilekli C. Muzlu

53. 5 En az satılan pasta çeşidi hangisidir?

A. Çilekli B. Çikolatalı C. Yaş

54. 6 Pastanede toplam kaç tane pasta satılmıştır?

A. 40 B. 39 C. 38