

1. Aşağıdaki sözcüklerden hangisi hecelerine doğru ayrılmıştır?

- A) şem-si-ye      B) gaz-e-te      C) te-lef-on

2.



Aşağıdaki taşıtlardan hangisi yukarıdaki ulaşım yollarından herhangi birini kullanamaz?

- A) Tren      B) Helikopter      C) Vapur

3. i, n, l, e, m, d

Bu harflerle aşağıdaki sözcüklerden hangisi oluşur?

- A) demlik      B) limon      C) mendil

4. Günün son ışıklarıyla yola çıktık.

Bu cümledeki altı çizili sözcüğün zıt anlamlısı aşağıdakilerden hangisidir?

- A) Ön      B) İlk      C) Parlak

5. 1. içindeki  
2. çantayı  
3. dolabın

\_\_\_\_\_ aldı.

Anlamli bir cümle oluşturmak için numaralanmış sözcükler, yukarıdaki boşluklara hangi sırayla yerleştirilmelidir?

- A) 1-3-2      B) 2-1-3      C) 3-1-2

6. Eve gelince hemen - - - -

Bu ifade, aşağıdakilerin hangisiyle tamamlırsa anlamlı bir cümle olur?

- A) annesi mutfaktaydı  
B) çiçekleriyle ilgilenir  
C) paketleri dün yerleştirmiş

7. Aşağıdakilerin hangisinde bir olay, nedeniyle birlikte verilmiştir?

- A) Deniz dalgalı olduğu için yüzemedi.  
B) Öğle yemeğini yedikten sonra bahçeye çıktık.  
C) Şaşkın gözlerle bir süre bana baktı.

8. Saat kulesinde iki martı vardı.

Bu cümlede aşağıdaki sorulardan hangisinin cevabı yoktur?

- A) Ne zaman?      B) Ne?      C) Nerede?

9. 1. Boyadıklarımı resim kâğıdına yapıştırdım.  
2. Bahçeden biraz kurumuş yaprak topladım.  
3. Topladığım yaprakları sulu boyayla boyadım.  
Numaralanmış cümleler, olayların oluş sırasına göre nasıl sıralanmalıdır?  
A) 1-3-2 B) 2-3-1 C) 3-2-1

10. Tepeden ay göründü.  
Yer ışığa büründü.  
Yıldızlar doğdu gökte,  
Pardıldılar yüksekte.  
Bu dördlükte sözü edilen "zaman" aşağıdakilerden hangisidir?  
A) Gece B) Sabah C) Öğle

11. Bahçe duvarını gözden saklayan mor leylaklardan etrafa hafif, güzel bir koku yayılıyordu. Kızımın elini tuttum. Eli terden ıslanmıştı ve titriyordu. Parmaklarıyla elimi kavrayıp bütün gücüyle tutundu.  
Bu metinde aşağıdaki duylardan hangisi kullanılmamıştır?  
A) Duyma B) Dokunma C) Görme

12. Sabah erkenden çantalarımızı hazırlayıp kumsala gittik. Ön sıradaki şezlonglara uzanıp güneşlendik. Çantamdan kitabımı çıkarıp bir süre okudum.  
Bu metindeki altı çizili sözcük hikâyenin hangi unsurudur?  
A) Ana karakter B) Olay C) Yer

13. Okula götürdüğümüz suluktan, sofraya koyduğumuz bardağa kadar cam hayatımıza yerleşmiş durumdadır. Evimizdeki camlar, bizi dışarının olumsuz hava şartlarından korur. Sağlık alanında gözlükler; teknoloji alanında telefon, televizyon ekranları ve daha birçok şey camdan yapılıyor.

Bu metnin konusu aşağıdakilerden hangisidir?

- A) Okulda kullandığımız eşyalar  
B) Teknolojik aletler  
C) Camın hayatımızdaki yeri

14. Bir mağaza, ürünlerini özelliklerine göre sınıflandırarak satmaktadır. Aşağıdaki eşyalardan hangisi mağazanın farklı bir bölümünde yer alır?



15. Aşağıdaki görsellerden hangisi tasarrufla ilgilidir?



16. Kitabın kahramanı Can, babası gibi macera peşinde koşmayı seviyor. Can'ın hazine avalarının eline düşmesiyle bir serüven başlıyor. Bu serüven defne haritasındaki işaretli yerde son bulacak mı?  
Bu metinde sözü edilen Can ile ilgili aşağıdakilerden hangisi söylenebilir?

- A) Meraklı olması onu başarılı yapmıştır.  
B) Kitap okumayı sevmektedir.  
C) Babası gibi maceracı biridir.

17. Mavi gökler açar kucak,  
Oyuncaktır ona uçak,  
Yoktur onu korkutacak,  
Kahramandır Türk pilotu.  
Bu şiire en uygun başlık aşağıdakilerden hangisidir?

A) Oyuncak Çeşitleri  
B) Türk Pilotu  
C) Mavi Gökyüzü

18. Boyları 2-3 metre olan kaplanlar, Asya kıtasında yaşar.  
Bu cümlede kaplanlarla ilgili aşağıdaki sorulardan hangisinin cevabı vardır?  
A) Neyle beslenirler?  
B) Ağırlıkları ne kadardır?  
C) Nerede yaşarlar?


19. Üff ( ) Ben limonatayı ılık içemiyorum ( ) Burada buz var mı ( )  
Bu metinde ayrıçla gösterilen yerlere sırasıyla aşağıdaki noktalama işaretlerinden hangileri getirilmelidir?  
A) (?) (.) (!) B) (!) (.) (?) C) (.) (.) (?)

20. Aşağıdakilerin hangisinde büyük harflerin yazımıyla ilgili bir yanlışlık yapılmıştır?  
A) Önümüzdeki hafta sonu Bolu turu düzenleyeceğiz.  
B) Kapıda beni görünce en çok esra sevindi.  
C) Yazın teyzemlerle İtalya'da tatil yapacağız.

21. 18'den başlanarak geriye doğru ikişer sayılıyor.  
Bu saymada aşağıdaki sayılardan hangisi söylenmez?

A) 16 B) 13 C) 8


22.



Resimde ördekler ve koyunlar vardır.  
Buna göre aşağıdakilerden hangisi doğrudur?

A) Ördeklerin sayısı koyunların sayısına eşittir.  
B) Ördeklerin sayısı koyunların sayısından daha çöktür.  
C) Ördeklerin sayısı koyunların sayısından daha azdır.


23.



Masadaki kırmızı kitap üstten kaçınıcı sıradadır?

A) 3 B) 4 C) 5

24.



Resimdeki yumurtaların sayısı aşağıdakilerden hangisi ile gösterilebilir?

- A) 1 onluk 5 birlik  
B) 1 onluk 3 birlik  
C) 1 onluk 1 birlik

25. Aşağıdaki işlemlerden hangisinin sonucu farklıdır?

- A)  $2 + 12$   
B)  $5 + 10$   
C)  $8 + 6$

26. Timur 15 sayfalık bir kitabın 4 sayfasını okumuştur.  
Timur kitabı bitirmek için kaç sayfa daha okumalıdır?

- A) 11  
B) 12  
C) 19

27. Tayfun'un 9 bilyesi vardı. 8 bilye daha aldı.  
Tayfun'un kaç bilyesi oldu?

- A) 1  
B) 15  
C) 17

$$28. \quad 8 + 7 = \square$$

$$\square + \triangle = 19$$

Yukarıdaki işlemlerde  $\square$  ve  $\triangle$  birer sayıdır.

Buna göre  $\triangle$  kaçtır?

- A) 4  
B) 5  
C) 6

29.



Yukarıda modellenen çıkarma işleminde eksilen sayı kaçtır?

- A) 5  
B) 6  
C) 11

30.



Resimdeki balonların 7 tanesi patlıyor.

Geriye kaç sağlam balon kalır?

- A) 8  
B) 7  
C) 6

31.



Resme göre Anıl'ın kaç lirası vardır?

- A) 18  
B) 13  
C) 5


32.



Resme göre aşağıdaki ifadelerden hangisi doğrudur?

- A) Kedi dolabın altındadır.
- B) Osman dolabın önündedir.
- C) Mert, kedi ile dolabın arasındadır.

33.



Resimde verilen meyveler için aşağıdakilerden hangisi doğrudur?

- A) Elma en hafiftir.
- B) Kiraz elmadan daha ağırdır.
- C) Elma karpuzdan daha hafiftir.

34.



4 bütün limonun bir kısmı kullanılmıştır. Geriye resimdeki yarım limonlar kalmıştır.




Buna göre kaç yarım limon kullanılmıştır?

- A) 1
- B) 3
- C) 5

35.



Aşağıdakilerin hangisi resimdeki cisimlerden birinin bir yüzü değildir?

- A) 
- B) 
- C) 

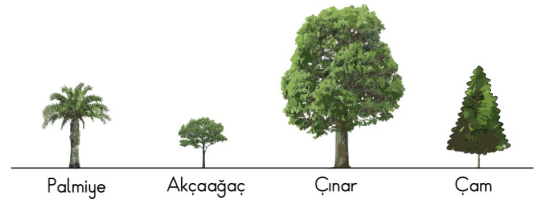
36.



Resme göre saati aşağıdakilerden hangisi yanlış okumuştur?

- A) Sibel
- B) Ayşe
- C) Hakan

37.



Resimdeki ağaçların kısıdan uzuna doğru sıralanışı aşağıdakilerden hangisidir?

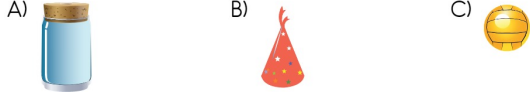
- A) Palmiye - Akçaağaç - Çam - Çınar
- B) Akçaağaç - Palmiye - Çam - Çınar
- C) Çam - Akçaağaç - Palmiye - Çınar

38.



Yukarıdaki nesnelere bir kurala göre dizilmiştir.

Bu örüntüde ? yerine aşağıdakilerden hangisi gelmelidir?



39.

Aşağıdaki tabloda Mehmet, Emre, Altay ve Erdem'in kalem sayıları verilmiştir.

Tablo: Kişiler ve Kalem Sayıları

Kişiler	Kalem Sayıları
Mehmet	12
Emre	7
Altay	10
Erdem	9

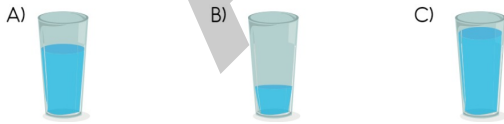
Tabloya göre aşağıdakilerden hangisi yanlıştır?

- A) Mehmet'in kalemleri Altay'in kalemlerinden daha çoktur.  
 B) Emre'nin kalemleri Altay'in kalemlerinden daha azdır.  
 C) Altay ve Erdem'in kalem sayıları eşittir.

40.

Aşağıdaki kaplar aynı büyüklüktedir. Bu kaplar, içindeki su miktarı çok olandan az olana doğru sıralanıyor.

Yapılan sıralamaya göre 2. kap hangisi olur?



41. Mersin'in tarihi güzelliklerini ziyaret etmek isteyen Özge, aşağıdaki yerlerden hangisine gitmelidir?



Anamur Mamure Kalesi

Oyun parkı



Alışveriş merkezi

42. Dini bayramlarda aşağıdakilerden hangisi yapılır?

- A) Okulda tören yapılır.  
 B) Büyükler ziyaret edilir.  
 C) Sınıflar süslenir.

43.

Anne adı: Zübeyde Hanım
Baba adı: Ali Rıza Bey
Doğum yeri: Ankara

Yukarıdaki tabloda Atatürk ile ilgili verilen bilgilerden hangisi yanlıştır?

- A) Anne adı B) Doğum yeri C) Baba adı

44. Aşağıdaki çocuklardan hangisi ülkemizin bayrağını taşımaktadır?

A)



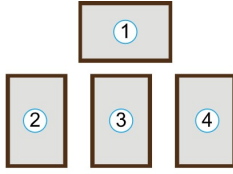
B)



C)



45.



Bir sınıftaki şeref köşesinde 3 numaralı alanda hangisi bulunur?

A) Türk Bayrağı

B) İstiklal Marşı

C) Atatürk Resmi

46. Atatürk, cumhuriyeti hangi gün ilan etmiştir?

A) 29 Ekim

B) 23 Nisan

C) 19 Mayıs

47. İstiklal Marşı okunurken yüzümüzü - - - - dönmeliyiz.

Cümledeki boşluğa getirilmesi uygun olan kelime aşağıdakilerden hangisidir?

A) müdüre

B) öğretmene

C) bayrağa

48. Aşağıda verilen eşyalardan hangisi kullanıldığında evdeki kaynakları tüketmez?

A)



B)



C)



49. Öğrencilerin okulda yaptıkları etkinliklerden hangisinin amacı doğal çevreyi korumaktır?

A) Atık pil, plastik ve karton toplama kampanyası

B) Köy okullarına vermek için kitap toplama kampanyası

C) Kullanılmayan eşya ve giysilerin ihtiyacı olanlara ulaştırılması kampanyası

50. Yolun karşısına geçmek için aşağıda verilenlerin hangisinden yararlanmayız?

A)



Yaya geçidi

B)



Üst geçit

C)



Sokak saati

51. Aşağıdakilerden hangisi Ankara'nın turistik özelliğe sahip tarihi yerlerinden biridir?

A) İlk Türkiye Büyük Millet Meclisi Binası

B) Ankara Traktör Fabrikası

C) Kızılay Metro İstasyonu

52.



Mehmet

Banyoya gittiğimde buradaki bazı temizlik ürünlerinin kapakları açılmıştı. Kardeşim bunları açtığını ve içtiğini söyledi.

Bu durumda Mehmet'in yapacağı doğru davranış nedir?

- A) Kardeşine kızmak
- B) Hiçbir şey olmamış gibi davranmak
- C) Hemen büyüklerine haber vermek


53. Öğrenciler sınıflarına çevre temizliği ile ilgili posterler asmak istiyor. Aşağıdakilerden hangisi bu konuya uygun bir ifadedir?

- A) Boşalmış olan kâğıt süt kutularına tekrar süt koyalım.
- B) Cam şişe ve gazete kâğıtlarını toprağa atalım.
- C) Meyve ve sebze kabuklarını çöp kutularına atalım.

54.

- Canlılar için besin kaynağıdır.
- Soluduğumuz havayı temizler.

Bazı özellikleri verilen canlı aşağıdakilerden hangisidir?



55.

Ali Baba'nın bir çiftliği var.  
Çiftliğinde horozları var,  
"Ü ürü ü ürü" diye bağırır,  
Çiftliğinde Ali Baba'nın  
Şarkıda adı geçen hayvanın barınağı hangisidir?

- A) Kümes
- B) Orman
- C) Akvaryum

56.

Pelin: Televizyonu yakından izlemeyi severim.  
Arda: Televizyondan çok yüksek sesle müzik dinlerim.  
Neşe: Bilgisayarı belirli uzaklıktan arkama yaslanarak kullanırım.  
Hangi öğrenci kitle iletişim aracını beden sağlığına uygun kullanıyor?

- A) Pelin
- B) Arda
- C) Neşe

57.

Bilge öğretmen aşağıdaki resmi öğrencilerine gösteriyor.



Öğretmen bu resmi gösterdikten sonra sağlıklı beslenme ile ilgili aşağıdaki açıklamalardan hangisini yapmıştır?

- A) Sağlıklı yaşamak için her besinden tüketmeliyiz.
- B) Açıkta satılan yiyecekler sağlığımıza zarar verebilir.
- C) Bitkilerden elde edilen besinleri daha çok tüketmeliyiz.



58. Aşağıda çeşitli besinler gruplanarak verilmiştir.

1. grup	2. grup	3. grup	4. grup
Peynir Süt Yumurta	Ekmek Balık Marul, domates salatası	Pasta Bisküvi Şeker	Çorba Ispanak yemeği Meyve

Dengeli beslenen Zeynep öğle yemeği için hangi gruplardaki besinleri seçebilir?

- A) 1. grup  
B) 1. ve 3. grup  
C) 2. ve 4. grup

59. Öğrenciler diş sağlığını korumak için açıklamalarda bulunuyor.



Banu

Yalnız diş etlerini fırçalamalıyız.



Pınar

Dişlerimizi günde en az iki defa fırçalamalıyız.



Fırat

Diş macununu çok fazla miktarda kullanmalıyız.

Buna göre hangi öğrencinin açıklaması doğrudur?

- A) Banu                      B) Pınar                      C) Fırat


60. Merve kişisel bakımı ifade eden afişler hazırlamıştır.

Aşağıdakilerden hangisi bu afişlerden birisidir?

A)



B)



C)

