

SADECE 8 TL


BÜYÜK BOY

FUFUK İLE OKUDUĞUMU ANLIYORUM



2.SINIF
UFUK KOCA

www.ufukkoca.com



FUFUK İLE OKUDUĞUMU ANLIYORUM

www.ufukkoca.com

SİPARİŞ

0 552 252 83 85

Dolu Dolu

64 SAYFA

METİN İLE İLGİLİ
5 N 1 K
DOĞRU YANLIŞ
TEST
SORULARI

TOPLAM
345 soru

EĞLENCİLİ
OKUMA ANLAMA
ETKİNLİKLERİ

Fiyat : 8 TL

Tamamı Renkli Sayfalar


20 Adet ve üzeri alımlarda

KARGO ÜCRETSİZ.

20 Adet altında alımlarda

kargo ücreti sadece 3 TL.

Sipariş Whatsap : 0 552 252 83 85





DOĞAL SAYILAR



I. Nesne Sayısını Belirler

★ BİLGİ ★

Rakam : Sayıları yazmak için kullandığımız işaretlere denir. 10 tane rakam vardır. Bunlar :

0 1 2 3 4 5 6 7 8 9

Doğal Sayı : Sıfırdan başlayıp birer birer artarak devam eden sayılara denir.

Örnek : 0, 1, 2, 3, 4, 5, 6, 7, 8, 9, 10, 11, 12, 13, 14, 15, 16, 17, 18...

Bir Basamaklı Doğal Sayılar : Bir tane rakam ile yazılan sayılardır.

Örnek : 0, 1, 2, 3, 4, 5, 6, 7, 8, 9

İki Basamaklı Doğal Sayılar : 10'dan başlayıp 99'a kadar olan sayılardır.

Örnek : 10, 11, 12, 13, 14, 15, 92, 93, 94, 95, 96, 97, 98, 99.

www.ufukkoca.com

ETKİNLİK

1 Aşağıda verilen soruları resme göre cevaplayınız.



OKULA HOŞ GELDİN




Pankartta kaç tane harf vardır?

Kaç tane çocuk vardır ?

2 Aşağıda verilen varlıkların sayısını altındaki kutucuğa yazınız.





www.ufukkoca.com




www.etkinlikburada.com









3 Aşağıda verilen ifadeler doğru ise başındaki kutucuğa "D" harfi, yanlış ise başındaki kutucuğa "Y" harfi yazınız.



En büyük rakam dokuzdur.

En küçük rakam ondur.

En küçük doğal sayı birdir.

İki basamaklı en büyük doğal sayı doksan dokuzdur.

Sınıfımda 25 öğrenci vardır.

SORU

1

Rakamların hepsini aşağıya yazarmısın?

Cevap :

SORU

5

Üç tane iki basamaklı doğal sayı yazarmısın?

Cevap :

SORU

2

En küçük rakamı aşağıya yazarmısın?

Cevap :

SORU

6

Şuan sınıfta kaç öğrenci var?

Cevap :

SORU

3

En büyük rakam kadar çiçek çizermısın?

Cevap :

SORU

7

İki basamaklı en küçük doğal sayı kadar kalem çizermısın?

Cevap :

SORU

4

Bir basamaklı en büyük doğal sayı kadar elma çizermısın?

Cevap :

SORU

8

İki basamaklı en büyük doğal sayıyı aşağıya yazarmısın?

Cevap :

1



Yukarıdaki kuşların sayısı hangi seçenekte doğru yazılmıştır?

- A 15 B 17 C 19

2



Yukarıdaki kelebeklerin sayısı hangi seçenekte doğru yazılmıştır?

- A 8 B 11 C 14

3



En küçük iki basamaklı doğal sayıyı arıyorum.

Fufuk'un aradığı doğal sayı aşağıdakilerden hangisidir?

- A 1 B 10 C 99

4



En büyük iki basamaklı doğal sayıyı arıyorum.

Fufuk'un aradığı doğal sayı aşağıdakilerden hangisidir?

- A 9 B 19 C 99

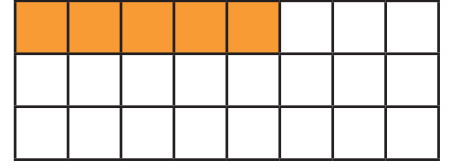
5



Yukarıdaki çileklerin sayısı hangi seçenekte doğru yazılmıştır?

- A on dokuz B yirmi C yirmi bir

6



Fufuk yukarıdaki kutulardan beş tanesini boyadı. Kaç tane daha boyarsa kutuların hepsini boyamış olur?

- A 24 B 22 C 19

7

Aşağıdakilerden hangisi iki basamaklı doğal sayı değildir?

- A 8 B 10 C 33

Adı :

Soyadı :

Sınıfı : / No :

CEVAPLAR

- | | | | |
|---|-------------|----|------------------------|
| 1 | (A) (B) (C) | 6 | (A) (B) (C) |
| 2 | (A) (B) (C) | 7 | (A) (B) (C) |
| 3 | (A) (B) (C) | 8 | (A) (B) (C) |
| 4 | (A) (B) (C) | 9 | (A) (B) (C) |
| 5 | (A) (B) (C) | 10 | (A) (B) (C) |