

## AĞAÇKAKAN

Ağaçkakan çok becerikli bir hayvandır. Çok güçlü, çivi kadar sert bir gagası vardır. Ağacın sert kabuğunu gagasıyla kolaylıkla deler. Deldiği bu yere yuvasını yapar. Gagasını kullanarak ağaç kabuklarının altına gizlenen böcekleri ve tırtılları yemeyi çok sever.

1, 2 ve 3. Soruları metne göre cevaplayınız.

- 1) Ağaçkakan **nasıl** bir hayvandır?
- A) Tembel bir hayvan  
B) Becerikli bir hayvan  
C) Yardım sever hayvan
- 2) Aşağıdakilerden hangisi **ağaçkakanın** özelliklerinden değildir?
- A) Çok güçlü  
B) Sert gagalı  
C) Yumuşak tüylü

- 3) Ağaçkakan neleri **yemeyi** çok severmiş?

- A) Böcek ve tırtıl  
B) Solucan ve kelebek  
C) Sinek ve tohum

- 4)

Metnin başlığı kaç **heceden** oluşmaktadır?



- A) Beş  
B) Dört  
C) Üç


- 5)



Yukarıdaki **harfler** kullanılarak hangi kelime oluşturulamaz?

- A) para  
B) araba  
C) aba

- 6)




Yukarıdaki **hecelerden** aşağıdaki hangi sözcük oluşturulamaz?

- A) arkadaş B) kara C) kapıcı

- 7) Öğrenci  Talebe  
Masal  Öykü  
İleri  Geri


Tablodaki **sözcük** çiftlerinden hangisi **zıt** anlamlıdır?

- A)  B)  C)

- 8)  Bana masal anlatır mısın?

Ayşe'nin söylediği cümlede **ikinci kelimenin** yerine aşağıdakilerden hangisi gelirse anlam değişmez?

- A) hayal B) roman C) öykü

- 9)  şışma ucuz yaşlı

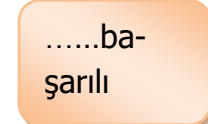


Yukarıdaki kelimelerin **karşılık** gelen görseller yerine **zıt anlamları** yazılacak. Buna göre **hata** yapılan görsel hangisidir?

- A)  zayıf B)  ihtiyar C)  pahalı

- 10)   
    
Yukarıdaki hayvan **isimlerinden** hangisi **sesteş** değildir?

- A)  B)  C) 

- 11) '**Başarılı**' kelimesi **satır sonuna** yazımı hangi seçenekte yanlış verilmiştir?

- A)  B)   
C) 

- 12) 

I	oynayacaktım
II	top
III	akşam

Yukarıdaki kelimelerle **kurallı** bir cümle kurulduğunda sıralama nasıl olur?

- A) III- I-II B) II- I- III  
C) III - II - I

1)



Bir desteden iki karpuz fazladır.



Yukarıda bir deste karpuz vardır.



Yukarıya üç karpuz eklersek bir düzine olur.


Hangi **sembolün** yanındaki bilgi yanlış değildir?

A)  B)  C) 

2)



Süzgecimde bir **düzine** çiçeği sulayacak suyum var.



Ayşe'nin suyu **bittiğinde** geriye sulanmamış kaç çiçeği kalır?

A)  B)  C)   

3)



Buse'nin **tahtada** gösterdiği **sayı** aşağıdakilerden hangisidir?

A) 68 B) 78 C) 86


4)




Yukarıdaki **abaküste** gösterilen **sayı** aşağıdakilerden hangisidir?

A) 3 birlik 3 onluk  
B) 4 onluk 3 birlik  
C) 3 birlik 4 onluk

5)




Yukarıdaki sayı örüntüsünde  yerine hangi sayı yazılmalıdır?

- A) 23      B) 24      C) 25

6)



21-24-27-30-33



26-23-20-17-14



21-25-29-33-37

Yukarıdaki çocuklardan hangisi **ileriye** doğru **üçer** ritmik sayma yapmıştır?

A)



B)



C)

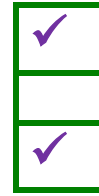


7)

	68 sayısında 6 onluk vardır.
	45 sayısında 5 onluk 4 birlik vardır.
	24 ile 29 sayısının onlar basamağı aynıdır

Yukarıdaki ifadelerden **doğru** olanların başına **tik işareti** koyarsak tablonun son görüntüsü nasıl olur?

A)



B)



C)



8)

Penguenin en çok **sevdiği** yiyecek aşındaki kutuların birisindedir.

58



68



59



35 + 24 = ?



Yukarıdaki **toplama** işleminin **sonucu doğru** kutuyu gösterdiğine göre en sevdiği yiyecek hangi kutudadır?

A)



B)



C)



9)

$$\begin{array}{r} 49 \\ - 28 \\ \hline 21 \end{array}$$



$$\begin{array}{r} 58 \\ - 25 \\ \hline 33 \end{array}$$



$$\begin{array}{r} 26 \\ - 15 \\ \hline 12 \end{array}$$



Yukarıdaki çocukların yaptığı **çıkarma** işlemlerinden hangisi doğru değildir?

A)



B)



C)



10)

$$45+24 = ?$$


69



79

$$55-34 = ?$$

$$65-24 = ?$$



31

21

41

42

Yukarıdaki **işlemlerin** sonuçlarına göre merdivenlerden **hangi** kutucuğa ulaşırız?

A)

41

B)

31

C)

21

11)

Anneme, doğum günü için hangi hediyeyi alsam?



Ali, seçim yapamadığı için ikisini de almaya karar verdi.

Ali'nin **iki** hediyeyi alabilmesi için **toplam** kaç parası olması gerekli?

A) 70

B) 75

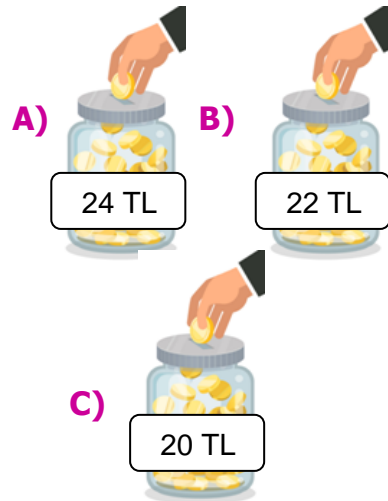
C) 80

12)



Sinan, **kardeşine** oyuncak araba almayı düşünüyor. Sinan'ın elinde **12 TL** var.

Sinan **arabayı** alabilmesi için **kumbarasında** kaç TL biriktirmesi gereklidir?





1)

Ahmet, okuldan geldiğinde önce önlüğünü çıkarır. Biraz dinlendikten sonra yemeğini yer. Derslerini yapmaya başlar. Annesi ve babasıyla güzel vakit geçirir. Saati geldiğinde yatar.



Buna göre **Ahmet** için aşağıdakilerden hangisi söylenbilir?

- A) Televizyon izlemeyi çok seviyor.
- B) Planlı yaşayan bir çocuk.
- C) Derslerini yapmıyor.

2)

	Pazartesi Canlı Dersleri
1. Ders	Hayat Bilgisi
2. Ders	Türkçe
3. Ders	Matematik
4. Ders	Matematik

Ayşe'nin **pazartesi** günlük **ders** programı verilmiştir.

Buna göre **derste** aşağıdaki **esyalardan** hangisine ihtiyaç yoktur?

- A) Sözlük
- B) Kuru boya
- C) Cetvel

3)



Ali

Mehmet


Sinan

Yukarıdaki çocuklardan hangisi **kişisel bakım** eşyası olmayan kartı tutmaktadır?

- A) Ali
- B) Mehmet
- C) Sinan

4)

Üç arkadaş sabah kahvaltıda ne yiyeceğini hayal ediyor.



Hüseyin

Mahmut

Hasan

Hayallerine göre hangi çocuk **sağlıklı beslenmektedir**?

- A) Mahmut
- B) Hüseyin
- C) Hasan

5)



Yukarıdaki **davranışlardan** hangisini yapmak yanlış değildir?

- A) 
- B) 
- C) 

6)



Yukarıdaki **çocuklardan** hangisinin **ilgi** alanı farklıdır?



7)

Başında büyük şapkası.  
Elindedir keçesi.  
Lezzetli yemeklerin.  
Odur ilk deneyisi.

Yukarıdaki **kartta** yazılı bilmece'nin **cevabı** hangi seçenektir?

A)



B)



C)



8)

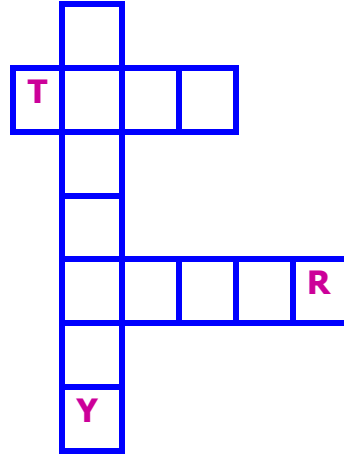
Aşağıdaki seçeneklerden hangisi karşıdan karşıya geçerken **hatalı** bir davranıştır?

A) Yaya geçitini kullanmalıyız.

B) Üst ve alt geçiti kullanmalıyız.

C) Yaya'lara kırmızı ışık yanarken geçmeliyiz.

9)



TREN



TRANVAY



TEKNE



VAPUR

Yukarıda verilen **ulaşım araçlarını** bulmacaya yerleştirdiğimizde **hangi** ulaşım aracı dışarıda kalır?

A)



B)



C)



10)

Harp Akademisi

Şemsi Efendi İlkokulu

Askeri Lise

Atatürk'ün okuduğu **okulları** sıraya koyarsak **renklerin** sırası nasıl olur?

A)



B)



C)



## TÜRKÇE CEVAP ANAHTARI

## CEVAPLAR

- |    |   |   |   |    |   |   |   |
|----|---|---|---|----|---|---|---|
| 1  | A | B | C | 11 | A | B | C |
| 2  | A | B | C | 12 | A | B | C |
| 3  | A | B | C | 13 | A | B | C |
| 4  | A | B | C | 14 | A | B | C |
| 5  | A | B | C | 15 | A | B | C |
| 6  | A | B | C | 16 | A | B | C |
| 7  | A | B | C | 17 | A | B | C |
| 8  | A | B | C | 18 | A | B | C |
| 9  | A | B | C | 19 | A | B | C |
| 10 | A | B | C | 20 | A | B | C |

## HAYAT BİLGİSİ CEVAP ANAHTARI

## CEVAPLAR

- |    |   |   |   |    |   |   |   |
|----|---|---|---|----|---|---|---|
| 1  | A | B | C | 11 | A | B | C |
| 2  | A | B | C | 12 | A | B | C |
| 3  | A | B | C | 13 | A | B | C |
| 4  | A | B | C | 14 | A | B | C |
| 5  | A | B | C | 15 | A | B | C |
| 6  | A | B | C | 16 | A | B | C |
| 7  | A | B | C | 17 | A | B | C |
| 8  | A | B | C | 18 | A | B | C |
| 9  | A | B | C | 19 | A | B | C |
| 10 | A | B | C | 20 | A | B | C |

## MATEMATİK CEVAP ANAHTARI

## CEVAPLAR

- |    |   |   |   |    |   |   |   |
|----|---|---|---|----|---|---|---|
| 1  | A | B | C | 11 | A | B | C |
| 2  | A | B | C | 12 | A | B | C |
| 3  | A | B | C | 13 | A | B | C |
| 4  | A | B | C | 14 | A | B | C |
| 5  | A | B | C | 15 | A | B | C |
| 6  | A | B | C | 16 | A | B | C |
| 7  | A | B | C | 17 | A | B | C |
| 8  | A | B | C | 18 | A | B | C |
| 9  | A | B | C | 19 | A | B | C |
| 10 | A | B | C | 20 | A | B | C |



**CEVAP ANAHTARI****TÜRKÇE**

- 1) B
- 2) C
- 3) A
- 4) B
- 5) A
- 6) B
- 7) A
- 8) C
- 9) B
- 10) A
- 11) B
- 12) C

**MATEMATİK**

- 1) B
- 2) B
- 3) C
- 4) A
- 5) A
- 6) C
- 7) A
- 8) B
- 9) B
- 10) C
- 11) A
- 12) B

**HAYAT BİLGİSİ**

- 1) B
- 2) B
- 3) C
- 4) A
- 5) C
- 6) B
- 7) C
- 8) C
- 9) A
- 10) A