



SADECE 8 TL

BÜYÜK BOY

FUFUK İLE OKUDUĞUMU ANLIYORUM



2.SINIF
UFUK KOCA
www.ufukkoca.com



FUFUK İLE OKUDUĞUMU ANLIYORUM

www.ufukkoca.com

SİPARİŞ

0 552 252 83 85

Dolu Dolu

64 SAYFA

METİN İLE İLGİLİ
5 N 1 K
DOĞRU YANLIŞ
TEST
SORULARI

TOPLAM
345 soru

EĞLENCİLİ
OKUMA ANLAMA
ETKİNLİKLERİ

Fiyat : 8 TL

Tamamı Renkli Sayfalar


20 Adet ve üzeri alımlarda

KARGO ÜCRETSİZ.

20 Adet altında alımlarda

kargo ücreti sadece 3 TL.

Sipariş Whatsap : 0 552 252 83 85



SORU

1

24'ten başlayarak ileriye ikişer ritmik sayarak 40'a kadar yazınız.

Cevap :

SORU

5

9'dan başlayarak ileriye üçer ritmik sayarak 30'a kadar yazınız.

Cevap :

SORU

2

62'den başlayarak geriye ikişer ritmik sayarak 44'e kadar yazınız.

Cevap :

SORU

6

27'den başlayarak geriye üçer ritmik sayarak 6'ya kadar yazınız.

Cevap :

SORU

3

25'ten başlayarak ileriye beşer ritmik sayarak 55'e kadar yazınız.

Cevap :

SORU

7

8'den başlayarak ileriye dörder ritmik sayarak 36'ya kadar yazınız.

Cevap :

SORU

4

75'ten başlayarak geriye beşer ritmik sayarak 35'e kadar yazınız.

Cevap :

SORU

8

40'dan başlayarak geriye dörder ritmik sayarak 12'e kadar yazınız.

Cevap :

1



28-30-32-34-36



52-54-55-56-58



64-66-68-70-72

Yukarıdaki çocuklardan hangisi ikişer ritmik saymayı yanlış söylemiştir?

A



B



C



2



24-21-18-12-9-6-3

Fufuk'un geriye üçer ritmik sayma yaparken unuttuğu doğal sayı kaçtır?

A

15

B

14

C

10

3

30'dan başlayıp ileriye beşer ritmik sayma yaptığımızda 4. söylediğimiz sayı kaç olur?

A



B



C



4

28 - 24 - 20 - - 12

Yukarıda boş bırakılan kutunun içine hangi sayı gelirse geriye dörder ritmik sayma yapmış oluruz?

A

18

B

16

C

14

5

2 desteden ileriye beşer ritmik saydığımızda ilk söylediğimiz sayı kaçtır?

A

25

B

29

C

30

6

2 düzineden geriye üçer ritmik sayarken söylediğimiz ilk sayı kaçtır?

A

23

B

21

C

17

Adı :

Soyadı :

Sınıfı : / No :

CEVAPLAR

1 A B C

6 A B C

2 A B C

7 A B C

3 A B C

8 A B C

4 A B C

9 A B C

5 A B C

10 A B C