





## VERİ TOPLAMA

1.Etkinlik: Tabloyu inceleyelim. Soruları tabloya göre cevaplayalım.

Küresteki Hayvanlar Tablosu			
Hayvanlar			
Sayısı	3	12	5

Küresteki .... tane  var.

Küresteki .... tane  var.

Küresteki .... tane  var.

Küresteki en fazla hangi hayvan vardır? .....

Küresteki en az hangi hayvan vardır? .....

Küresteki toplam kaç hayvan vardır? .....

Tavuklar hindilerden kaç tane fazladır? .....



2.Etkinlik: Tabloyu inceleyelim. Soruları tabloya göre cevaplayalım.

Sebzelikteki Sebzeler Tablosu			
Sebzeler			
Sayısı	5	6	9

Sebzelikteki .... tane  var.

Sebzelikteki .... tane  var.


Sebzelikteki .... tane  var.

Sebzelikteki en fazla hangi sebze var? .....




Sebzelikteki en az hangi sebze var? .....

Sebzelikteki toplam kaç sebze var? .....

Domatesler salatalıktan kaç tane fazladır? .....



2.Etkinlik: Tabloyu inceleyelim. Soruları tabloya göre cevaplayalım.

Kitaplıktaki Kitaplar Tablosu			
Kitaplar			
Sayısı	7	2	10

Kitaplıkta .... tane  var.

Kitaplıkta .... tane  var.

Kitaplıkta .... tane  var.

Kitaplıkta en fazla hangi kitap var? .....

Kitaplıkta en az hangi kitap var? .....

Kitaplıkta toplam kaç kitap var? .....

Hikaye kitapları şiir kitaplarından kaç fazladır? .....

