

**4.SINIF  
DENEME  
SINAVI**

Adı ve Soyadı:.....

Sınıfı/Şubesi : ..... Numarası:.....

Okulu:.....



1- "Sarmak" sözcüğü aşağıdaki cümlelerin hangisinde "Etkisi altına almak,kaplamak." anlamında kullanılmıştır?

- A. Kestiği parmağını pamukla sardı.
- B. Köpekler Ali'nin etrafını sarmıştı.
- C. Uçurtmayı aşağıya indirmek için ipi sarmaya başladı.
- D. Yangın her yeri sarmaya başlamıştı.



3- Yukarıdaki sözcükler eş anlam ilişkisiyle eşleştirildiğinde hangisi dışarıda kalır?

- A. Münasip
- B. Tutsak
- C. Hayal
- D. Uygun

- yankı
- ✓ yanlış
- ▲ yanık
- yanak

2- Yukarıdaki tabelada yazan kelimeler sözlük sırasına göre dizilirse baştan ikinci ve sonuncu şekiller hangisi olur?

- A. ▲-■
- B. ✓-●
- C. ▲-✓
- D. ●-■

- I. Süt çok sıcaktı dilim yandı.
- II. Dilimde küçük yaralar çıktı.
- III. "R" sesini söylerken dilim dönmüyor.
- IV. Babam iki yabancı dil kullanıyor.

4- Yukarıdaki cümlelerden hangisinde "dil" sözcüğü diğerlerinden farklı bir anlamda kullanılmıştır?

- A. III
- B. II
- C. I
- D. IV



Deyim I Mecaz II Terim III Gerçek IV

"Yarınki geometri dersinde açılar konusunu işleyeceğiz.

**5-** Yukarıdaki cümlede altı çizili sözcük cümlede hangi anlamıyla kullanılmıştır?

- A. IV
- B. III
- C. II
- D. I

kış	uyuyarak
ayı	mevsimini
mağarada	yaşlı
yaşamının	geçirdi

**6-** Yukarıda verilen kelimelerle kurallı ve anlamlı cümle oluşturduğumuzda hangi kelime dışarıda kalır?

- A. Kış
- B. Yaşamının
- C. Ayı
- D. Uyuyarak

Can( )taşı kaldırınc( )( )Yılan var( )( ) diye bağırdı( )

**7-** Yukarıdaki cümlede yay ayaçla gösterilen yerlere sırasıyla hangi noktalama işaretleri konulmalıdır?

- A. (,) (:) (") (!) (") (.)
- B. (,) (.) (") (.) (") (.)
- C. (,) (,) (:) (?) (:) (.)
- D. (,) (:) (→) (!) (.) (.)

1. Serhat da Burak kadar güzel resim yapıyor.	Neden - Sonuç cümlesi
2. Yazılıya az çalışınca düşük not aldı.	Karşılaştırma cümlesi

**8-** Yukarıda verilenler ile ilgili hangi bilgi doğrudur?

- A. 1. eşleştirme doğru, 2. eşleştirme yanlıştır.
- B. 2. eşleştirme doğru, 1. eşleştirme yanlıştır.
- C. 2 eşleştirme de yanlıştır.
- D. 2 eşleştirme de doğrudur.



“Yılanı göre Ahmet, roket gibi fırlatarak oradan uzaklaştı.”

**9-** Yukarıdaki ifadedeki benzeyen ve benzetilenler hangisinde doğru olarak verilmiştir?

	Benzeyen	Benzetilen
A.	Ahmet	Roket
B.	Yılan	Roket
C.	Ahmet	Yılan
D.	Roket	Ahmet

(I) Her yaz olduğu gibi bu yazda dedemin İzmir'deki yazlığındaki komşuların çocuklarıyla buluştuk.(II) Sonra denizde deliler gibi yüzdük. (III) Her gün sabahları önce karnımızı tıka basa doyurduk (IV) Her yıl olduğu gibi bu yıl da yaz tatilimiz çok eğlenceli geçiyordu.

**10-** Yukarıdaki paragrafta olayların oluş sırasını bozmamak için kaç numaralı cümleler yer değiştirmelidir?

- A. I ve II
- B. I ve III
- C. II ve III
- D. III ve IV



Bu test 10 sorudan oluşmaktadır.

$$\begin{array}{r} 44\triangle 3 \\ + 54\star \\ \hline 5012 \end{array}$$

1- Yukarıda verilen toplama işleminde  $\triangle$  ve  $\star$  yerlerine hangi rakamlar yazılmalıdır?

- A.  $\triangle=5$        $\star=9$   
B.  $\triangle=6$        $\star=8$   
C.  $\triangle=6$        $\star=9$   
D.  $\triangle=5$        $\star=8$

$$(6 \times 10000 + 5 \times 1000 + 3 \times 10 + 7 \times 1)$$

2- Yukarıdaki çözümlenmiş sayıya kaç eklersek 82174 eder?

- A. 18147  
B. 17137  
C. 17849  
D. 17147

$$54 \times 107 < A$$

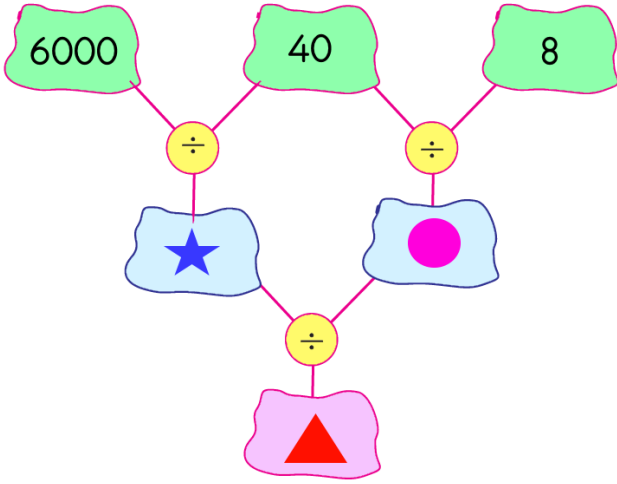
3- Yukarıdaki ifadeye göre A yerine yazılabilecek en küçük doğal sayı kaçtır?

- A. 5768  
B. 5778  
C. 5769  
D. 5779

6	4
10	8
18	16
34	32
$\triangle$	$\star$

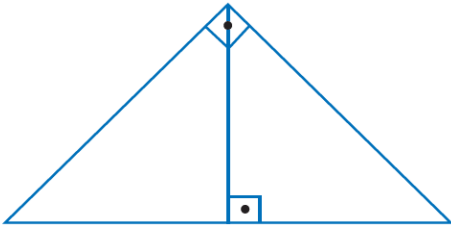
4- Yukarıda verilen örüntüye göre  $\triangle$  ve  $\star$  sembolleriyle ifade edilen değerlerin toplamı kaçtır?

- A. 128  
B. 129  
C. 130  
D. 131



5- Yukarıda verilen işleme göre "▲" değeri kaçtır?

- A. 30
- B. 35
- C. 40
- D. 45



6- Yukarıdaki şekilde kaç tane dar açı vardır?

- A. 2
- B. 4
- C. 6
- D. 8



7- Kilosunu 2 TL'den 40 kasa limon alan manav, limonun kilosunu 5 TL'den satarsa kaç TL kar eder?

- A. 2000
- B. 2500
- C. 3000
- D. 3500

8- Aşağıdakilerden hangisi düzlem modeline örnek değildir?




A.



B.



C.



D.



9- Öğrencilere dağıtılmak üzere gelen kitapların  $\frac{3}{7}$  sabah  $\frac{2}{7}$ 'si ise öğleden sonra dağıtılmıştır. Geriye 100 kitap kaldığına göre okula dağıtılmak için toplam kaç kitap gelmiştir?

- A. 250
- B. 300
- C. 350
- D. 400



10- Doktor, Sibel'e iki hafta bittikten sonra kontrole gelmesini söyledi. Bugün 12 Nisan olduğuna göre Canan'ın kontrole ne zaman gitmesi gerekiyor?

- A. 24 Nisan
- B. 25 Nisan
- C. 26 Nisan
- D. 27 Nisan



Bu test 10 sorudan oluşmaktadır.



I



II



III



IV

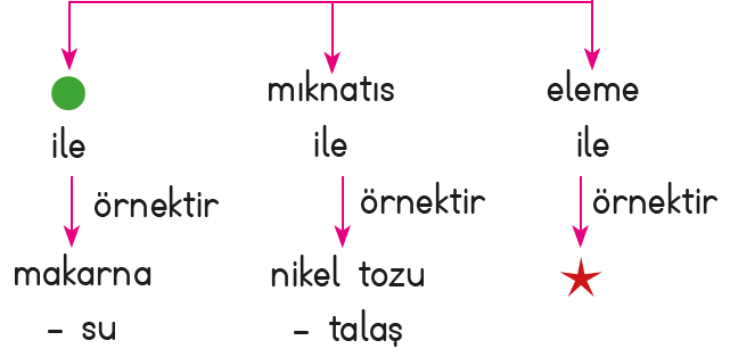
1- Yukarıda verilen aydınlatma araçları geçmişten günümüze doğru aşağıdakilerin hangisinde doğru sıralanmıştır?

- A. II - III - IV - I
- B. III - II - IV - I
- C. I - IV - II - III
- D. II - I - III - IV

2- Aşağıdakilerden hangisi aydınlatma teknolojilerinin insanlığa sağladığı yararlarından biri değildir?

- A. Hastanelerde sağlık hizmetlerinin aralıksız devam edebilmesi
- B. Fabrikaların geceleri üretime devam edebilmesi
- C. Göçmen kuşların göç yollarını kaybetmesi
- D. Maden işçilerinin yerin yüzlerce metre altında çalışabilmesi

Karışım ayrıştırılabilir.



3- Yukarıdaki şemada ● ve ★ sembolleri ile gösterilen yerlere hangi seçenekte verilenler getirilmelidir?

- A. ● eleme ★ tuz-su
- B. ● eleme ★ zeytinyağı-süt
- C. ● süzme ★ kum-taş
- D. ● süzme ★ pirinç-su

4- Aşağıdaki eşleştirmelerden hangisi yanlıştır?

- A. Börek → Karışım
- B. Parfüm → Karışım
- C. Reçel → Saf madde
- D. Tuz → Saf madde





1. Sıvı maddelerin ısı kaybederek katı hâle geçmesidir.

a-Buharlaştırma

2. Katı maddelerin ısı alarak sıvı hâle geçmesidir.

b-Donma

3. Sıvı maddelerin ısı alarak gaz hâle geçmesidir.

c-Erime

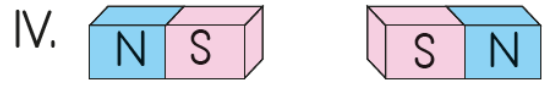
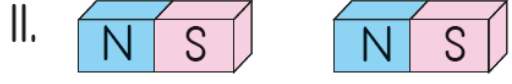
5- Yukarıdaki tanımlar ve ilgili oldukları kavramlar doğru bir şekilde eşleştirildiğinde hangi seçenekteki sonuç elde edilir?

	1	2	3
A.	b	a	c
B.	a	b	c
C.	c	a	b
D.	b	c	a

"Çevremizde beş duyu organımızla algıladığımız boşlukta yer kaplayan..... olan..... ve..... her şeye madde denir."

6- Yukarıdaki cümlede boş bırakılan yerlere aşağıdaki uygun kelimeler getirildiğinde hangisi boşta kalır?

- A. demiri                      B. kütlesi  
C. canlı                         D. cansız



7- Yukarıdaki mıknatısların hangileri birbirini çeker?

- A. II ve III  
B. I ve III  
C. III ve IV  
D. I ve II

8- Aşağıdakilerden hangisinde varlığa uygulanan kuvvetin etkisi diğerlerinden farklıdır?

- A. Limana yanaşan gemi  
B. Piste iniş yapan uçak  
C. Durağa yaklaşan otobüs  
D. Balkondan düşen saksı



**9-** Aşağıdaki anlatılardan hangisi yanlıştır?

- A. Dünya kendi eksenini etrafında doğudan batıya doğru döner.
- B. Dünya kendi eksenini etrafındaki dönüşünü 24 saatte tamamlar.
- C. Dünya kendi eksenini etrafında batıdan doğuya doğru döner.
- D. Bir gün 24 saattir.

**Selim:** Saçların ve tırnakların uzamasını sağlar. Hem hayvansal hem bitkisel besinlerde bulunur. Et ve et ürünleri süt ve süt ürünleri, yumurta, baklagiller, tahıllar ve kuruyemiş bu içerik yönünden oldukça zengindir.

**10-** Buna göre, Selim'in anlattığı besin içeriği aşağıdakilerden hangisidir?

- A. Yağ
- B. Protein
- C. Vitamin
- D. Mineral



Kayra: "Babamın nüfus cüzdanı ile kendi nüfus cüzdanımı karşılaştırdım."

**1-**Kayra, bu karşılaştırma sonucunda hangi bilginin iki nüfus cüzdanında da kesinlikle aynı olduğunu söyleyebilir?

- A. Doğum yerleri
- B. Soyadları
- C. T.C kimlik numaraları
- D. Anne adları

**1-** Lisede güreş şampiyonu oldum.

**2-** Ortaokula Atatürk Ortaokulu'nda başladım.

**3-** 10 aylıkken yürüdüm

**4-** Şuan öğretmenlik yapıyorum.

Yukarıda Hasan'ın yaşamından bazı kesitler verilmiştir.

**2-**Buna göre yukarıdaki ifadeler kronolojik olarak nasıl sıralanmalıdır?

- A. 3 - 2 - 1 - 4
- B. 2 - 3 - 4 - 1
- C. 3 - 2 - 4 - 1
- D. 4 - 3 - 1 - 2

Geçmişte yaşanan olaylarla ilgili olarak; o olayları yaşamış kişilerle yapılan görüşmelere ..... yöntemi denir.

**3-**Yukarıda boş bırakılan noktalı yere aşağıdakilerden hangisi yazılmalıdır?

- A. sözlü tarih
- B. yazılı tarih
- C. sözlü anlatım
- D. yazılı anlatım

**4-** Aşağıdakilerden hangisi kültürümüzü yansıtan çocuk oyunlarından birisi değildir?

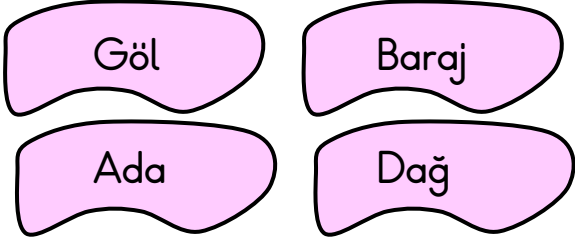




Milli Mücadele yıllarında ülkemizin durumu hakkında bazı öğrenciler aşağıdaki bilgileri vermiştir.

**5-** Hangi öğrencinin verdiği bilgi yanlıştır?

- A. **Sevde:** Türk halkı uzun süren savaşımlardan yorgun düşmüştür.  
B. **Şeyma:** Yurdumuz dört bir yandan işgal edilmiştir.  
C. **Kayra:** Kadınlar da mücadele etmiştir.  
D. **Zeynep:** Türk milleti başlayan işgallere karşı sessiz kalmıştır.



**6-** Yukarıda verilenlerden hangisi doğal çevrenin unsurlarından biri değildir?

- A. Göl  
B. Baraj  
C. Ada  
D. Dağ

Aşağıda bazı ihtiyaçlar ve bu ihtiyaçları karşılayan meslekler eşleştirilmiştir.

İhtiyaç Alanı	Meslek
I. Güvenlik →	Polis
II. Sağlık →	Hemşire
III. Ulaşım →	Çiftçi
IV. Giyim →	Terzi

**7-** Buna göre eşleştirmelerden hangisi yanlıştır?

- A. I  
B. II  
C. III  
D. IV

I. Teknolojik ürünler kullanım kılavuzuna uygun olarak kullanılmalıdır.

II. Teknolojik ürünleri başkalarına ve doğaya zarar vermeden kullanmalıyız.  
III. Teknolojik ürünlerin çevreye sadece yararları vardır.

IV. Kullanım kılavuzları teknolojik ürünleri nasıl kullanacağımızı gösterir.

**8-** Yukarıdaki ifadelerden hangileri doğrudur?

- A. Yalnız I  
B. I ve II  
C. Yalnız III  
D. I, II ve IV



- I. Alışveriş öncesi liste hazırlar.
- II. Gıda ürünlerinin üretim ve son kullanma tarihine dikkat eder.
- III. Reklamı çok yapılan ürünleri tercih eder.
- IV. Önce ihtiyacını, sonra isteğini alır.

**9-**Yukarıdakilerden hangisi bilinçli tüketici için söylenemez?

- A. IV
- B. III
- C. II
- D. I

**10-**Aşağıdaki görsellerden hangisi tüketici haklarını korumakla ilgili değildir?





Bu test 5 sorudan oluşmaktadır.



1-Resim aşağıdaki seçeneklerin hangisini ifade etmektedir?

- A. Spring
- B. Winter
- C. Autumn
- D. Summer



2-Resim aşağıdaki seçeneklerin hangisini ifade etmektedir?

- A. Tennis player
- B. Fisherman
- C. Basketball player
- D. Firefighter

Çiçekleri sulayalım.

3-İngilizce karşılığı hangisidir ?

Let's plant a tree.

Let's water the flowers.

Let's cover the box.

Let's do the experiment.



4-Görsel dikkate alınarak yukarıda boş bırakılan yere aşağıdaki seçeneklerden hangisi gelmelidir?

- A. Take shower
- B. Watch TV
- C. brush
- D. make the bed



5-Oscar: Where is the rabbit?

Oliver: It is ..... the hat.

- A. in
- B. on
- C. under
- D. near

Sevgili ÖĞRETMEN ve VELİLERİMİZ;  
Deneme Sınavına Teşekkür Mahiyetinde  
Sosyal Medya Sayfamızı Beğenirseniz  
Çok Mutlu Oluruz.

Aşağıdaki Linklerden Bizlere Ulaşabilirsiniz.

[www.ilkokulevim.com](http://www.ilkokulevim.com)

[www.instagram.com/ilkokulevim](http://www.instagram.com/ilkokulevim)

[www.facebook.com/ilkokulevim](http://www.facebook.com/ilkokulevim)

[www.facebook.com/groups/272489210266407/](http://www.facebook.com/groups/272489210266407/)

[t.me/ilkokulevim](https://t.me/ilkokulevim)

### CEVAP ANAHTARI

TÜRKÇE	MATEMATİK	FEN BİLİMLERİ	SOSYAL BİLGİLER	İNGİLİZCE
1-D	1-C	1-B	1-B	1-D
2-C	2-B	2-C	2-A	2-D
3-C	3-D	3-C	3-A	3-B
4-D	4-C	4-C	4-D	4-C
5-B	5-A	5-D	5-D	5-A
6-B	6-B	6-A	6-B	
7-A	7-C	7-A	7-C	
8-C	8-C	8-D	8-D	
9-A	9-A	9-A	9-B	
10-C	10-D	10-B	10-D	