

MATEMATİK 2

2. DÖNEM DENEME SINAVI



Adı - Soyadı:

MATEMATİK
2. DÖNEM DEĞERLENDİRME SINAVI

2. Sınıf

1. Çocukların oyun oynadıkları an saat kaç olmuştur?

A) 06.00
B) 10.00
C) 10.30

ÇALIŞKAN OKUL

MATEMATİK
2. DÖNEM DEĞERLENDİRME SINAVI

2. Sınıf

6. Resimde kaç tane üçgen vardır?

A) 4 B) 5 C) 6

ÇALIŞKAN OKUL

MATEMATİK
2. DÖNEM DEĞERLENDİRME SINAVI

2. Sınıf

2. Aşağıdaki saatlerden hangisi 07.15'tir?

A) B) C)

ÇALIŞKAN OKUL

MATEMATİK
2. DÖNEM DEĞERLENDİRME SINAVI

2. Sınıf

7. En büyük kağıt para kaç TL'dir?

A) 50 B) 100 C) 200

ÇALIŞKAN OKUL

MATEMATİK
2. DÖNEM DEĞERLENDİRME SINAVI

2. Sınıf

3. 20 tane balonun yarısı havaya uçmuştur. Geriye kaç balon kalmıştır?

A) 5 B) 10 C) 15

ÇALIŞKAN OKUL

MATEMATİK
2. DÖNEM DEĞERLENDİRME SINAVI

2. Sınıf

8. Erdal, tanesi 5 TL olan hikaye kitabından 3 tane almış ve satıcıya 50 TL vermiştir. Buna göre Erdal ne kadar para üstü alacaktır?

A) 35 B) 45 C) 55

ÇALIŞKAN OKUL

MATEMATİK
2. DÖNEM DEĞERLENDİRME SINAVI

2. Sınıf

4. Aşağıdakilerden hangisi çeyrekdir?

A) B) C)

ÇALIŞKAN OKUL

MATEMATİK
2. DÖNEM DEĞERLENDİRME SINAVI

2. Sınıf

9. Kerem'in 250 lirası olduğuna göre hangisini alamaz?

A) Radyo B) Kol saati C) Bisiklet

ÇALIŞKAN OKUL

MATEMATİK
2. DÖNEM DEĞERLENDİRME SINAVI

2. Sınıf

5. Aşağıdaki şekillerden hangisinin köşesi yoktur?

A) B) C)

ÇALIŞKAN OKUL

MATEMATİK
2. DÖNEM DEĞERLENDİRME SINAVI

2. Sınıf

10. Yukarıdaki sayma kaç ritmik saymadır?

A) 3'er B) 4'er C) 5'er

ÇALIŞKAN OKUL

MATEMATİK
2. DÖNEM DEĞERLENDİRME SINAVI

2. Sınıf





11. Yandaki çıkarma işleminde \blacktriangle hangi sayıdır?

$$\begin{array}{r} \blacktriangle \\ - 20 \\ \hline 50 \end{array}$$
A) 50 B) 60 C) 70

ÇALIŞKAN OKUL

MATEMATİK
2. DÖNEM DEĞERLENDİRME SINAVI

2. Sınıf


16. Yukarıdaki örüntüde yere hangisi gelmelidir?

A)  B)  C) 

ÇALIŞKAN OKUL

MATEMATİK
2. DÖNEM DEĞERLENDİRME SINAVI

2. Sınıf

12. Aşağıdakilerden hangisi okulların kapalı olduğu günlerden biridir?
A) Salı B) Cuma C) Pazar



ÇALIŞKAN OKUL

MATEMATİK
2. DÖNEM DEĞERLENDİRME SINAVI

2. Sınıf

17. Yandaki veri tablosuna göre okulda en çok hangi top vardır?

OKULDAKİ TOP SAYILARI	
Futbol	19
Basketbol	11
Voleybol	9


A) Futbol B) Basketbol C) Voleybol

ÇALIŞKAN OKUL

MATEMATİK
2. DÖNEM DEĞERLENDİRME SINAVI

2. Sınıf

13. Bir yılda kaç ay vardır?
A) 8 B) 10 C) 12



ÇALIŞKAN OKUL

MATEMATİK
2. DÖNEM DEĞERLENDİRME SINAVI

2. Sınıf

18. Yandaki veri tablosuna göre okulda en az hangi top vardır?

OKULDAKİ TOP SAYILARI	
Futbol	19
Basketbol	11
Voleybol	9


A) Futbol B) Basketbol C) Voleybol

ÇALIŞKAN OKUL

MATEMATİK
2. DÖNEM DEĞERLENDİRME SINAVI

2. Sınıf





14. Aşağıdaki ölçme birimlerinden hangisi daha uzundur?
A) Kulaç B) Karış C) Parmak



ÇALIŞKAN OKUL

MATEMATİK
2. DÖNEM DEĞERLENDİRME SINAVI




2. Sınıf

19. Yukarıdaki meyvelerin kütlelerine göre büyükten küçüğe doğru sıralanışı hangisidir?

A) 
B) 
C) 

ÇALIŞKAN OKUL

MATEMATİK
2. DÖNEM DEĞERLENDİRME SINAVI

2. Sınıf



15. Aşağıdakilerden hangisini uzunluk ölçmede kullanamayız?
A)  B)  C) 

ÇALIŞKAN OKUL

MATEMATİK
2. DÖNEM DEĞERLENDİRME SINAVI

2. Sınıf

20. Sürahide 5 bardak süt bulunmaktadır. 2 bardak Ali, 2 bardak ta kardeşi içmiştir. Geriye kaç bardak süt kalmıştır?
A) 1 B) 2 C) 3

ÇALIŞKAN OKUL



Testin çözümlerini YOUTUBE / ÇALIŞKAN OKUL kanalından izleyebilirsiniz.