

3. SINIF MATEMATİK GEOMETRİK CİSİMLER

- Aşağıda verilen geometrik cisimlerin adlarını yazınız.



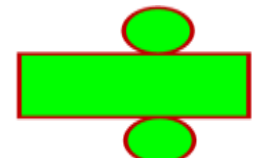
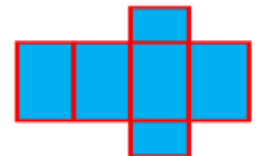
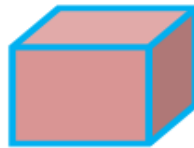
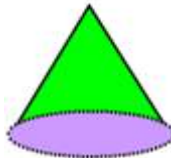
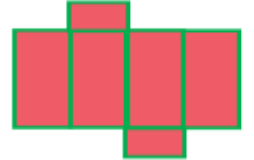

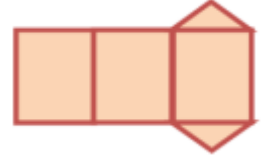
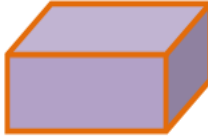
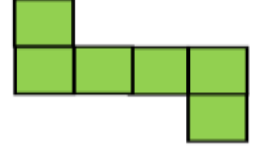

İskender07

- Aşağıda verilen şekiller hangi geometrik cisime benziyor yazınız.



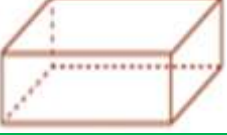





İskender07

- Aşağıda verilen geometrik cisimlerle açılımlarını numaralandırarak eşleştiriniz.

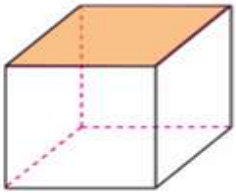


- Aşağıdaki tabloda boş bırakılan yerleri doldurunuz.

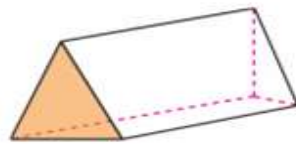
GEOMETRİK CİSMİN ADI	AYRIT SAYISI	KÖŞE SAYISI	YÜZEY SAYISI	YÜZEYLERİN ŞEKLİ
				
				
				
				
				
				

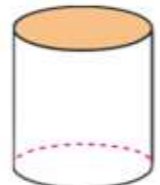
İskender07

- Aşağıdaki geometrik cisimlerin boyalı olan yüzeylerinin isimlerini yazınız.









- Aşağıdaki cisimlerden ayırıtı olmayanları maviye boyayınız.



İskender07

- Aşağıda özellikleri verilen geometrik cisimleri eşleştiriniz.


ÖZELLİKLERİ:

- 1-8 köşesi
- 2-12 ayrıtı(kenarı)
- 3-6 yüzü vardır.
- 4- Yüzleri düz ve dikdörtgensel bölgedir.
- 5-Karşılıklı yüzleri eşittir.



ÖZELLİKLERİ:

- 1-Köşesi yoktur.
- 2-Ayrıtı(kenarı) yoktur.
- 3-Alt ve üst yüzleri birbirine eş daire şeklindedir.
- 4- Yan yüzü eğridir.
- 5-Yan yüzü açıldığında dikdörtgensel bölge oluşur.



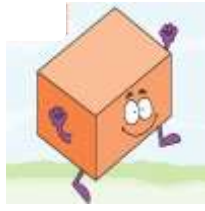
ÖZELLİKLERİ:

- 1-6 köşesi
- 2-9 ayrıtı(kenarı)
- 3-5 yüzü vardır.
- 4- Alt ve üst yüzleri eşittir. Üçgensel bölge şeklindedir.
- 5-Yan yüzleri üç tanedir. Herbiri dikdörtgensel bölgedir.



ÖZELLİKLERİ:

- 1-8 köşesi
- 2-12 ayrıtı(kenarı)
- 3-6 yüzü(karesel bölge) vardır.
- 4-Ayrıtları birbirine eşittir.
- 5-Yüzleri birbirine eşittir.



ÖZELLİKLERİ:

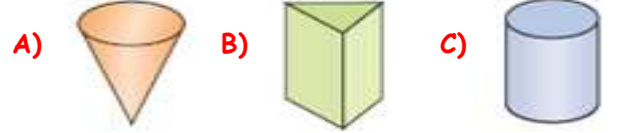
- 1-Köşesi yoktur.
- 2-Ayrıtı(kenarı) yoktur.
- 3-Alt yüzü daire şeklindedir. Diğer parçası(üst tarafı)eğri yüzeydir.



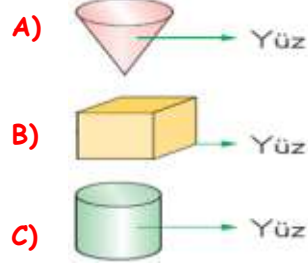
İskender07

- Aşağıda okunuşu verilen çoktan seçmeli soruları cevaplayınız.

1-) Aşağıdaki geometrik şekillerden hangisinin eğri yüzü yoktur?



2-) Aşağıdaki geometrik şekillerden hangisinin yüzü yanlış gösterilmiştir?



3-) Aşağıdaki geometrik cismin hangi seçenekte yüz ve köşe sayısı doğru verilmiştir?



	Yüz	Köşe
A)	6	12
B)	6	9
C)	6	8

4-) Aşağıdaki geometrik cisimlerden hangilerinin ayrıtı yoktur?

- A)Küp, kare prizma B)silindir, koni C) üçgen prizma

5-) Silindir ile ilgili verilen bilgilerden hangisi yanlıştır?

- A)Köşesi yoktur
B)Yan yüzeyi eğridir
C) İki yüzeyi vardır

5-) Aşağıdaki geometrik cisimlerden hangisinin yan yüzü eğri tabanı daire şeklindedir?



İskender07