

2. SINIF
2. DÖNEM
2. KAZANIM DEĞERLENDİRME SINAVI



CEVAP ANAHTARI



Bu bir ETKİLEŞİMLİ PDF'dir.
Yani denemeyi telefon, tablet veya
bilgisayarda işaretleyerek
çözebilirsiniz. Bunun için
bu cihazlarınıza Adobe Reader
uygulamasını kurmanız yeterlidir.
Sınavı isterseniz yazıcıdan çıktı alarak
da çözebilirsiniz.

Bu deneme sınavı **Giray KARAGÜN**
tarafından hazırlanmıştır.



KEDİM

Kedim henüz bir yaşında,
Uyuyor soba başında.
Hem cesurdur, hem de kurnaz,
Bir tıkırtı duyar duymaz,
Uyanır aslan kesilir,
Gözleri volkan kesilir.
O geldiği günden beri,
Bizim evin fareleri,
Damdan, tavandan indiler,
Birer deliğe sindiler.
Koşup yakalıyor hemen,
Yuvasından, deliğinden
Çıkanları diri diri.
Artık bunlardan hiç biri,
Dolaplarıma girmiyor,
Kitapları kemirmiyor.
Orhan Seyfi ORHON

Giray KARAGÜN

3 Aşağıdakilerden hangisi yukarıdaki şiirde geçen **diri** sözcüğünün eş anlamlısıdır?

A ölü

B canlı

C hasta

"Ellerimizi sık sık yıkayarak mikrop-
lardan ve hastalıklardan korunuruz."

8 KELİME

4 Kerem, yukarıdaki cümleyi yazarken sözcüklerin arasında boşluk bırakmayı unutmuş. Acaba bu cümle kaç kelimedenden oluşmaktadır?



A 8

B 9

C 10

Giray KARAGÜN

1., 2. ve 3. soruyu şiire göre cevaplayınız.

EVVEL ve ÖNCE KELİMELERİ EŞ ANLAMLIDIR VE ÇİÇEKTE O YAPRAKLAR KOPARILMALIDIR.

1 Aşağıdakilerden hangisi yukarıdaki şiirle ilgili bir görsel değildir?



>Cesur< >2 yaşında< >Kurnaz<
>1 yaşında< >Korkak< >Şaşkın<

2 Yukarıdakilerden kaç tanesi şairin kedisinin özelliğidir?


A 5

B 4

C 3

Giray KARAGÜN

5 Yukarıdaki çiçeğin yapraklarında zıt anlamlıları eşleştirdikten sonra zıt anlamı olmayan yaprakları koparırsak çiçeğin son görüntüsü hangisi olur?



A



B



C





TÜRKÇE



Yemeği yapalım mı?

6 Aşımızın cümlesi hangi kelime ile tamamlanamaz?

- A birlikte B mutfakta C dün



Giray KARAGÜN

- herkez kirbit dakika üçken
spor tren sovan beşgen

7 Yukarıdaki kelimelerden kaç tanesi doğru yazılmıştır?

- A 2 B 3 C 6

Amasyalılar şeklinde yazılmalıdır. Özel isimlere gelen yapım ekleri kesme işareti ile ayrılmaz.

8 Aşağıdaki cümlelerden hangisinde noktalama işaretlerinin kullanımıyla ilgili yanlışlık yapılmıştır?

- A Hatay'ın yemekleri çok lezzetlidir.
 B Amasyalılar semaver çayını çok sever.
C İzmit'in pişmaniyesi çok ünlüdür.

9 Aşağıdaki cümlelerden hangisinde kim, ne zaman ve nerede sorularının hepsinin cevabı vardır?

- A Meryem yarın önemli bir sınava girecek.
 B İpek dün akşam bahçede yavru bir kedi buldu.
C Melek, bahçelerinde çok lezzetli domatesler yetiştirir.

Kim buldu? İpek / Ne zaman buldu? Dün akşam / Nerede buldu? Bahçede.

- kara kasa ??? kaza

10 Yukarıdaki kelimeler sözlük sırasına göre dizilmiştir. Soru işareti olan kutucuğa hangi kelime gelemez?

- A kaya B kasırğa C karga

Karga kelimesi sözlükte kara kelimesinden sonra gelebilir. Kasa'dan sonra kasırğa ve kaya gelebilir.



11 Yukarıdaki resmi en iyi anlatan cümle hangisidir?

- A Yusuf, köylerinin yakınında; deniz kıyısında balık yakalıyor.
B Yağız, köylerinin yakınındaki gölde balık yakalıyordu.
 C Ömer, köylerinin yakınındaki dereye balık yakalıyor.

Giray KARAGÜN





TÜRKÇE



12



Sessiz okuma yaparken nelere dikkat etmeliyiz?

Ahmet öğretmenin sorusuna hangi öğrenci doğru cevap vermiştir?



Sessiz okuma yaparken gözümle takip ederek okurum.

B



Sessiz okuma yaparken fısıltı çıkararak okurum.

C



Sessiz okuma yaparken dudaklarımı kıpırdatırım.

13



4 harfli ve 1 heceden oluşan kelime örneği veriniz.

Elif öğretmenin sorusuna hangi öğrenci yanlış cevap vermiştir?

A



SERT

B



TURP



SARI

SA-RI İKİ HECEDİR.

14

Hece sayısı fazla olan kelime tahterevallide daha ağır gelmektedir. Buna göre hangi tahterevallinin durumu doğrudur?

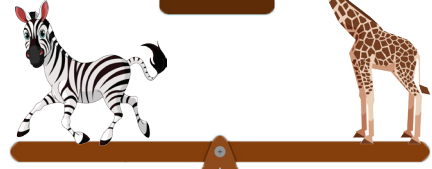
U-ÇAK
2 HECE

O-TO-BÜS


3 HECE



B



C



Gıray KARAGÜN

Gıray KARAGÜN

1

Dışarıdan bir ses geldi ve ve hemen cama koştum, sokağa baktım.

2

Sokağa çıkma yasağı olduğu için sokak bomboştu ve kimsecikler yoktu.

4

Tenekenin peşinde şirin mi şirin yavru bir kedi koşuyor ve oyun oynuyordu.

3

O sırada dikkatimi çöpün yanında yuvarlanan bir tenekede çaktı.

15

Yukarıdaki karışık cümleleri olayların oluş sırasına göre sıralarsak doğru sıralama nasıl olur?

A



C



Gıray KARAGÜN

3

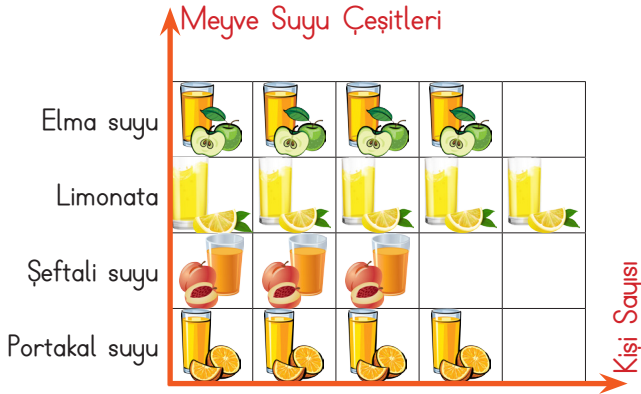




MATEMATİK



NESNE GRAFİĞİ : 2-B ve 2-C Sınıfında
Sevilen Meyve Suyu Çeşitleri



NOT : Her nesne 4 öğrenciyi göstermektedir.

1. , 2. ve 3. soruyu nesne grafiğine göre cevaplayınız.

1



Grafiğe göre en çok sevilen meyve suyunu, en az sevilen meyve suyundan kaç kişi fazla sevmektedir?

A 2

B 6

C 8

EN ÇOK SEVİLEN LİMONATA $5 \times 4 = 20$ KİŞİ
EN AZ SEVİLEN ŞEFTALİ SUYU $3 \times 4 = 12$ KİŞİ

$$20 - 12 = 8 \text{ KİŞİ}$$

2



Grafiğe göre eşit sayıda sevilen meyve suları hangileridir?



Elma suyu ve portakal suyu

B

Limonata ve portakal suyu

C

Limonata ve şeftali suyu

3



Grafiğe göre 2-B ve 2-C sınıfında toplam kaç öğrenci vardır?

A

16



64

C

48

ELMA SUYU $4 \times 4 = 16$ KİŞİ
LİMONATA $5 \times 4 = 20$ KİŞİ
ŞEFTALİ SUYU $3 \times 4 = 12$ KİŞİ
PORTAKAL SUYU $4 \times 4 = 16$ KİŞİ

$$16 + 20 + 12 + 16 = 64 \text{ KİŞİ}$$

GİRAY KARAGÜN



4

Manav kunduzdan kilosunu 5 lira olan çilekten 3 kilo ve kilosunu 4 lira olan elmadan 6 kilo aldım. Kunduza 50 lira verdim, kaç lira para üstü almalıyım?



11

B

15

C

39

$5 \times 3 = 15$ LİRA ÇİLEK
 $4 \times 6 = 24$ LİRA ELMA

$$24 + 15 = 39 \text{ LİRA TUTAR}$$

$$50 - 39 = 11 \text{ LİRA PARA ÜSTÜ ALMALIYIM.}$$

GİRAY KARAGÜN





MATEMATİK



Kumbaramdaki paranın 39 lirası ile bu kitabı aldım. Kaç liram kaldı?

82 LİRA
KUMBARADAKİ
PARA
 $82-39=43$ LİRA
KALIR.



5

A

23


B

33

43

Gıray KARAGÜN

Her gün bir tam ve bir yarım ekme tüketiyoruz. 8 günde kaç tane bütün ekme tüketiriz?



8

A

16

B

14

12

$8 \times 1 = 8$ TANE BÜTÜN
 8 TANE YARIM = 4 BÜTÜN
 $8+4=12$ BÜTÜN

Gıray KARAGÜN

6 Aşağıdaki saati hangi öğrenci yanlış okumaktadır?

A



Saat 5'e çeyrek var



Saat 5'i çeyrek geçiyor.

C



Saat 4'ü 45 geçiyor.




9 Yukarıdaki şekillerden yarımı gösterenlerin kutusu sarıya boyanırsa görünüm nasıl olur?


A



C



Gıray KARAGÜN



7 Yukarıdaki yarım ve çeyrek portakallar kaç tane bütün portakala eşittir?

5

B

6

C

7

9

B

8

C

7

$45/5 = 9$ GÜNDE
10 İrem 45 sayfalık bir kitabı 5 günde okuyup bitirmek istiyor. Her gün kaç sayfa kitap okumalıdır?





MATEMATİK



11 Bayramda annem 25 lira babam 46 lira harçlık verdi. Harçlıklarım ile tanesi 3 liradan bir deste kalem ve tanesi 2 liradan bir deste silgi aldım. Kaç liram kaldı?

A

11

21

C

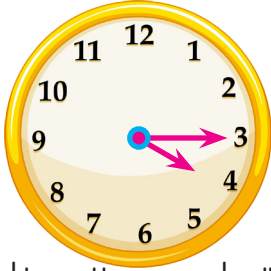
31

46+25 = 71 LİRA HARÇLIĞI OLMUŞ.

1 DESTE 10 TANE

3X10=30 LİRA KALEM 2X10=20 LİRA SİLGİ

30+20 = 50 LİRA 71-50 = 21 LİRA KALIR.



12 Yukarıdaki saatin sırasıyla öğleden önce ve öğleden sonra okunuşlarını hangi öğrenci doğru olarak söylemiştir?

A



Saat dörde çeyrek var.
Saat on altı on beş.

B




Saat dördü çeyrek geçiyor.
Saat on yedi on beş.



Saat dördü çeyrek geçiyor.
Saat on altı on beş.

13 Yandaki rulo ile düz bir şekilde duvara boya sürersek hangi şekil oluşur?


A



B

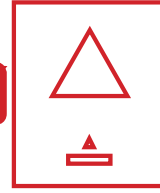
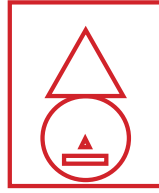


Giray KARAGÜN




14 Yukarıdaki resimde çember olan şekiller silinirse nasıl bir görüntü oluşur?

A

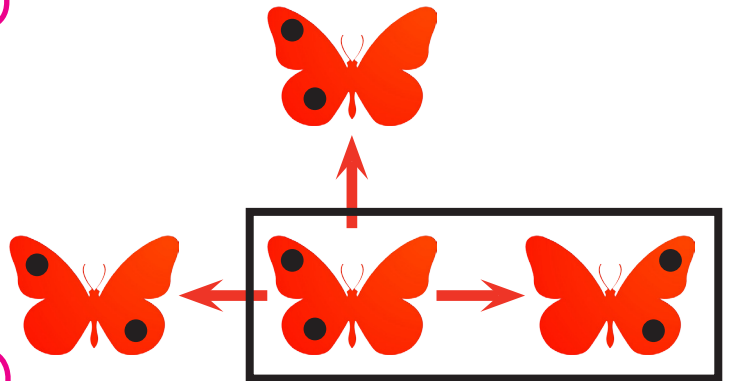


C



Giray KARAGÜN

Giray KARAGÜN



15 Ortadaki kelebek simetriğine doğru uçacak, hangi yöne doğru uçar?

Sağ

B

Yukarı

C

Sol





HAYAT BİLGİSİ



1 Aşağıdakilerden hangisi doğal unsurdur?



2 Saksıda salatalık yetiştirmek isteyen Necati sırayla şunları yaptı :

-Önce evdeki boş saksılara gübreli toprak doldurdu.

-Sonra saksılara salatalık tohumlarını serpti.

-Saksıları evlerindeki gölge bir yere koydu.

-Saksıları her gün düzenli olarak suladı.

Necati'nin ektiği salatalık tohumları yeşerdi ancak bir türlü büyümediler. Hangisinin eksik olmasından dolayı olabilir?



Bu üretim alanında çalışırken koruyucu kıyafetler giyeriz. Çiçeğin peşinde gezeriz. Elde ettiğimiz ürün çok tatlıdır.

3 Anlatımına göre resimdeki kişi hangi hayvanı yetiştirmektedir?



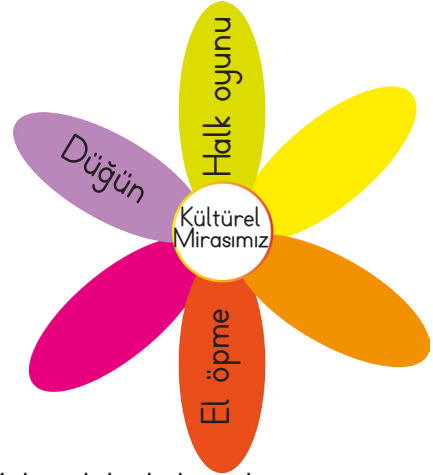
4 Muhammed, savaş sebebiyle ülkemize gelmiş bir çocuktur. Mahallelerine yeni taşınan Muhammed'e karşı Mehmet ve arkadaşlarının nasıl davranması doğru değildir?



- A Muhammed ile tanışmalılar.
B Muhammed Türkçe öğrenene kadar oyunlarına almamalıdır.
C Muhammed'e karşı hoşgörülü olmalı.

Gıray KARAGÜN

Gıray KARAGÜN



5 Yukarıdaki kültürel mirasımız çiçeğinde, kültürümüze ait olmayan yapraklar koparılsa çiçeğin son görünümü nasıl olur?



NOEL, CADILAR BAYRAMI VE PASKALYA BİZİM KÜLTÜRÜMÜZE AIT DEĞİLDİR.

6 Küçükken hep bu mesleği yapmak istedim ve gittiğim okullar hep bu mesleğe yönelikti. Atamızın yaşamı boyunca sürdürdüğü bu meslek hangisidir?



- A Doktorluk
B Öğretmenlik
C Askerlik

Gıray KARAGÜN



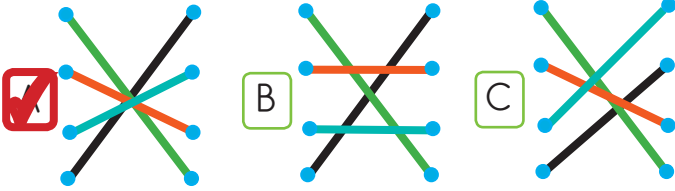


HAYAT BİLGİSİ



23 Nisan	Atatürk'ü Anma, Gençlik ve Spor Bayramı
29 Ekim	Zafer Bayramı
30 Ağustos	Cumhuriyet Bayramı
19 Mayıs	Ulusal Egemenlik ve Çocuk Bayramı

7 Milli bayramlarımızı, tarihleri ile eşleştirsek hangi desen ortaya çıkar?



Giray KARAGÜN

9 İstiklal Marşımız ile ilgili hangi öğrenci yanlış bilgi vermiştir?

A



İstiklal Marşımızın şairi Mehmet Akif Ersoy'dur.

B



İstiklal Marşımız okunurken yürümeye devam edebiliriz.

C

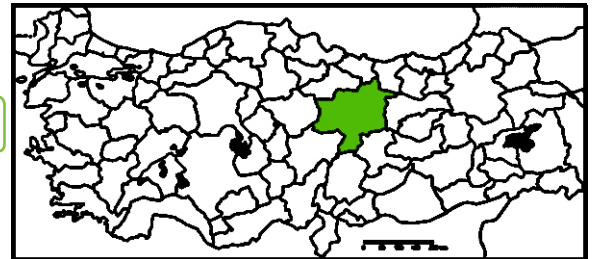


İstiklal Marşımız özgürlük ve bağımsızlığımızın sembolüdür.

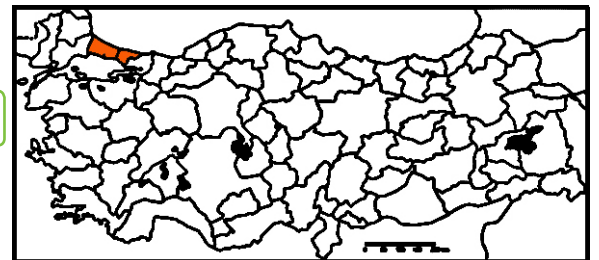
Giray KARAGÜN

10 Başkentimiz hangi haritada doğru olarak boyanmıştır?

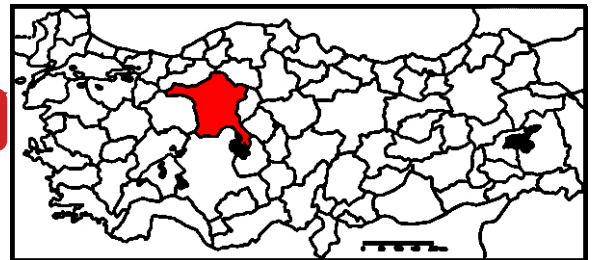
A



B



C



Giray KARAGÜN



Annem evin her yerini temizledi ve baklava yaptı. Çarşıdan hepimize yeni giysiler aldık. Sabah uyanıp güzel bir kahvaltı yaptık. Büyüklerimizi ve akrabalarımızı ziyaret ettik. Bize misafirlige gelenler oldu; şeker ve baklava ikram ettik.

8 Ecrin'in bahsettiği özel gün hangisi olamaz?

A

Ramazan Bayramı

B

Kurban Bayramı

C

Miraç Kandili





1 Güneş hangi renktedir?

- A Red B Blue Yellow



2 Görsele uygun cümle hangisidir?

A Open the door.

Close the door

C Close the window.

My name is Pamuk Prenses.
This is my
It is on my

3 Boşluklara sırayla gelmesi gereken kelimeler hangileridir?

- A bird head B cat finger bird finger



4 What colours are his costume?

Blue, red, yellow

B Blue, red, pink

C Blue, white, yellow

Giray KARAGÜN

Giray KARAGÜN

Giray KARAGÜN



5 Numaralandırılmış organların isimleri sırasıyla hangisidir?

A Ear, nose, eye

Nose, ear, eye

C Nose, eye, ear

