

UZUNLUKLARI ÖLÇME

1. Etkinlik: Aşağıda yapılan ölçüm sonuçlarını yazalım.



Çatal :



Çiçek :



Mandal :




Bıçak :



Ataç :



Tırtıl :



Çivi :



İğne :

2. Etkinlik: Ölçümlere bakarak aşağıda istenilen toplamları bulalım.




2 tane ataş :




2 tane kalem :



3 tane iğne :



3 tane çivi :



1 ataş + 1 çivi :



1 iğne + 1 tırtıl :