

# 1. Sınıf Kendimi Değerlendiriyorum- 1

## BİR YIL

Güneş ve Dünya birbirlerinden ayrılmayan çok iyi iki arkadaşmış. Dünya kendi etrafında çok güzel dönebiliyormuş. Güneş ise çevresindeki arkadaşlarına ısı ve ışık veriyormuş.

Bir gün Dünya, Güneş'in etrafında dönmeye karar vermiş. Bu uzun yolculukta Dünya çok yorulmuş ama yolculuğunu da bir yılda bitirmeyi başarmış ...

Ömer USLU

1 ve 2. soruyu yukarıdaki metne göre cevaplayalım.

1. Güneş, çevresindekilere ne veriyormuş?

- A) ısı ve ışık
- B) gece ve gündüz
- C) bir yıl

2. Dünya, neye karar vermiş?

- A) Kendi etrafında dönmeye
- B) Güneş'in etrafında dönmeye
- C) Eve gitmeye

3. Aşağıdaki görsele en uygun cümle aşağıdakilerden hangisi olabilir?



- A) Düzenli beslenirim.
- B) Parka gidiyoruz.
- C) Dişlerimi düzenli fırçalarım.

4. Aşağıdakilerden hangisi özel ad olamaz?

- A) Mehmet
- B) Kalem
- C) Ankara

5. Hangi seçenekte yandaki meyvenin adı doğru hece-lenmiştir?



- A) por-tak-al
- B) por-ta-kal
- C) port-a-kal

# 1. Sınıf Kendimi Değerlendiriyorum- 1



1



2



3

6. Görseldeki olayın oluş sırası aşağıdakilerden hangisidir?

A) 1-2-3

B) 2-3-1

C) 2-1-3

7. "Köyümüzün yolu çok dar." Yukarıdaki cümlede çizili kelimenin zıt anlamlısı aşağıdakilerden hangisidir?

A) Uzun

B) Kısa

C) Geniş

8. Hangi cümlenin sonuna soru işareti ( ? ) gelmelidir?

A) Bu kalemleri ne zaman aldın

B) Uçurtmayı Beren yapmış

C) Annem kurabiye yapıyor

9. Aşağıdaki hayvanlardan hangisinin adı üç hecelidir?

A)



B.)



C)



" Babaannem ..... suladı. "

10. Yukarıdaki cümlede noktalı yere hangi kelime gelmelidir?

A) yumurtaları

B) çiçekleri

C) bulutları

# 1. Sınıf Kendimi Değerlendiriyorum- 1

1. Aşağıdaki öğrencilerden hangisi sınıf içi kurallara uygun bir davranış göstermiştir?

A)



B)



C)



➔ Okul müdürü

➔ Öğretmenler

➔ Kantin çalışanı

➔ Temizlik görevlisi

2. Yukarıda verilenlerden kaç tanesi okul çalışanıdır?

A) 4

B) 3

C) 2

3. Bayrağımız ve İstiklal Marşı'mız neyi temsil eder?

A) İletişim araçlarını

B) Bağımsızlığımızı

C) Güvenli oyun alanlarını

4. Aşağıdakilerden hangisi okul tuvaletlerini kullanırken dikkat etmemiz gereken kurallardan değildir?

A) Tuvaletten önce ve sonra ellerimizi sabunla yıkamalıyız.

B) Tuvaletlerde oyalanmalıyız.

C) Tuvalete girince ve çıkınca sifonu çekmeliyiz.

5. Aşağıdakilerden hangisi ailemizin üyelerimiz üyelerinden değildir?

A)



B)



C)



## 1. Sınıf Kendimi Değerlendiriyorum- 1

6. Aşağıdakilerden hangisi güvenli oyun alanı değildir?

- A) Parklar
- B) Okul bahçesi
- C) İnşaat alanları

7. Aşağıdakilerden hangisi itfaiyenin telefon numarasıdır?






- A) 1-1-2
- B) 1-5-5
- C) 1-1-0

8. Aşağıdakilerden hangisi elektrikli ev aletlerini kullanırken uymamız gereken kurallardan değildir?

- A) Islak elle kullanmamalıyız.
- B) Ütü, fırın gibi tehlikeli aletleri tek başımıza kullanmalıyız.
- C) Kullanılmayan elektronik araçların fişini prizden çekmeliyiz.

9. Aşağıdakilerden hangisi okul geçidi işaretidir?

- A) 
- B) 
- C) 

10. Aşağıdakilerden hangisi nezaket ifadesi değildir?

- A) Özür dilerim!
- B) Afedersin!
- C) Kapa çeneni!

11. Aşağıdakilerden hangisini yaparsam görgü kurallarına uymayan bir davranış olur?

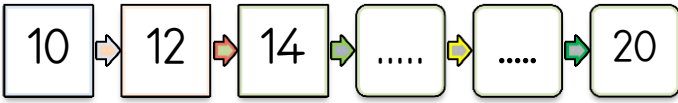
- A) Ayakta dolaşarak yemek.
- B) Yemeğimizi çiğnerken ağızımızı kapalı tutmak.
- C) Tabağımıza yiyeceğimiz kadar yemek almak.

# 1. Sınıf Kendimi Değerlendiriyorum- 1



1. Yukarıda okunuşu verilen sayı aşağıdakilerden hangisidir?

- A) 9
- B) 18
- C) 19




2. Yukarıdaki ikişer ritmik saymada boş kutulara hangi sayılar yazılmalıdır?

- A) 15-16
- B) 16-18
- C) 17-18

3. Aşağıdaki toplam işlemlerinden sonucu en büyük olan hangisidir?

- A)  $8 + 7 =$
- B)  $7 + 6 =$
- C)  $9 + 7 =$



4. Elmaların sayısı kaç onluk, kaç birlikten oluşur?

- A) 1 onluk, 6 birlik
- B) 1 onluk, 5 birlik
- C) 6 onluk, 1 birlik



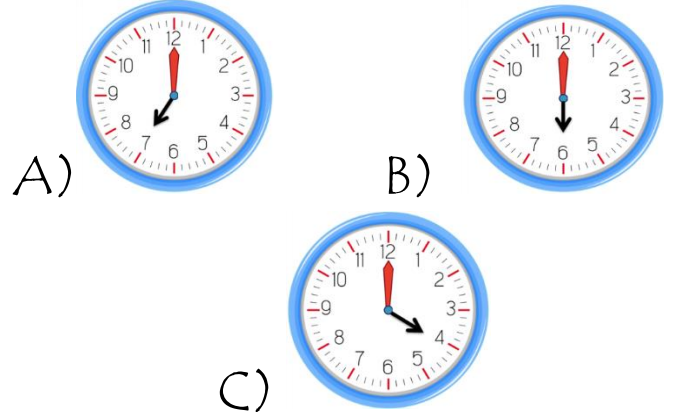
5. 6 tane yarım karpuz kaç tane bütün karpuz eder?

- A) 4
- B) 3
- C) 2

6. Yandaki saat-ten bir saat sonra akşam yemeğimi yedim.



Akşam yemeğimi yediğimde saat kaçı gösterir?



# 1. Sınıf Kendimi Değerlendiriyorum- 1




7. On beşten, altı çıkardım. Sonucu dokuz buldum.



Miray Su'nun yaptığı işlem hangisidir?

- A)  $10 - 5 = 5$     B)  $15 - 9 = 6$   
C)  $15 - 6 = 9$

8. Göktürk'ün cebinde 14 lirası vardı. 7 lirasını harcadı. Kaç lirası kaldı?

- A)     B)     C) 

9. Aşağıdakilerden hangisi çıkarma işleminin elemanlarından değildir?

- A) eksilen    B) çıkan  
C) toplanan

10. Işıl 6 yaşındadır. Kardeşi Ece, ondan 4 yaş küçüktür. İkisinin yaşları toplamı kaçtır ?

- A) 2    B) 8    C) 10

11. Hangi seçenekteki paraların toplam değeri diğerlerinden fazladır?

- A)   
B)   
C) 

12. Yandaki limonları bütün yarım olarak nasıl ifade ederiz?



- A) Bir bütün bir yarım  
B) Bir bütün iki yarım  
C) İki bütün bir yarım

13. Hangi saatin gösterdiği zaman yanlış yazılmıştır?

- A)  saat:09.30

- B)  saat:03.30

- C)  saat:05.30

