


1. Aşağıdaki nesnelere hangisi tartma ile ilgilidir?



2.



Yukarıdaki ürünlerden hangisinin kütlesi daha fazladır?

A)  B)  C) 

3. Aşağıda kütleleri verilen nesne gruplarının hangisi diğerlerinden daha az kütleye sahiptir?

A)  1 kg elma 1 kg üzüm

B)  2 kg nohut 2 kg pirinç

C)  3 kg un 1 kg şeker

4.

Kütle ölçü birimi	•	•	m
Uzunluk ölçü birimi	•	•	kg
Kütle ölçü aracı	•	•	tartı

Yukarıdaki eşleştirmeler hangi seçenekte doğru şekilde verilmiştir?



5. Aşağıdaki ölçüm araçları gruplarından hangileri kütle ölçüm aracıdır?

A) tartı mezura

B) terazi tartı

C) terazi metre

6. Nesnelerin kütlelerini bulmak için tartmamız gerekir. Nesnelerin kütle birimi ile ifade edilir.

Yukarıdaki ifadeye göre boşluğa hangi seçenekteki terim gelmelidir?

A) santimetre

B) kilogram veya gram

C) metre

7.



Yukarıdaki nesnelere kütleleri en fazla olan ile en az olan hangi seçenekte verilmiştir?

A) ●● B) ●● C) ●●

8.

Ölçümler	kg	m	cm
Sınıfın boyu			
Sıranın kütlesi			
Kitabın boyu			

Yukarıdaki tabloyu ✓ atarak doldurduğumuzda hangi seçeneğe ulaşırız?

A)

	✓	
✓		
		✓

 B)

✓		
		✓
	✓	


C)

	✓	
		✓
✓		

9. Aşağıdaki nesne gruplarının hangisi daha fazla kütleye sahiptir?

A) Bir çuval un
B) Bir torba un
C) Bir tabak un


10.



Yukarıdaki nesnelere ilgili bilgilerden hangisi doğrudur?

A) İkisi de aynı malzemedir.
B) İkisinin de kütleleri aynıdır.
C) İkisinin de kütleleri farklıdır.

11. Aşağıdaki görsellerden hangisi kütle ile ilgilidir?



12. birimi kilogramdır. Kilogram standart ölçümlerde önemlidir.

Yukarıdaki ifadede boşluğa hangi terim gelmelidir?

A) metre B) kütle
C) uzunluk

13. 12 kg un ile 17 kg şekerin kütleleri toplamı kaçtır?

A) 29 B) 17 C) 12

14. Defne 50 kg'lık pirincin 13 kg'ını büyük kavanozlara aktarmıştır. Defne'nin aktarmadığı kaç kg pirinç kalmıştır?

A) 13 B) 27 C) 37

15. Kütleleri sırasıyla 11 kg, 9 kg ve 20 kg olan üç malzemenin toplamı kaç kg eder?

A) 29 B) 40 C) 42

16. Bir torba nohut 3 kg'dır. İrem 7 torba nohut alırsa, kaç kg nohuta sahip olmuş olur?
A) 12 B) 21 C) 24
17. Esin'in kütlesi 21 kg'dır. Esin ve annesinin kütleleri toplamı 71 kg olduğuna göre, Esin'in annesinin kütlesi kaç kg'dır?
A) 30 B) 40 C) 50
18. 20 kg olan tuzu, 2 kg olan torbalara doldurmak için kaç tane torbaya ihtiyaç vardır?
A) 10 B) 18 C) 12
19. 82 kg olan Aysel Hanım, doğru beslenme ve spor ile 17 kg zayıflamıştır. Aysel Hanım zayıfladıktan sonra kaç kg olmuştur?
A) 75 B) 65 C) 60
20. 12 liraya, kilogramı 3 lira olan limondan kaç kg alırız?
A) 4 B) 2 C) 1
21. Kullanmadığı ürünleri kolileyen Azad; 12 kg, 8 kg ve 10 kg olan üç tane koliyi üst üste dizmiştir. Dizilen kolilerin toplam kütlesi kaç kg'dır?
A) 30 B) 20 C) 18
22. Kuzenim Nazli'nin beş yıl önceki kilosu 52 kg'dır. Bu yılki kilosu 60 kg olduğuna göre, kuzenimin kütlesi beş yılda kaç kg artmıştır?
A) 12 B) 10 C) 8
23. Mehmet, kütleleri 2 kg, 5 kg ve 7 kg olan paketleri üst üste koyarak taşımıştır. Mehmet'in taşıdığı kütle kaç kg'dır?
A) 15 B) 14 C) 13
24. İlke'nin arabasının bagajında koliler vardır. İlke bagajına 14 kg'lık bir koli daha koymuştur. Tüm kolilerin kütlesi 83 kg olduğuna göre, bagajda duran kolilerin kütlesi kaç kg'dır?
A) 60 B) 66 C) 69

25. Kütlesi 26 kg olan Görkem ile kütlesi 27 kg olan Gizem'in kütleleri toplamı kaç kg'dır?
A) 53 B) 43 C) 32
26. 16 kg olan bulguru, 2 kg'lık torbalara paylaşırsak kaç tane torba elde etmiş oluruz?
A) 10 B) 8 C) 6
27. Annem 54 kg'dır. Benim kütlem annemin kütlesinden 20 kg eksik olduğuna göre, ikimizin kütleleri toplamı kaçtır?
A) 88 B) 74 C) 34
28. 50 kg patatesin önce 10 kilogramı, daha sonra 14 kilogramı satılmıştır. Satılmayan kaç kg patates kalmıştır?
A) 40 B) 36 C) 26
29. Dört kardeşin kütleleri şu şekildedir. Arda 28, Anıl 22, Tunç 25 ve Aras 29 kg. Buna göre kütlesi en fazla ve en az olan hangi kardeşlerdir?
A) Aras, Tunç
B) Arda, Anıl
C) Aras, Anıl
30. Kütlesi 4 kg olan yavru köpeğimizin dört ay sonra kütlesi 5 katına çıkmıştır. Köpeğimizin kütlesi kaç kilograma ulaşmıştır?
A) 13 B) 20 C) 24
31. Asude torbası 3 kilogram olan undan 3 torba aldı. 1 kilogramını kullanan Asude, geriye kaç kg un bırakmıştır?
A) 10 B) 8 C) 4
32. Her bir kasada 7 kilogram elma olan kasalardan 2 kasa alan Özgür Bey, bu elmaların 5 kilogramını kullandığına göre, geriye kaç kg elma kalmış olur?
A) 12 B) 9 C) 7

33. Annem 55 kg, babam ise 84 kg olduğuna göre ikisi arasında kütle farkı kaç kilogramdır?

A) 29 B) 31 C) 42

34. Her biri iki kilogram olarak doğan üçüzlerin, kütleleri toplamı kaçtır?

A) 6 B) 5 C) 4

35. Pazardan 2 kg ıspanak, 3 kg pırasa ve 4 kg havuç alan Ayşel Hanım toplam kaç kilogram sebze almıştır?

A) 4 B) 5 C) 9

36.

Meyveler	Kilogram
Ayva	14
Limon	13
Portakal	15

Yukarıdaki tabloda meyvelerin toplamı kaç kg eder?

A) 27 B) 29 C) 42