























































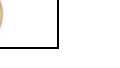


ÖDEVİM

GÖREV 1 - Aşağıda verilen tabloyu inceleyin. Sadece soruları Matematik defterinize yazarak soruları tabloya göre cevaplayın.

	 28 ₺	 32 ₺	 45 ₺	 62 ₺	 17 ₺	 24 ₺	 21 ₺	 80 ₺
Ali	     							
Ayşe	        							
Fatih	      							
Zeynep	      							
Hasan	         							
Esra	         							

PARA PROBLEMLERİ

1. Yukarıdaki tabloya göre kimin kaç parası olduğunu yazın.
Ali:..... Ayşe:..... Fatih:..... Zeynep:..... Hasan:..... Esra:.....
2. En çok parası olan çocuk kimdir ve ne kadar parası vardır?
3. En az parası olan çocuk kimdir ve ne kadar parası vardır?
4. Ali ayakkabı ve top alırsa geriye ne kadar parası kalır?
5. Ayşe'nin elbise almak için ne kadar daha paraya ihtiyacı var?
6. Fatih'in parası Zeynep'in parasından ne kadar eksiktir?
7. Tişört ve ayakkabıyı kimler alamaz?
8. Ali pantolon ve şapka alırsa ne kadar parası kalır?
9. Fatih'in mont alabilmek için ne kadar paraya ihtiyacı var?
10. Zeynep Ayakkabı ve şapka alırsa ne kadar para öder?
11. Hasan Esra'ya mont alabilmesi için borç veriyor. Geriye ne kadar parası kalır?

GÖREV 2- Aşağıda verilen soruları cevaplarıyla birlikte Matematik defterinize yazın.

ZAMAN ÖLÇME PROBLEMLERİ

1. Yaz tatilinde 1 ay 10 günlüğüne köye gittik. Köyde kaç gün kaldım?
2. Ayşe sabah akşam birer ilaç kullanıyor. Bir haftada kaç tane ilaç içer?
3. Dışarıda yağmur 2 gün 7 saat boyunca yağdı. Toplam kaç saat yağmur yağdı?
4. Akşam 22:00'da uyuyup sabah 08:00'de uyanırsam ne kadar süre uyumuş olurum?
5. Ali babasından günlük 3 TL harçlık alıyor. Ali 1 haftada ne kadar para biriktirir?